



الرياضيات



بِسْمِ اللَّهِ الرَّحْمَنِ الرَّحِيمِ



دولة فلسطين
وزارة التربية والتعليم العالي

الرياضيات

الجزء الأول

للفيف الثاني الثانوي

العلمي والصناعي

المؤلفون

أ. محمد عالية
أ. محمد يوسف الجمل

أ. علي خليل حمد
د. محمد صالح
د. عزو عفانة

د. حسن عبد الرحيم يوسف «منسقاً»
أ. محمد حلمي نجم



قررت وزارة التربية والتعليم العالي في دولة فلسطين

تدريس كتاب الرياضيات للصف الثاني الثانوي العلمي في مدارسها للعام الدراسي ٢٠٠٦ / ٢٠٠٧ م

الإشراف العام

رئيس لجنة المناهج: د. نعيم أبو الحمص

مدير عام مركز المناهج: د. صلاح ياسين

مركز المناهج

إشراف تربوي: د. عمر أبو الحمص

الدائرة الفنية

إشراف إداري: أحمد سياعرة

تصميم: كمال محمود فحماوي

الإعداد المحوسب للطباعة: حمدان بحبوح

تنفيذ: أسمهان فوزي الديسي، سمر محمود عامر، سيراء غسان سرحان

الفريق الوطني لمنهاج الرياضيات

د. فطين مسعد «منسقاً» د. الياس ضبيط شهناز الفار

علي خليل حمد د. علي خليفة ليانا جابر

د. محمد حمدان محمد مقبل وائل كشك

الطبعة الأولى التجريبية

٢٠٠٦ م / ١٤٢٧ هـ

جميع حقوق الطبع محفوظة لوزارة التربية والتعليم العالي / مركز المناهج
مركز المناهج - حي المصيون - شارع المعاهد - أول شارع على اليمين من جهة مركز المدينة
ص. ب. ٧١٩ - رام الله - فلسطين
تلفون ٢٩٦٩٣٥٠ - ٢ - ٩٧٠ + فاكس ٢٩٦٩٣٧٧ - ٢ - ٩٧٠ +
الصفحة الالكترونية: www.pcdc.edu.ps - العنوان الالكتروني: pcdc@palnet.com

رأت وزارة التربية والتعليم العالي ضرورة وضع منهاج يراعي الخصوصية الفلسطينية؛ لتحقيق طموحات الشعب الفلسطيني حتى يأخذ مكانه بين الشعوب. إن بناء منهاج فلسطيني يعد أساساً مهماً لبناء السيادة الوطنية للشعب الفلسطيني، وأساساً لترسيخ القيم والديمقراطية، وهو حق إنساني، وأداة تنمية للموارد البشرية المستدامة التي رسختها مبادئ الخطة الخمسية للوزارة.

وتكمن أهمية المنهاج في أنه الوسيلة الرئيسة للتعليم، التي من خلالها تتحقق أهداف المجتمع؛ لذا تولي الوزارة عناية خاصة بالكتاب المدرسي، أحد عناصر المنهاج؛ لأنه المصدر الوسيط للتعلم، والأداة الأولى بيد المعلم والطالب، إضافة إلى غيره من وسائل التعلم: الإنترنت، والحاسوب، والثقافة المحلية، والتعلم الأسري، وغيرها من الوسائط المساعدة.

لقد قامت وزارة التربية والتعليم العالي بإتمام مرحلة تأليف جميع الكتب المدرسية (١-١٢)، التي تُوجّه بتطبيق كتب الصف الثاني الثانوي (١٢) بجميع فروعها: العلمي، والعلوم الإنسانية، والمهني، والتقني، مع بداية العام الدراسي (٢٠٠٦ / ٢٠٠٧). وتعمل الوزارة حالياً على تنفيذ خطة تطوير شاملة في السنوات الثلاث القادمة، تغطي أربعة مجالات، وهي: أنشطة تطويرية (مراجعة جميع الكتب للصفوف ١-١٢)، وأنشطة استكمالية (أدلة المعلم والوسائل المعينة)، وأنشطة مستقبلية (دراسات تقويمية وتحليلية لمنهاج المراحل الثلاث في جميع المباحث أفقياً وعمودياً)، وأنشطة موازية (توسيع البنية التحتية في مجال الشبكات والتعليم الإلكتروني، وتحسين آلية امتحان الثانوية العامة).

وتعد الكتب المدرسية وأدلة المعلم التي أنجزت للصفوف الاثني عشر، وعددها يقارب ٤٥٠ كتاباً، ركيزة أساسية في عملية التعليم والتعلم، بما تشتمل عليه من معارف ومعلومات عُرضت بأسلوب سهل ومنطقي؛ لتوفير خبرات متنوعة، تتضمن مؤشرات واضحة، تتصل بطرائق التدريس، والوسائل والأنشطة وأساليب التقويم، وتتلاءم مع مبادئ الخطة الخمسية المذكورة أعلاه.

وتتم مراجعة الكتب وتنقيحها وإثرائها سنوياً بمشاركة التربويين والمعلمين والمعلمات الذين يقومون بتدريسها، وترى الوزارة الطباعات من الأولى إلى الرابعة طباعات تجريبية قابلة للتعديل والتطوير؛ كي تتلاءم مع التغييرات في التقدم العلمي والتكنولوجي ومهارات الحياة. إن قيمة الكتاب المدرسي الفلسطيني تزداد بمقدار ما يبذل فيه من جهود، ومن مشاركة أكبر عدد ممكن من المتخصصين في مجال إعداد الكتب المدرسية، الذين يحدثون تغييراً جوهرياً في التعليم، من خلال العمليات الواسعة من المراجعة، بمنهجية رسختها مركز المناهج في مجال التأليف والإخراج في طرفي الوطن الذي يعمل على توحيد.

إن وزارة التربية والتعليم العالي لا يسعها إلا أن تتقدم بجزيل الشكر والتقدير إلى المؤسسات والمنظمات الدولية، والدول العربية والصديقة وبخاصة حكومة بلجيكا؛ لدعمها المالي لمشروع المناهج.

كما أن الوزارة لتفخر بالكفاءات التربوية الوطنية، التي شاركت في إنجاز هذا العمل الوطني التاريخي من خلال اللجان التربوية، التي تقوم بإعداد الكتب المدرسية، وتشكرهم على مشاركتهم بجهودهم المميزة، كل حسب موقعه، وتشمل لجان المناهج الوزارية، ومركز المناهج، والإقرار، والمؤلفين، والمحريين، والمشاركين في ورشات العمل، والمصممين، والرسمين، والمراجعين، والطابعين، والمشاركين في إثراء الكتب المدرسية من الميدان أثناء التطبيق.

وزارة التربية والتعليم العالي

مركز المناهج

أيلول ٢٠٠٦ م

بِسْمِ اللَّهِ الرَّحْمَنِ الرَّحِيمِ

مقدمة

الحمد لله رب العالمين وبعد . . .

يسرنا أن نقدم لزملائنا المعلمين والمعلمات ، ولطلبتنا الأعزاء الجزء الأول من كتاب الرياضيات للصف الثاني الثانوي العلمي ، وفق الخطوط العريضة المعدلة لمبحث الرياضيات ضمن خطة المنهاج الفلسطيني الأول .

يشتمل الكتاب على ثلاث وحدات هي : النهايات والاتصال ، وحساب التفاضل ، وتطبيقات التفاضل . في الوحدة الأولى (النهايات والاتصال) قدمنا مفهوم نهاية الاقتران عند نقطة ، ونظريات النهايات ، والصور غير المعينة ، والنهايات في المالا نهائية ، والاتصال ، ونظريات الاتصال ، ونظرية القيم الوسطية ونظرية بلزانو .

وفي الوحدة الثانية (حساب التفاضل) قدمنا متوسط التغير ، والمشتقة الأولى ، والعلاقة بين الاتصال والاشتقاق ، وقواعد الاشتقاق ، وتطبيقات هندسية وفيزيائية على الاشتقاق ، وقاعدة السلسلة ، والاشتقاق الضمني ، ومشتقات الاقترانات الدائرية .

وفي الوحدة الثالثة (تطبيقات التفاضل) قدمنا نظرية القيم المتوسطة ونظرية رول ، والتزايد والتناقص ، والقيم القصوى المحلية والمطلقة ، واختبار المشتقة الأولى والمشتقة الثانية ، والتقعر ونقط الانعطاف ورسم المنحنيات ، وتطبيقات عملية على القيم القصوى ، والمعدلات الزمنية المرتبطة .

أما من حيث الأسلوب ، فقد حرصنا على التسلسل المنطقي للمفاهيم والنظريات والوحدات ، وعلى الدقة العلمية ، دون تركيز زائد على براهين النظريات ، واعتمدنا بدلاً من ذلك الرسوم التوضيحية والأمثلة المتنوعة مع وضع استراتيجيات عامة للحل ، حيثما أمكن .

ولقناعتنا أن طلبة الثانوية العامة حريصون كل الحرص على المعرفة والتعمق والاستزادة لتحقيق أفضل النتائج في امتحان الثانوية العامة تمهيداً لدراساتهم الجامعية ، فقد أتبعنا كل وحدة بمجموعة من التمارين والأسئلة المتنوعة الموضوعية والمقالية التي تغطي المفاهيم والتعميمات والقوانين والمهارات الواردة في الوحدة ، بالإضافة إلى التمارين والمسائل في نهاية كل بند من بنود الوحدات الثلاث .

نتمنى لأبنائنا الطلبة كل توفيق ونجاح ، ونقدم من زملائنا في الميدان ، مشرفين ومشرفات ، ومعلمين ومعلمات ، من جميع المحافظات الذين شاركوا في إثراء مسودات هذا الكتاب ، بكل الاحترام والتقدير ، سائلين المولى عز وجل أن يوفقهم في إكمال مسيرتهم النبيلة بتعليم طلبتنا الأعزاء وتوجيههم بكل صدق وأمانه ، وتقديم التغذية الراجعة لمركز المناهج بعد وضع الكتاب موضع التنفيذ لإصدار طبعة جديدة منقحة .

والله ولي التوفيق

المؤلفون

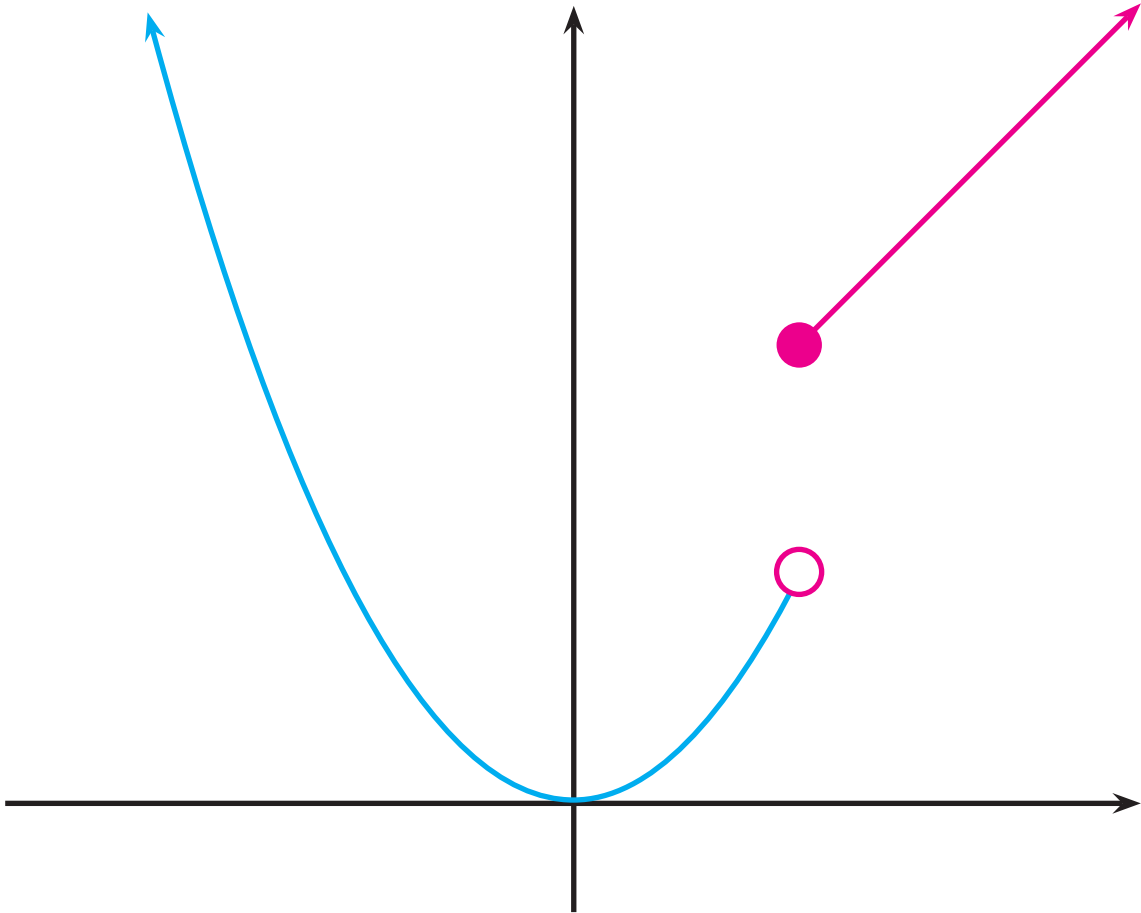
المحتويات

النهايات والاتصال		الوحدة الأولى
٣	نهاية الاقتران عند نقطة	١-١
١١	نظريات النهايات	٣-١
١٨	النهايات والصورة غير المُعَيَّنة $\frac{\text{صفر}}{\text{صفر}}$	٣-١
٢٢	النهايات والاقترانات المثلثية	٤-١
٢٧	نهاية الاقتران عندما $s \rightarrow \infty$	٥-١
٣٣	الاتصال	٦-١
٤٢	نظرية القيم الوسطية	٧-١
٤٧	تمارين عامة	

حساب التفاضل		الوحدة الثانية
٥٢	متوسط التغير	١-٢
٥٧	المشتقة الأولى	٢-٢
٦٦	قواعد الاشتقاق	٣-٢
٧٥	الاتصال وقابلية الاشتقاق	٤-٢
٨١	تطبيقات على الاشتقاق	٥-٢
٨٨	قاعدة السلسلة (مشتقة الاقتران المركب)	٦-٢
٩٢	الاشتقاق الضمني	٧-٢
٩٨	مشتقات الاقترانات الدائرية	٨-٢
١٠٣	تمارين عامة	

تطبيقات التفاضل		الوحدة الثالثة
١٠٧	نظرية القيمة المتوسطة	١-٣
١١٦	الاقترانات المتزايدة والمتناقصة	٢-٣
١٢٣	القيم القصوى	٣-٣
١٣٥	التقعر ونقط الانعطاف	٤-٣
١٤٣	رسم المنحنيات	٥-٣
١٤٦	تطبيقات عملية على القيم القصوى	٦-٣
١٥٢	المعدلات الزمنية المرتبطة	٧-٣
١٦٠	تمارين عامة	

النهايات والاتصال



نهاية الاقتران عند نقطة (Limit of a Function at a Point)

١-١

توضح نهاية الاقتران عند نقطة سلوك الاقتران في فترة مفتوحة حول تلك النقطة، دون أي اعتبار خاص لقيمة الاقتران عند النقطة ذاتها، وتعتبر النهايات الأساس الذي يستند إليه علم التفاضل والتكامل، كما سيتبين لك في هذا الكتاب.

وسندرس في هذه الوحدة مفهوم النهاية، ووجودها وعدمه، وحساب النهايات لاقترانات جبرية ومثلثية متنوعة، وأخيراً سندرس الاقترانات المتصلة ونتعرف بعض خصائصها الأساسية.

مثال (١)

ليكن الاقتران $ق(س) = ٢س + ١$ ، $س \in \mathbb{R}$.

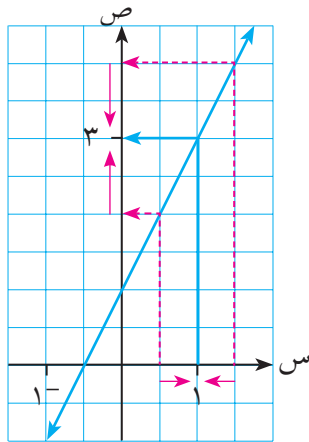
ماذا يحدث لقيم $ق(س)$ عندما تقترب $س$ من ١؟

الجدول التالي يبين قيماً للمتغير $س$ في جوار العدد ١، وقيم $ق(س)$ المناظرة:

الحل:

٠,٥	,٩	٠,٩٩	,٩٩٩	... →	١	← ...	١,٠٠١	١,٠١	١,١	١,٥	س
٢	٢,٨	٢,٩٨	٢,٩٩٨	... →	٣	← ...	٣,٠٠٢	٣,٠٢	٣,٢	٤	ق(س)

نلاحظ من الجدول أنه عندما تقترب $س$ من العدد ١ من خلال قيم أكبر منه (أي أن $س$ تقترب من ١ من جهة اليمين) متخذة القيم ١,٥، ١,١، ١,٠١، ١,٠٠١ فإن قيم $ق(س)$ المناظرة وهي ٤، ٣,٢، ٣,٠٢، ٣,٠٠٢، على الترتيب تقترب من العدد ٣.



الشكل (١-١)

ونلاحظ أيضاً أنه عندما تقترب $س$ من العدد ١ من خلال قيم أصغر منه (أي أن $س$ تقترب من ١ من جهة اليسار) متخذة القيم ٠,٥، ٠,٩، ٠,٩٩، ٠,٩٩٩ فإن قيم $ق(س)$ المناظرة وهي ٢، ٢,٨، ٢,٩٨، ٢,٩٩٨، على الترتيب تقترب من العدد ٣. لاحظ الشكل (١-١).

إذن في الحالتين، سواء اقتربنا من العدد ١ من جهة اليمين أو من اليسار، فإن قيم الاقتران تقترب من قيمة واحدة فقط هي ٣.

هذا، ويمكن أن نجعل قيم ق(س) تقترب من العدد ٣ بالقدر الذي نشاء وذلك بأخذ قيم س قريبة من العدد ١ قريباً كافياً، فمثلاً يمكن جعل قيم ق(س) قريبة من العدد ٣ بمقدار أصغر من ٠,٠٠٠١ ؛ أي نجعل قيم ق(س) تقع بين العددين ٢,٩٩٩٩ ، ٣,٠٠٠١ ، وذلك لجميع قيم س القريبة من العدد ١ بمقدار أصغر من ٠,٠٠٠٠٥ ؛ أي لجميع قيم س الواقعة بين ٠,٩٩٩٩٥ ، ١,٠٠٠٠٥ .

لذلك نقول إن نهاية الاقتران ق(س) عندما تقترب س من ١ تساوي ٣ ، وبالرموز نكتب :
 $\lim_{s \rightarrow 1} ق(س) = ٣$.

تعريف:

ليكن ق(س) اقتراناً معرفاً على فترة مفتوحة حول $ل$. يقال إن $\lim_{s \rightarrow ل} ق(س) = ل$ ، حيث ل عدد حقيقي ، إذا كانت قيم ق(س) تقترب من العدد ل باقتراب س من العدد $ل$ ، بحيث يمكن جعل قيم ق(س) قريبة من ل القرب الذي نشاء ، لجميع قيم س القريبة من $ل$ قريباً كافياً .

لاحظ في المثال السابق أن $\lim_{s \rightarrow 1} ق(س) = ق(١)$ ، ولكن هذا ليس صحيحاً بوجه عام كما هو مبين في الأمثلة

التالية :

مثال (٢)

ليكن ق(س) = $\frac{٩-٢س}{٣-س}$ ، $س \neq ٣$. أوجد $\lim_{s \rightarrow ٣} ق(س)$.

الجدول التالي يبين بعض قيم س القريبة من ٣ وقيم ق(س) المناظرة :

الحل:

٢,٥	٢,٩	٢,٩٩	٢,٩٩٩	... →	٣	← ...	٣,٠٠١	٣,٠١	٣,١	٣,٥	س
٥,٥	٥,٩	٥,٩٩	٥,٩٩٩	... →	٦	← ...	٦,٠٠١	٦,٠١	٦,١	٦,٥	ق(س)

نلاحظ من الجدول أنه عندما تقترب س من ٣ فإن ق(س) تقترب من العدد ٦ .

$$\text{أي أن: } \lim_{s \rightarrow 3} ق(س) = ٦ .$$

$$\text{لاحظ أن ق(س) = } \frac{(٣-س)(٣+س)}{(٣-س)}$$

وحيث إن قيمة س $\neq ٣$ فإنه يمكن تبسيط قاعدة ق(س) لتصبح :

$$ق(س) = س + ٣ ، س \neq ٣$$

الشكل (٢-١) يمثل منحنى الاقتران ق(س)

وهو نفس منحنى الخط المستقيم

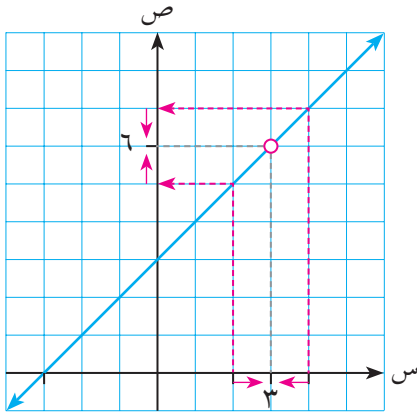
ص = س + ٣ بعد حذف النقطة (٣، ٦).

نلاحظ في هذا المثال أن نها ق(س) = ٦ بالرغم

من أن ق(س) غير معرف عند س = ٣؛ أي أنه ليس

بالضرورة بوجه عام أن يكون الاقتران معرفاً عند

س = ٣ لبحث نهاية الاقتران عند س = ٣.



الشكل (٢-١)

مثال (٣)

$$\left. \begin{array}{l} ٢ \neq س ، \quad \frac{٤ - ٢س}{٢ - س} \\ ٢ = س ، \quad ٣ \end{array} \right\} = \text{ليكن ق(س)}$$

ارسم منحنى الاقتران ق(س)، ثم ابحث في نها ق(س).

$$\left. \begin{array}{l} ٢ \neq س ، \quad ٢ + س \\ ٢ = س ، \quad ٣ \end{array} \right\} = \text{ق(س)}$$

الحل:

الشكل (٣-١) يمثل منحنى الاقتران ق(س)

ومنه نلاحظ أنه باقتراب س من العدد ٢،

فإن قيم ق(س) تقترب من العدد ٤.

$$\text{نها ق(س)} = ٤$$

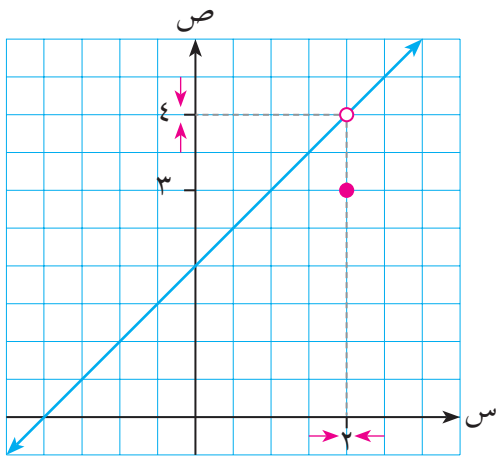
∴

لاحظ أن ق(٢) = ٣

بينما نها ق(س) = ٤، أي أنه ليس

ضرورياً، بوجه عام، أن تكون نهاية

الاقتران عند س = ٣ تساوي ق(٣).

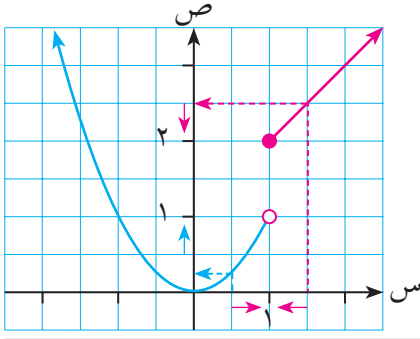


الشكل (٣-١)

مثال (٤)

$$\left. \begin{array}{l} \text{س}^2 > 1, \\ \text{س} + 1 \leq 1 \end{array} \right\} = \text{ليكن ق(س)}$$

ارسم منحنى الاقتران ق(س)، ثم ابحث في نها ق(س).



الشكل (٤-١)

يمثل الشكل (٤-١) منحنى الاقتران ق(س)

عندما تقترب س من ١ من جهة اليمين،

أي عندما تقترب س من ١ متخذة قيمة أكبر من ١

فإن قيم ق(س) = س + ١ تقترب من العدد ٢

ونعبر عن ذلك بالرموز:

$$\underset{\text{س} \leftarrow +1}{\text{نها}} \text{ ق(س)} = \underset{\text{س} \leftarrow +1}{\text{نها}} (س + ١) = ٢$$

وتقرأ: نهاية ق(س) عندما تقترب س من العدد ١ من جهة اليمين تساوي ٢.

الحل:

أولاً:

عندما تقترب س من ١ من جهة اليسار أي عندما تقترب س من ١ متخذة قيمة أصغر من ١،

فإن قيم ق(س) = س^٢ تقترب من العدد ١ ونعبر عن ذلك بالرموز:

$$\underset{\text{س} \leftarrow -1}{\text{نها}} \text{ ق(س)} = \underset{\text{س} \leftarrow -1}{\text{نها}} \text{ س}^2 = ١$$

وتقرأ: نهاية ق(س) عندما تقترب س من ١ من جهة اليسار تساوي ١.

وبما أن قيم ق(س) في هذه الحالة لا تقترب من العدد نفسه عندما تقترب س من ١، فإننا

نقول إن نها ق(س) غير موجودة.

تعريف:

ليكن ق(س) اقتراناً معرفاً على ميم م أي معرفاً في فترة مفتوحة مثل [م، ج].

يقال إن نهاية ق(س) عندما س تقترب من م من جهة اليمين تساوي ل (وتسمى النهاية اليمينية)، وتكتب

نها ق(س) = ل، إذا كانت قيم ق(س) تقترب من ل باقتراب س من م من جهة اليمين. وبالمثل تعرف

النهاية اليسرى للاقتران ق(س) عندما تقترب س من م من جهة اليسار، ويرمز لها بالرمز نها ق(س).

نظرية:

تكون للاقتران ق(س) نهاية تساوي ل عندما تقترب س من l ، إذا وفقط إذا كان للاقتران ق(س) نهاية
يمنى ونهاية يسرى عند $s = l$ ، وكانت النهايتان متساويتين ، وكل منهما تساوي ل . بالرموز :

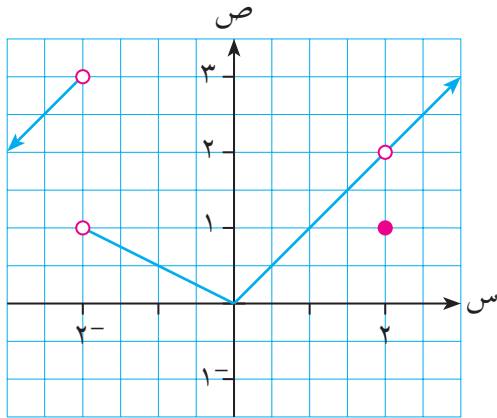
$$\lim_{s \rightarrow l} f(s) = l \iff \lim_{s \rightarrow l^+} f(s) = \lim_{s \rightarrow l^-} f(s) = l$$

مثال (٥)

يمثل الشكل (٥-١) منحنى الاقتران ق(س) . ابحث في النهايات التالية :

أ $\lim_{s \rightarrow -2^-} f(s)$ ب $\lim_{s \rightarrow -2^+} f(s)$ ج $\lim_{s \rightarrow -2} f(s)$

د $\lim_{s \rightarrow 0} f(s)$ هـ $\lim_{s \rightarrow 2} f(s)$



الشكل (٥-١)

من منحنى الاقتران ق(س) نلاحظ أن :

أ $\lim_{s \rightarrow -2^-} f(s) = 3$

ب $\lim_{s \rightarrow -2^+} f(s) = 1$

ج $\lim_{s \rightarrow -2} f(s)$ غير موجودة لأن النهاية

من اليمين لا تساوي النهاية من اليسار .

د $\lim_{s \rightarrow 0} f(s) = 0$

هـ $\lim_{s \rightarrow 2} f(s) = 2$

الحل:

أ

ب

ج

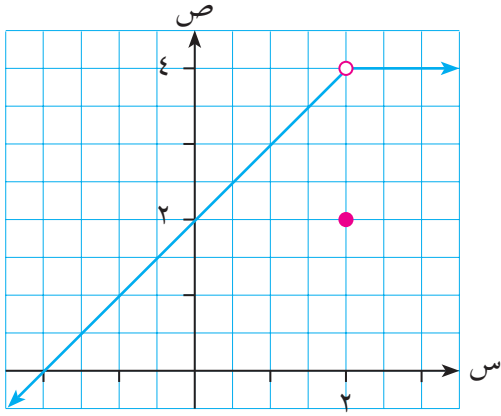
د

هـ

مثال (٦)

$$\left. \begin{array}{l} 2 > s , \quad 2 + s \\ 2 = s , \quad 2 \\ 2 < s , \quad 4 \end{array} \right\} \text{ليكن ق(س) =}$$

مثل ق(س) بياناً ، ومن الرسم أوجد نهاية ق(س) .



الشكل (٦-١)

يمثل الشكل (٦-١) منحنى الاقتران ق(س) ومنه نلاحظ:

أولاً: $\text{نها ق(س)} = \text{نها} = 4$
 $\text{س} \leftarrow +2$ $\text{س} \leftarrow +2$

ثانياً: $\text{نها ق(س)} = \text{نها} = 4$
 $\text{س} \leftarrow -2$ $\text{س} \leftarrow -2$

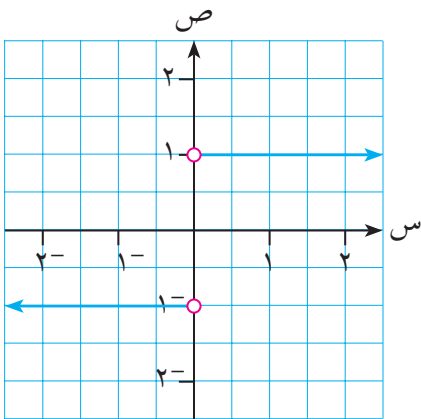
بما أن النهايتين متساويتان وكلاً منهما تساوي ٤

∴ $\text{نها ق(س)} = 4$
 $\text{س} \leftarrow 2$

الحل: ✓

مثال (٧)

ليكن ق(س) = $\frac{|س|}{س}$ ، $س \neq 0$
 ارسم منحنى ق(س)، ثم ابحث في نها ق(س).



الشكل (٧-١)

يمكن إعادة كتابة قاعدة الاقتران ق(س) كما يلي:

$$\left. \begin{array}{l} \text{س} < 0 \\ \text{س} > 0 \end{array} \right\} \text{ق(س)} = \frac{\text{س}}{\text{س}} = \begin{cases} 1 \\ -1 \end{cases}$$

$$\left. \begin{array}{l} \text{س} < 0 \\ \text{س} > 0 \end{array} \right\} = \begin{cases} 1 \\ -1 \end{cases}$$

يمثل الشكل (٧-١) منحنى الاقتران ق(س).

أولاً: $\text{نها ق(س)} = \text{نها} = 1$
 $\text{س} \leftarrow +0$ $\text{س} \leftarrow +0$

ثانياً: $\text{نها ق(س)} = \text{نها} = -1$
 $\text{س} \leftarrow -0$ $\text{س} \leftarrow -0$

وبما أن النهاية اليمنى لا تساوي النهاية اليسرى عند $س = 0$ ∴ نها ق(س) غير موجودة.

مثال (٨)

ليكن ق(س) = س - [س] معرفاً على الفترة [٠، ٢]. ارسم منحنى ق(س)، ثم أوجد:
 أولاً: نها ق(س) $\left. \begin{array}{l} ٠ - س \\ ١ - س \\ ٢ - س \end{array} \right\} = (س) ق$
 ثانياً: نها ق(س) $\left. \begin{array}{l} ٠ - س \\ ١ - س \\ ٢ - س \end{array} \right\} =$

الحل:

يمكن إعادة كتابة قاعدة الاقتران ق(س) كالتالي:

$$\left. \begin{array}{l} ٠ < س \leq ١ \\ ١ < س \leq ٢ \\ س = ٢ \end{array} \right\} = (س) ق$$

$$\left. \begin{array}{l} ٠ < س \leq ١ \\ ١ < س \leq ٢ \\ س = ٢ \end{array} \right\} =$$

يمثل الشكل (٨-١) منحنى الاقتران ق(س) على الفترة [٠، ٢]، ومن الشكل نلاحظ:

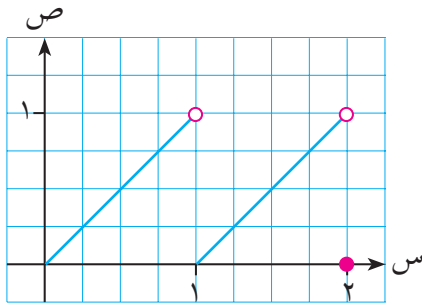
أ) أولاً: $\left. \begin{array}{l} ٠ = (١ - س) ق \\ ٠ = (١ - س) ق \end{array} \right\} = (س) ق$

ب) $\left. \begin{array}{l} ١ = س ق \\ ١ = س ق \end{array} \right\} = (س) ق$

وبما أن $\left. \begin{array}{l} ١ = س ق \\ ١ = س ق \end{array} \right\} \neq (س) ق$

فإن نها ق(س) غير موجودة.

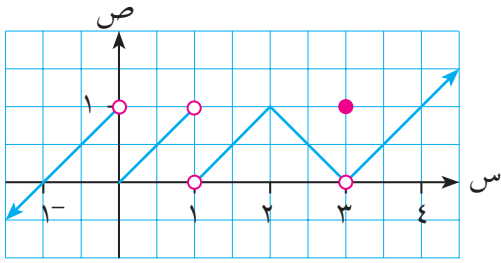
ثانياً: $\left. \begin{array}{l} ١ = (١ - س) ق \\ ١ = (١ - س) ق \end{array} \right\} = (س) ق$



الشكل (٨-١)

تمارين (1-1)

١ الشكل المجاور يمثل منحنى الاقتران ص = ق(س). اعتمد على الرسم في إيجاد كل من:



أ نهاق(س) \leftarrow س + ١

ب نهاق(س) \leftarrow س - ١

ج نهاق(س) \leftarrow س - ١

د نهاق(س) \leftarrow س + ٣

ه نهاق(س) \leftarrow س + ٢

و قيم \leftarrow س التي تكون عندها نهاق(س) غير موجودة

٢ ليكن ق(س) = $\left. \begin{array}{l} \text{س}^2, \text{ س} \geq 0 \\ \text{س}^2 - 3, \text{ } 0 < \text{س} < 2 \\ 2, \text{ س} < 2 \end{array} \right\}$

ارسم منحنى الاقتران ق(س) ثم ابحث في النهايات التالية:

أ نهاق(س) \leftarrow س - ٠

ب نهاق(س) \leftarrow س + ٠

ج نهاق(س) \leftarrow س + ٠

د نهاق(س) \leftarrow س + ٢

ه نهاق(س) \leftarrow س - ٢

و نهاق(س) \leftarrow س + ٢

ز نهاق(س) \leftarrow س - ١

٣ ليكن الاقتران ق(س) = [٢س + ١] معرفاً على الفترة [٠, ٢].

ارسم منحنى ق(س) ثم أوجد من الرسم:

أ نهاق(س) \leftarrow س - $\frac{1}{4}$

ب نهاق(س) \leftarrow س + $\frac{1}{4}$

ج نهاق(س) \leftarrow س + $\frac{1}{4}$

د نهاق(س) \leftarrow س - ٢

ه نهاق(س) \leftarrow س + ١, ٢

٤ في كل حالة من الحالات الآتية، ارسم شكلاً تقريبياً لمنحنى اقتران بحيث إن:

أ نهاق(س) = ٥ ، ق(١) غير معرف

ب نهاق(س) غير موجودة ، ه(١) = ٢

ج نهاق(س) غير موجودة ، م(٢) غير معرفة

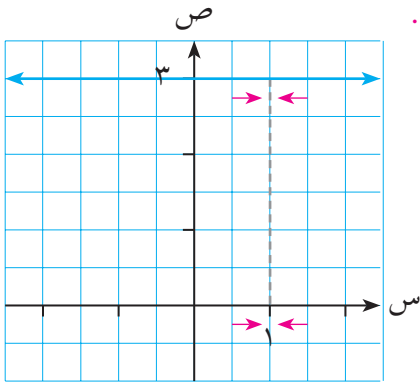
د نهاق(س) = ٤ ، ل(٣) = ٥

نظريات النهايات (Limit Theorems)

٢-١

تبين لنا أن عملية حساب نهاية الاقتران عند نقطة بالاعتماد على تكوين جدول يمكن أن تكون عملية طويلة وشاقة؛ وتفيدنا نظريات النهايات التي سندرسها في هذا البند في معالجة هذا الوضع، وحساب النهاية بيسر وسهولة، وبخاصة في بعض الاقترانات مثل كثيرات الحدود والاقترانات النسبية وغيرها.

مثال (١)



الشكل (٩-١)

ليكن $q(s) = 3$ ، $s \in \mathbb{R}$ ، أوجد نهاية $q(s)$.

بما أن $q(s) = 3$ لجميع قيم s الحقيقية

فإنه عندما نتخذ s قيمة قريبة من ١ من جهة اليمين

أو اليسار، انظر الشكل (٩-١).

فإن $q(s)$ تساوي ٣؛ أي أن:

نهاية $q(s) = 3$.

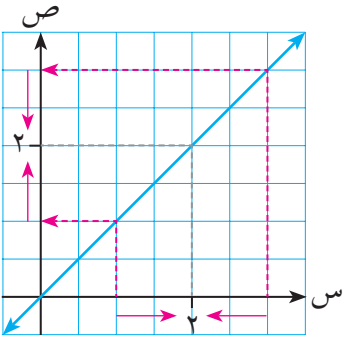
الحل:

بوجه عام:

نظرية (١):

إذا كان $q(s) = c$ ، حيث c ثابت، فإنه لأي عدد حقيقي p ، نهاية $q(s) = c$.

مثال (٢)



الشكل (١٠-١)

إذا كان $q(s) = s$ ، $s \in \mathbb{R}$ ،

أوجد نهاية $q(s)$.

بما أن $q(s) = s$ لجميع قيم s الحقيقية

فإنه عندما تقترب s من ٢ من جهة اليمين أو اليسار

فإن $q(s)$ تقترب من ٢ أيضاً، انظر الشكل (١٠-١).

أي أن نهاية $q(s) = 2$.

الحل:

نظرية (٢):

إذا كان $q(s) = s$ ، $s \in \mathbb{C}$ فإنه لأي عدد حقيقي p ، $p \leftarrow s$ ، $q(s) = p$

النظرية التالية تمكننا من حساب النهاية لاقتران مكون من اقتراين تربطهما عمليات جمع ، أو طرح ، أو ضرب ، أو قسمة ؛ ونقدمها دون برهان .

نظرية (٣)

إذا كانت $q(s) = l$ ، $h(s) = m$ وكان l و m عدداً حقيقياً فإن:

١ $p \leftarrow s$ $q(s) = l$ $h(s) = m$ $l \times m = p \leftarrow s$ (الضرب في عدد حقيقي)

٢ $p \leftarrow s$ $q(s) = l$ $h(s) = m$ $l + m = p \leftarrow s$ (قاعدة الجمع)

٣ $p \leftarrow s$ $q(s) = l$ $h(s) = m$ $l - m = p \leftarrow s$ (قاعدة الطرح)

٤ $p \leftarrow s$ $q(s) = l$ $h(s) = m$ $l \times m = p \leftarrow s$ (قاعدة الضرب)

٥ $p \leftarrow s$ $q(s) = l$ $h(s) = m$ $l \neq 0$ ، بشرط $m \neq 0$ ، $\frac{l}{m} = \frac{p \leftarrow s}{p \leftarrow s} = \frac{p \leftarrow s}{p \leftarrow s}$ (قاعدة القسمة)

مثال (٣)

إذا كانت $q(s) = 4$ ، $h(s) = 6$ ، فأوجد:

أ $p \leftarrow s$ $q(s) = 4$ $h(s) = 6$ $4 + 6 = p \leftarrow s$ ب $p \leftarrow s$ $q(s) = 4$ $h(s) = 6$ $4 - 6 = p \leftarrow s$

ج $p \leftarrow s$ $q(s) = 4$ $h(s) = 6$ $4 \times 6 = p \leftarrow s$ د $p \leftarrow s$ $q(s) = 4$ $h(s) = 6$ $\frac{4}{6} = \frac{p \leftarrow s}{p \leftarrow s} = \frac{p \leftarrow s}{p \leftarrow s}$

الحل:

$$\text{نہا} \left(\frac{ق}{س} + \frac{۲ھ}{س} \right) = \text{نہا} \left(\frac{ق}{س} \right) + \text{نہا} \left(\frac{۲ھ}{س} \right)$$

ا

$$= \text{نہا} \left(\frac{ق}{س} \right) + \text{نہا} \left(\frac{۲ھ}{س} \right)$$

$$= ۶ \times ۲ + ۴ =$$

$$۱۶ =$$

$$\text{نہا} \left(\frac{ق}{س} - \frac{س}{س} \right) = \text{نہا} \left(\frac{ق}{س} \right) - \text{نہا} \left(\frac{س}{س} \right)$$

ب

$$= ۴ - ۲ =$$

$$۲ =$$

$$\frac{\text{نہا} \left(\frac{ق}{س} \times \frac{س}{س} \right)}{\text{نہا} \left(\frac{س}{س} + \frac{س}{س} \right)} = \frac{\text{نہا} \left(\frac{ق}{س} \times \frac{س}{س} \right)}{\text{نہا} \left(\frac{س}{س} + \frac{س}{س} \right)}$$

ج

$$\frac{\text{نہا} \left(\frac{ق}{س} \right) \times \text{نہا} \left(\frac{س}{س} \right)}{\text{نہا} \left(\frac{س}{س} \right) + \text{نہا} \left(\frac{س}{س} \right)} =$$

$$\frac{۶ \times ۴}{۶ + ۲} =$$

$$۳ =$$

$$\text{نہا} \left(\frac{ق}{س} + \frac{س}{س} \right) = \text{نہا} \left(\frac{ق}{س} \right) + \text{نہا} \left(\frac{س}{س} \right)$$

د

$$= \text{نہا} \left(\frac{ق}{س} \right) + \text{نہا} \left(\frac{س}{س} \right) + \text{نہا} \left(\frac{س}{س} \right) =$$

$$= ۵ + (۴ \times ۴) =$$

$$۲۱ =$$

يمكن تعميم قاعدتي الجمع والضرب في النظرية (٣) السابقة لتشمل أكثر من اقتراينين :

$$1 \quad \text{نهما} \left(\begin{matrix} \text{ق} \\ \text{س} \end{matrix} \right)_1 + \text{نهما} \left(\begin{matrix} \text{ق} \\ \text{س} \end{matrix} \right)_2 + \dots + \text{نهما} \left(\begin{matrix} \text{ق} \\ \text{س} \end{matrix} \right)_n = \left(\text{نهما} \left(\begin{matrix} \text{ق} \\ \text{س} \end{matrix} \right)_1 + \text{نهما} \left(\begin{matrix} \text{ق} \\ \text{س} \end{matrix} \right)_2 + \dots + \text{نهما} \left(\begin{matrix} \text{ق} \\ \text{س} \end{matrix} \right)_n \right) \left(\begin{matrix} \text{ق} \\ \text{س} \end{matrix} \right)_n$$

$$2 \quad \text{نهما} \left(\begin{matrix} \text{ق} \\ \text{س} \end{matrix} \right)_1 \times \text{نهما} \left(\begin{matrix} \text{ق} \\ \text{س} \end{matrix} \right)_2 \times \dots \times \text{نهما} \left(\begin{matrix} \text{ق} \\ \text{س} \end{matrix} \right)_n = \left(\text{نهما} \left(\begin{matrix} \text{ق} \\ \text{س} \end{matrix} \right)_1 \times \text{نهما} \left(\begin{matrix} \text{ق} \\ \text{س} \end{matrix} \right)_2 \times \dots \times \text{نهما} \left(\begin{matrix} \text{ق} \\ \text{س} \end{matrix} \right)_n \right) \left(\begin{matrix} \text{ق} \\ \text{س} \end{matrix} \right)_n$$

نتائج:

$$1 \quad \text{نهما} \left(\begin{matrix} \text{ق} \\ \text{س} \end{matrix} \right)_n = \left(\text{نهما} \left(\begin{matrix} \text{ق} \\ \text{س} \end{matrix} \right)_n \right) \left(\begin{matrix} \text{ق} \\ \text{س} \end{matrix} \right)_n$$

حيث ن عدد صحيح موجب .

$$2 \quad \text{نهما} \left(\begin{matrix} \text{ق} \\ \text{س} \end{matrix} \right)_n = \text{نهما} \left(\begin{matrix} \text{ق} \\ \text{س} \end{matrix} \right)_n$$

حيث ن عدد صحيح موجب .

$$3 \quad \text{إذا كان ق} \left(\begin{matrix} \text{ق} \\ \text{س} \end{matrix} \right) = \text{نهما} \left(\begin{matrix} \text{ق} \\ \text{س} \end{matrix} \right)_1 + \text{نهما} \left(\begin{matrix} \text{ق} \\ \text{س} \end{matrix} \right)_2 + \dots + \text{نهما} \left(\begin{matrix} \text{ق} \\ \text{س} \end{matrix} \right)_n$$

اقتراًناً كثير حدود فإن :

$$\text{نهما} \left(\begin{matrix} \text{ق} \\ \text{س} \end{matrix} \right) = \text{نهما} \left(\begin{matrix} \text{ق} \\ \text{س} \end{matrix} \right)_1 + \text{نهما} \left(\begin{matrix} \text{ق} \\ \text{س} \end{matrix} \right)_2 + \dots + \text{نهما} \left(\begin{matrix} \text{ق} \\ \text{س} \end{matrix} \right)_n = \text{ق} \left(\begin{matrix} \text{ق} \\ \text{س} \end{matrix} \right) .$$

أي أن نهاية كثير الحدود ق (س) عند س = ج في مجاله تساوي ق (ج) .

$$4 \quad \text{إذا كان م} \left(\begin{matrix} \text{ق} \\ \text{س} \end{matrix} \right) = \frac{\text{ق} \left(\begin{matrix} \text{ق} \\ \text{س} \end{matrix} \right)}{\text{ه} \left(\begin{matrix} \text{ق} \\ \text{س} \end{matrix} \right)}$$

اقتراًناً نسبياً حيث ق (س) ، ه (س) كثيرا حدود ، ه (س) ≠ ٠ فإن :

$$\text{نهما} \left(\begin{matrix} \text{ق} \\ \text{س} \end{matrix} \right) = \text{نهما} \left(\begin{matrix} \text{ق} \\ \text{س} \end{matrix} \right) = \frac{\text{ق} \left(\begin{matrix} \text{ق} \\ \text{س} \end{matrix} \right)}{\text{ه} \left(\begin{matrix} \text{ق} \\ \text{س} \end{matrix} \right)} = \text{م} \left(\begin{matrix} \text{ق} \\ \text{س} \end{matrix} \right) \text{ بشرط ه} \left(\begin{matrix} \text{ق} \\ \text{س} \end{matrix} \right) \neq ٠$$

أي أن نهاية الاقتران النسبي م (س) عند س = ج في مجاله تساوي م (ج) .

مثال (٤)

$$\text{أوجد نهما} \left(\begin{matrix} \text{ق} \\ \text{س} \end{matrix} \right) \text{ (٤ س}^3 + ٥ س + ٦) .$$

الاقتران ق (س) = ٤ س^٣ + ٥ س + ٦ هو اقتران كثير حدود ، إذن بالتعويض المباشر يكون :

الحل:

$$\text{نهما} \left(\begin{matrix} \text{ق} \\ \text{س} \end{matrix} \right) \text{ (٤ س}^3 + ٥ س + ٦) = ٤ (٢)^3 + ٥ (٢) + ٦ = ٤٨$$

مثال (5)

$$\text{أوجد نهايا } \frac{س^2 + 4س + 2}{س^2 + 3س} \text{ عند } س = 5.$$

الاقتران هـ (س) = $\frac{س^2 + 4س + 2}{س^2 + 3س}$ هو اقتران نسبي مقامه لا يساوي صفراً عند س = 5،
إذن بالتعويض المباشر يكون:

الحل: ✓

$$\begin{aligned} \frac{س^2 + 4س + 2}{س^2 + 3س} \Big|_{س=5} &= \frac{2 + (5)4 + 2(5)}{3 + (5)2} \\ &= \frac{47}{13} \end{aligned}$$

نظرية (4)

إذا كانت نهايا ق (س) = ل، وكان ن عدداً صحيحاً موجباً فإن:

$$\begin{aligned} \text{نهايا } \left(\frac{ق(س)}{س} \right) \Big|_{س=N} &= \frac{ق(س)}{س} \Big|_{س=N} = \frac{ل}{N} \\ \text{أي أن نهايا } \sqrt[N]{\frac{ق(س)}{س}} \Big|_{س=N} &= \sqrt[N]{\frac{ل}{N}} \end{aligned}$$

بشرط أن تكون ل > 0 عندما تكون (ن) زوجية.

مثال (6)

أوجد كلا من النهايتين التاليتين:

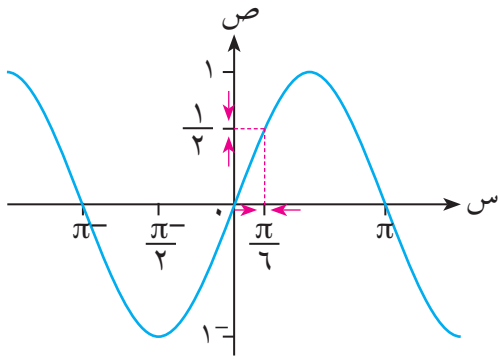
أ $\sqrt[4]{س^2 + 9}$ ب $\sqrt[3]{س^2 + 2}$

الحل: ✓

أ $\sqrt[4]{س^2 + 9} \Big|_{س=5} = \sqrt[4]{9 + 16} = \sqrt[4]{25} = 5$

ب $\sqrt[3]{س^2 + 2} \Big|_{س=10} = \sqrt[3]{2 + 100} = \sqrt[3]{102} = 10$

مثال (٧)



الشكل (١١-١)

يمثل الشكل (١١-١) منحنى الاقتران
ق(س) = حاس، أوجد نهيا ق(س)
س ← π/6

من الرسم البياني المقابل نلاحظ أن:

$$\begin{aligned} \text{نهيا ق(س)} &= \text{نهيا حاس} \\ \text{س ← π/6} & \quad \text{س ← π/6} \\ \frac{1}{2} &= \end{aligned}$$

الحل:

بوجه عام:

١ نهيا جاس = جا پ ، لكل پ ≥ ع .

٢ نهيا جتاس = جتا پ ، لكل پ ≥ ع .

تمارين (٢-١)

١ إذا كانت نهيا ق(س) = ٥ ، نهيا ه(س) = ٣ ، نهيا ك(س) = -١ ، فأوجد قيمة كل من النهايات التالية:

أ نهيا (٢ق(س) - ٣ه(س))
س ← π/2

ب نهيا $\frac{\text{س ق(س)}}{\text{س ه(س) + ك(س)}}$
س ← π/2

ج نهيا $\sqrt{\text{ق}^2(س) - \text{ه}^2(س)}$
س ← π/2

٢ إذا كانت نهيا ق(س) = م ، نهيا ه(س) = ن حيث م ≠ ن ، أوجد نهيا $\frac{\text{م ق(س) - ن ه(س)}}{\text{م - ن}}$

٣ إذا علمت أن نهيا (س^٢ + ٥س + ٧) = ١ ، فأوجد قيمة/قيم پ .

٤ أوجد قيمة كل مما يلي:

أ نهيا $\sqrt{\text{س}^2 + ٥}$ س ← π/2

ب نهيا $\frac{1}{3}(٤ - ٢س)$ س ← π/2

ج نهيا $\frac{٣(٥ - \text{س})}{٢ + ٤(٥ - \text{س})}$ س ← π/2

$$5 \quad \left. \begin{array}{l} 1 \geq s, \quad 1+s^2 \\ 1 < s < 3, \quad s^2-5 \\ 3 < s, \quad \sqrt{13+s} \end{array} \right\} = \text{إذا كان ق(س)}$$

$$\text{أ نهياق(س)} \quad \text{ب نهياق(س)}$$

$$6 \quad \left. \begin{array}{l} s^2+5, \quad 1 \geq s \\ s^2, \quad 1 < s \end{array} \right\} = \text{إذا كان ق(س)}$$

وكانت نهياق(س) موجودة فما قيمة P؟

$$7 \quad \left. \begin{array}{l} ms^2-5, \quad s > 2 \\ s^2+n, \quad s \leq 2 \end{array} \right\} = \text{إذا كان ق(س)}$$

أوجد قيمة كل من م، ن إذا علمت أن نهياق(س) = 7.

8 أوجد قيمة كل من النهايات التالية (إن وجدت):

$$\text{أ نهياق(س)} \quad \text{ب نهياق(س)}$$

$$\text{ج نهياق(س)}$$

$$9 \quad \left. \begin{array}{l} 1- \\ s > 0, \quad 1- \\ s < 0, \quad 1 \end{array} \right\} = \text{ليكن ق(س)}$$

أ بين أن نهياق(س) غير موجودة
ب بين أن نهياق(س) غير موجودة

ج أوجد قاعدة (ق x ه) (س)
د أوجد نهياق(ق x ه) (س)

ه أوجد قاعدة (ق/ه) (س)
و أوجد نهياق(ق/ه) (س)

هل تتعارض النتيجة في كل من الفرعين د، و مع قاعدتي الضرب والقسمة في نظرية (3)؟

$$10 \quad \text{إذا كانت نهياق(س) = 7 فأوجد نهياق(4ق(2س-1) + 2س)}$$

٣-١ النهايات والصورة غير المعينة $\frac{\text{صفر}}{\text{صفر}}$ (Limits & Indeterminate Forms)

وجدنا سابقاً أن قاعدة القسمة في النهايات تشترط ألا تكون نهاية المقام تساوي صفرًا. غير أن هناك مقادير كسرية تكون نهاية كل من البسط والمقام فيها تساوي صفرًا عند قيمة معينة لـ s ، أي تكون $\frac{\text{نهاية البسط}}{\text{نهاية المقام}} = \frac{0}{0}$ ، وهذه الصورة تسمى صورة غير معينة لأنها لا تعطي نتيجة عددية محددة، ولكن يمكن حساب نهايات مثل هذه الاقترانات الكسرية، أحياناً، بإجراء عمليات جبرية لوضع الاقتران الكسري على صورة مكافئة، تتجاوز الصورة غير المعينة، كما يتضح من الأمثلة الآتية:

مثال (١)

$$\text{أوجد نهايا } \frac{s^3 - s}{s^2 - 2s - 1} \text{ لـ } s \leftarrow 1$$

$$\text{نلاحظ أن نهايا } (s^3 - s) = 0 \text{ وكذلك نهايا } (s^2 - 2s - 1) = 0 \text{ لـ } s \leftarrow 1$$

الحل:

لذلك نلجأ إلى تحليل كل من البسط والمقام وكتابة الاقتران الكسري على صورة مكافئة كما يلي:

$$\frac{s^3 - s}{s^2 - 2s - 1} = \frac{s(s^2 - 1)}{(s-1)(s+2)} = \frac{s(s-1)(s+1)}{(s-1)(s+2)}$$

$$= \frac{s(s+1)}{s+2} \quad , \quad s \neq 1$$

$$\frac{2}{3}$$

مثال (٢)

$$\text{أوجد نهايا } \frac{\sqrt{s+3} - 4}{s-5} \text{ لـ } s \leftarrow 5$$

$$\text{نلاحظ أن نهايا } (\sqrt{s+3} - 4) = 0 \text{ وكذلك نهايا } (s-5) = 0 \text{ لـ } s \leftarrow 5$$

الحل:

لذا نلجأ إلى كتابة الاقتران بصورة مكافئة ، وذلك بضرب كل من البسط والمقام في مرافق البسط كما يلي :

$$\frac{3 + \sqrt{4+s}}{3 + \sqrt{4+s}} \times \frac{3 - \sqrt{4+s}}{5-s} = \frac{3 - \sqrt{4+s}}{5-s}$$

$$= \frac{9 - (4+s)}{(3 + \sqrt{4+s})(5-s)}$$

$$= \frac{(5-s)}{(3 + \sqrt{4+s})(5-s)}$$

$$= \frac{1}{(3 + \sqrt{4+s})} \quad , \quad s \neq 5$$

$$\frac{1}{6} =$$

مثال (٣)

أوجد $\frac{1}{2} - \frac{1}{2+s}$.

الحل:

لاحظ أن: $\frac{1}{2} - \frac{1}{2+s} = 0$ وكذلك $\frac{1}{2} - \frac{1}{2+s} = 0$.

لذا نلجأ إلى كتابة الاقتران بصورة مكافئة ، وذلك بتوحيد المقامات والاختصار كما يلي :

$$\frac{(2+s)-2}{(2+s)2} = \frac{1}{2} - \frac{1}{2+s}$$

$$= \left(\frac{1}{2} \times \frac{s}{(2+s)2} \right)$$

$$= \frac{1-s}{(2+s)2} \quad , \quad s \neq 2$$

$$\frac{1-s}{4} =$$

مثال (٤)

$$\text{أوجد نهايا } \frac{3p-3}{p-3} \cdot \frac{p-3}{p-3}$$

بالتعويض المباشر نلاحظ أن النهاية = $\frac{3}{3}$ ، وهذه صورة غير معينة ؛ ولذا نلجأ إلى كتابة

الحل:

الكسر بصورة أخرى مكافئة ، وذلك بتحليل إلى العوامل :

$$\frac{(3p-3)(p-3)}{(p-3)} \cdot \frac{p-3}{p-3} = \frac{3p-3}{p-3} \cdot \frac{p-3}{p-3}$$

$$= \frac{3(p-1)(p-3)}{p-3} \cdot \frac{p-3}{p-3} =$$

$$= 3(p-1) =$$

تعميم:

$$\text{نهايا } \frac{p^n - n}{p - n} = \frac{p^n - n}{p - n} \text{ حيث } n \text{ عدد صحيح موجب .}$$

مثال (٥)

$$\text{أوجد نهايا } \frac{625 - (2+s)^4}{3-s}$$

بفرض أن $s = 2 + s$ ، تكون $s = 2 - s$

وعندما $s \rightarrow 3$ فإن $s \rightarrow 5$

الحل:

$$\therefore \frac{625 - (2+s)^4}{3-s} \cdot \frac{s-5}{s-5} = \frac{625 - (2+s)^4}{3-s} \cdot \frac{s-5}{s-5}$$

$$= 35 \times 4 =$$

$$= 125 \times 4 =$$

$$= 500 =$$

١ أوجد قيمة كلٍّ من النهايات التالية :

أ $\lim_{s \rightarrow 1} \frac{s+1}{s^2-s-2}$ نها

ب $\lim_{s \rightarrow 2} \frac{s^2+2s-1}{s^2-2s}$ نها

ج $\lim_{s \rightarrow 5} \frac{\frac{1}{s+2} - \frac{1}{7}}{s-5}$ نها

د $\lim_{s \rightarrow 4} \frac{s-4}{\sqrt{s}-2}$ نها

هـ $\lim_{s \rightarrow 3} \frac{s}{\sqrt{s+9}-3}$ نها

و $\lim_{s \rightarrow 2} \frac{s^3+2s^2-s-2}{s^2-4}$ نها

ز $\lim_{s \rightarrow 1} \frac{\sqrt{s+1} - \sqrt{s-1}}{s}$ نها

ح $\lim_{m \rightarrow 2} \frac{m^3+8}{m+2}$ نها

ط $\lim_{s \rightarrow 15} \frac{\sqrt{s-6}-3}{s-15}$ نها

ل $\lim_{s \rightarrow \frac{1}{2}} \frac{s^6-8}{s^4-4}$ نها

ك $\lim_{s \rightarrow 3} \frac{s^4-81}{s-3}$ نها

م $\lim_{s \rightarrow 4} \frac{(s-1)^0-243}{s-4}$ نها

٢ أوجد نها $\lim_{h \rightarrow 0} \frac{q(2+h) - q(2)}{h}$ في كل من الحالتين التاليتين :

أ $q(s) = s^2$ ب $q(s) = \sqrt{s}$

٣ ليكن $q(s) = \left. \begin{array}{l} \frac{s^2-4}{s-2} \\ 1+s \end{array} \right\}$ ، $s \geq 2$ ، $s < 2$

وكانت نها $q(s)$ موجودة، فأوجد قيمة q

نتيجة:

$$\text{نہیا} \frac{\text{ظا س}}{\text{س}} = 1 \text{ ، (س بالتقدير الدائري)}$$

البرهان:

$$\begin{aligned} \text{نہیا} \frac{\text{ظا س}}{\text{س}} &= \frac{\text{ظا س}}{\text{س}} \times \frac{1}{1} \\ &= \frac{\text{ظا س}}{\text{س}} \times \frac{\text{جا س}}{\text{جتا س}} \\ &= 1 \times 1 = 1 \end{aligned}$$

تعميم:

$$1 \quad \text{نہیا} \frac{\text{جا } \mu \text{ س}}{\text{س}} = \mu$$

$$2 \quad \text{نہیا} \frac{\text{ظا } \mu \text{ س}}{\text{س}} = \mu$$

مثال (2)

أوجد نہیا $\frac{\text{جا } 3 \text{ س}}{\text{جا } 5 \text{ س}}$.

الحل:

$$\begin{aligned} \frac{\text{جا } 3 \text{ س}}{\text{جا } 5 \text{ س}} &= \frac{\text{جا } 3 \text{ س}}{\text{جا } 5 \text{ س}} \times \frac{\text{س}}{\text{س}} \\ &= \frac{\text{جا } 3 \text{ س}}{\text{جا } 5 \text{ س}} \\ &= \frac{3}{5} \end{aligned}$$

مثال (٣)

أوجد $\frac{نہا جتا س - ١}{س}$.

الحل:

$$\begin{aligned} \frac{نہا جتا س - ١}{س} &= \frac{١ - (٢ - ١) جا \frac{س}{٢}}{س} \\ &= \frac{٢ - جا \frac{س}{٢}}{س} \\ &= \frac{٢ - جا \frac{س}{٢}}{س} \times (جا \frac{س}{٢}) \\ &= \frac{٢ - جا \frac{س}{٢}}{س} \times \frac{١}{٢} \\ &= \frac{١}{٢} \times ٢ - \frac{١}{٢} \times صفر = صفر. \end{aligned}$$

ملاحظة: يمكن حل المثال بطريقة أخرى، وذلك بضرب كل من البسط والمقام بالمقدار (جتا س + ١)

مثال (٤)

أوجد $\frac{جا٥ س + جا٣ س}{جا٨ س + جا٢ س}$.

الحل:

$$\begin{aligned} \frac{جا٥ س + جا٣ س}{جا٨ س + جا٢ س} &= \frac{جا٥ س + جا٣ س}{جا٨ س + جا٢ س} \times \frac{س}{س} \\ &= \frac{جا٥ س + جا٣ س}{جا٨ س + جا٢ س} \\ &= \frac{٤}{٥} = \frac{٨}{١٠} = \frac{٣ + ٥}{٢ + ٨} \end{aligned}$$

مثال (5)

$$\left. \begin{array}{l} \text{ليكن ق(س)} = \frac{2\text{س جا } \sqrt{1-\text{س}}}{1-\text{س}} \text{ ، } \text{س} < 1 \\ \text{س} \geq 1 \text{ ، } \end{array} \right\} \text{أوجد نهياق(س).}$$

يمكن إعادة كتابة قاعدة ق(س) في جوارس = 1 كالتالي:

$$\left. \begin{array}{l} \text{ق(س)} = \frac{2\text{س جا } \sqrt{1-\text{س}}}{1-\text{س}} \text{ ، } \text{س} < 1 \\ 1 \text{ ، } 0 \leq \text{س} < 1 \\ 2 \text{ ، } \text{س} = 1 \end{array} \right\}$$

الحل:

أ

$$\text{نهياق(س)} = \frac{2\text{س جا } \sqrt{1-\text{س}}}{1-\text{س}} \text{ نهيا}$$

$$= \frac{2\text{س جا } \sqrt{1-\text{س}}}{(1+\sqrt{\text{س}})(1-\sqrt{\text{س}})} \text{ نهيا}$$

$$= \frac{2\text{س}}{1+\sqrt{\text{س}}} \text{ نهيا} \times \frac{\text{جا ه}}{\text{ه}} \text{ ، حيث ه} = \sqrt{1-\text{س}}$$

$$1 = 1 \times 1 =$$

ب

$$\text{نهياق(س)} = 1 \text{ نهيا}$$

∴

$$\text{نهياق(س)} = 1$$

مثال (6)

أوجد نهيا جا πس .

$$\text{نهيا جا } \pi\text{س} = \frac{\text{نهيا جا } (\pi-\pi\text{س})}{\text{س}-1} \text{ (لأن جيب أي زاوية = جيب المكملة)}$$

الحل:

$$= \frac{\text{نهيا جا } (\pi-1\text{س})}{\text{س}-1}$$

$$= \frac{\text{نهيا جا } \pi\text{ه}}{\text{ه}} \text{ حيث ه} = 1-\text{س}$$

$$= \pi$$

١ أوجد كلاً من النهايات التالية :

ب. $\lim_{s \rightarrow 0^+} \frac{\text{جا } s}{\sqrt{s} + 1}$

أ. $\lim_{s \rightarrow 2} \frac{\text{جا } 3s}{s^2}$

د. $\lim_{s \rightarrow 5} \frac{\text{ظا } 3s}{s^5}$

ج. $\lim_{s \rightarrow 5} \frac{s}{\text{ظا } s}$

و. $\lim_{s \rightarrow 1} \frac{s^2}{1 - \text{جتا } s^2}$

هـ. $\lim_{s \rightarrow 2} \frac{\text{ظا } 5s}{\text{ظا } 2s}$

ح. $\lim_{s \rightarrow 1} \frac{1 - \text{جتا } 4s}{\text{جتا } 8s - 1}$

ز. $\lim_{s \rightarrow 1} \frac{s^2}{1 - \text{جتا } s}$

ي. $\lim_{s \rightarrow 1} \frac{s \text{ جا } s}{1 - \text{جتا } s}$

ط. $\lim_{s \rightarrow 2} \frac{s^2 + \text{جا } s}{s}$

ل. $\lim_{s \rightarrow 2} \frac{5s + 10}{\text{جا } (s+2)}$

ك. $\lim_{s \rightarrow 5} \frac{\text{ظا } 2s}{\text{جتا } 5s}$

ن. $\lim_{s \rightarrow 1} \frac{\text{جا } (s-1)}{2s^2 + s - 3}$

م. $\lim_{s \rightarrow 7} \frac{10s + 2s^2}{\text{جا } s}$

ع. $\lim_{s \rightarrow 0} \frac{\text{جا } (s)}{s}$

س. $\lim_{s \rightarrow 2} \frac{1 - \text{جتا } 2s + s \text{ جا } s}{\text{جا } s^2}$

أوجد نهايا ق(س) $\lim_{s \rightarrow 0}$

٢ إذا كان ق(س) = $\left. \begin{array}{l} \frac{\text{جا } 6s}{\text{ظا } 3s} ، s < 0 \\ [s + 3] ، s \geq 0 \end{array} \right\}$

٣ أوجد نهايا $\lim_{s \rightarrow 2} \frac{\text{جا } \pi s}{s + 2}$

٥-١ نهاية الاقتران عندما $s \rightarrow \infty$ (Limits at Infinity)

تعرفنا سابقاً نهاية الاقتران $Q(s)$ عندما تقترب s من عدد حقيقي معين A ، وسندرس في هذا البند نهاية الاقتران $Q(s)$ عندما تزداد s بقيم موجبة وبلا حدود، أي عندما تقترب s من مالانهاية (∞) ، وكذلك عندما تتناقص s بقيم سالبة وبلا حدود، أي عندما تقترب s من سالب مالانهاية $(-\infty)$. وستقتصر دراستنا في هذا البند على الاقترانات النسبية فقط.

مثال (١)

ليكن $Q(s) = \frac{1}{s}$ ، $s \neq 0$.

أ ماذا يحدث لقيم $Q(s)$ عندما تقترب s من ∞ ؟

ب ماذا يحدث لقيم $Q(s)$ عندما تقترب s من $-\infty$ ؟

الحل:

أ نلاحظ من الشكل (١-١٢) أنه كلما زادت قيم s أكثر فأكثر بقيم موجبة

اقتربت قيم $Q(s)$ من الصفر،

لذلك نقول إن نهاية $Q(s)$

عندما تقترب s من مالانهاية تساوي

صفرًا؛ وبالرموز:

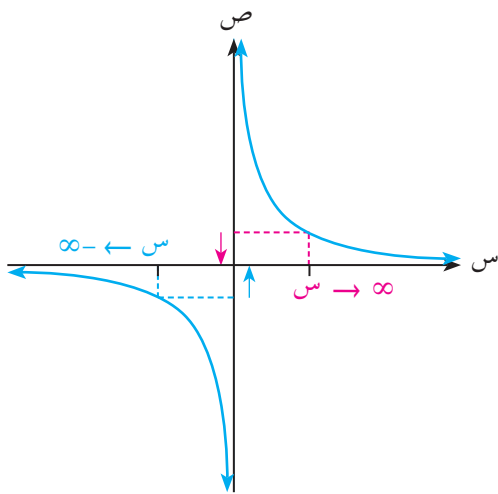
$$\lim_{s \rightarrow \infty} Q(s) = \lim_{s \rightarrow \infty} \frac{1}{s} = 0$$

ب كذلك نلاحظ من الشكل أنه كلما

صغرت قيم s أكثر فأكثر بقيم سالبة

اقتربت قيم $Q(s)$ من الصفر؛

$$\lim_{s \rightarrow -\infty} Q(s) = \lim_{s \rightarrow -\infty} \frac{1}{s} = 0$$



الشكل (١-١٢)

مثال (٢)

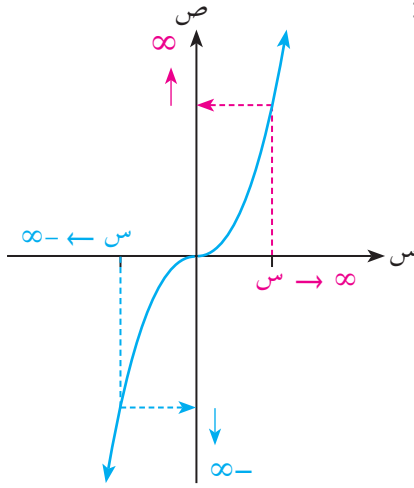
ليكن $Q(s) = s^3$ ، أوجد:

أ نهاية $Q(s)$ عندما $s \rightarrow \infty$ ب نهاية $Q(s)$ عندما $s \rightarrow -\infty$

الحل:

نلاحظ من الشكل (١٣-١) أنه عندما تقترب s من ما لانهاية، فإن قيم $q(s)$ المناظرة تزداد أكثر فأكثر، ويمكن جعل قيم $q(s)$ أكبر من أي عدد حقيقي موجب يمكن تصوره، وذلك باختيار قيم s كبيرة بدرجة كافية. ونقول في هذه الحالة إن نهاية الاقتران $q(s)$ عندما تقترب s من ما لانهاية تساوي ما لانهاية؛ وبالرموز:

$$\lim_{s \rightarrow \infty} q(s) = \lim_{s \rightarrow \infty} s^3 = \infty$$



الشكل (١٣-١)

وبالمثل يمكننا التوصل إلى أن نهاية الاقتران $q(s)$ عندما s تقترب من سالب ما لانهاية هي سالب ما لانهاية؛ وبالرموز:

$$\lim_{s \rightarrow -\infty} q(s) = \lim_{s \rightarrow -\infty} s^3 = -\infty$$

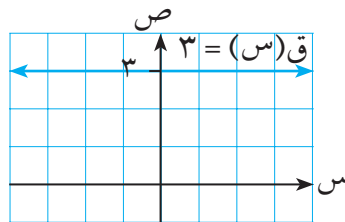
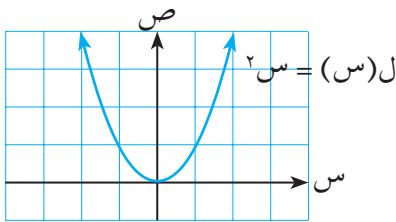
ب

مثال (٣)

استخدم الشكل (١٤-١) التالي في إيجاد:

ب $\lim_{s \rightarrow \infty} l(s)$

أ $\lim_{s \rightarrow \infty} q(s)$



الشكل (١٤-١)

من منحنىي الاقترانين يتضح أن:

$$\lim_{s \rightarrow \infty} q(s) = 3, \quad \lim_{s \rightarrow \infty} l(s) = \infty$$

$$\lim_{s \rightarrow \infty} l(s) = \infty, \quad \lim_{s \rightarrow \infty} q(s) = \infty$$

الحل:

أ

ب

قاعدة

١ $\infty \leftarrow \infty = \infty$ ، $\infty \leftarrow \infty = \infty$ ، حيث ج ثابت

٢ إذا كان عدداً صحيحاً موجباً فإن :

(أ) $\infty \leftarrow \infty = \infty$

(ب) $\infty \leftarrow \infty = \infty$ ، إذا كانت زوجية
 $\infty \leftarrow \infty = \infty$ ، إذا كانت فردية

ملاحظة:

نظرية النهايات السابقة في صفحة ١٢ والمتعلقة بنهاية مجموع أو فرق أو ضرب أو قسمة اقترانين عندما $\infty \leftarrow \infty$ ، تبقى صحيحة عندما نضع $\infty \leftarrow \infty$ بدلاً من $\infty \leftarrow \infty$ ، مع مراعاة القواعد التالية :

(أ) $\infty \leftarrow \infty = \infty$ ، ج ثابت (ب) $\infty \leftarrow \infty = \infty$ ، ج ثابت

(ج) $\infty \leftarrow \infty = \infty$ ، عندما $\infty < \infty$ ، عندما $\infty > \infty$
 (د) $\infty \leftarrow \infty = \infty$ ، عندما $\infty < \infty$ ، عندما $\infty > \infty$

(هـ) $\infty = \infty \times \infty$ (و) $\infty = \infty + \infty$

أما الصور التالية فهي صور غير معينة (شأنها في ذلك شأن الصورة $\frac{\text{صفر}}{\text{صفر}}$)

(أ) $\infty - \infty$ (ب) $\infty \times 0$ (ج) $\frac{\infty}{\infty}$

مثال (٤)

أوجد نهايا $(5 + \frac{1}{s})$

نهايا $(5 + \frac{1}{s}) = \frac{1}{s} + 5 = 5 + 0 = 5$

الحل:

مثال (٥)

أوجد نهايا $\frac{1}{s^3}$

نهايا $\frac{1}{s^3} = \frac{1}{s} \times \frac{1}{s} \times \frac{1}{s} = 0 \times 0 \times 0 = 0$

الحل:

$0 = 0 \times 0 \times 0 = 0$

بوجه عام:

قاعدة:

$$\text{نها} \frac{p}{s} = \frac{p}{s} \quad , \quad \text{نها} \frac{p}{s} = \frac{p}{s} \quad , \quad \text{حيث } n \text{ عدد صحيح موجب ، } p \text{ ثابت}$$

سندرس فيما يلي نهايات اقترانات نسبية عندما $s \rightarrow \infty$ ، ويمكننا حساب ذلك بإخراج أكبر قوى s كعامل مشترك في البسط وكذلك أكبر قوى s كعامل مشترك في المقام ، ثم الاختصار كما يتضح من الأمثلة الآتية:

مثال (٦)

$$\text{أوجد نها} \frac{7 - s + 2s^2}{5 - 2s^3} \text{ نها} \frac{7 - s + 2s^2}{5 - 2s^3}$$

$$\text{نها} \frac{7 - s + 2s^2}{5 - 2s^3} = \frac{7 - s + 2s^2}{5 - 2s^3} \text{ نها} \frac{7 - s + 2s^2}{5 - 2s^3}$$

الحل:

$$\text{نها} \frac{7 - s + 2s^2}{5 - 2s^3} =$$

$$\text{نها} \frac{7 - s + 2s^2}{5 - 2s^3} =$$

$$\frac{2}{3} = \frac{0 - 0 + 2}{0 - 3} =$$

مثال (٧)

$$\text{أوجد نها} \frac{5 + 2s^2 + 7s}{5 - 2s^3} \text{ نها} \frac{5 + 2s^2 + 7s}{5 - 2s^3}$$

$$\text{نها} \frac{5 + 2s^2 + 7s}{5 - 2s^3} = \frac{5 + 2s^2 + 7s}{5 - 2s^3} \text{ نها} \frac{5 + 2s^2 + 7s}{5 - 2s^3}$$

الحل:

$$\begin{aligned} &= \frac{\frac{7}{s} + 5}{\frac{5}{s} - 2} \times \frac{1}{s} \\ &= \frac{5}{2} \times \text{صفر} \\ &= \text{صفر} \end{aligned}$$

مثال (٨)

أوجد $\frac{5s^3 - 2s^2 + 7s}{s^2 - 6s}$

$$\frac{(5s^3 - 2s^2 + 7s) \cdot s}{(s^2 - 6s) \cdot s} = \frac{5s^4 - 2s^3 + 7s^2}{s^2 - 6s}$$

الحل:

$$\begin{aligned} &= \frac{\frac{7}{2s} + \frac{1}{s} - 5}{(2 - \frac{6}{s})} \times \frac{2}{s} \\ &= \frac{5}{2-} \times \infty \\ &= \infty- \end{aligned}$$

مثال (٩)

أوجد $\frac{(7 + 5s - 3s^3)}{s^3}$

$$\begin{aligned} &= \frac{(7 + 5s - 3s^3) \cdot s^3}{s^3 \cdot s^3} \\ &= 1 \times \infty \\ &= \infty \end{aligned}$$

الحل:

١ أوجد كلاً من النهايات التالية :

١ نها (س) $\frac{3-5s^2+1}{s \rightarrow \infty}$

٢ نها (س) $\frac{3-5s-1}{s \rightarrow -\infty}$

٣ نها $\frac{5}{3x+e} \quad x \rightarrow -\infty$

٤ نها $\frac{2s+4}{5s+2} \quad s \rightarrow \infty$

٥ نها $\frac{2-s}{6+5s-2} \quad s \rightarrow -\infty$

٦ نها $\frac{5s^3}{2s^2-5s} \quad s \rightarrow -\infty$

٧ نها $\frac{2-5s^2}{3s^2-1} \quad s \rightarrow -\infty$

٨ نها $\frac{4s^3+1}{5s^3-1} \quad s \rightarrow \infty$

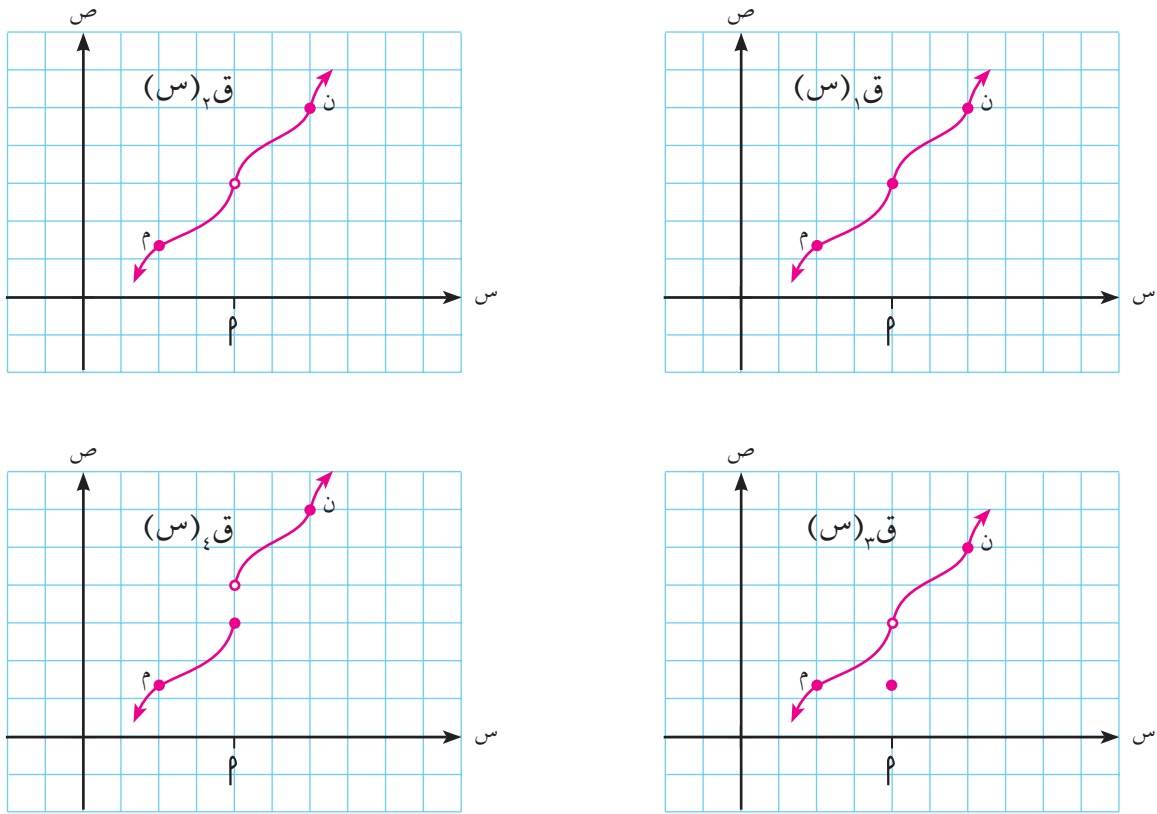
٢ إذا كان ق(س) = $\frac{p}{1+s}$

وكانت نها ق(س) = $\frac{2}{3}$ ، نها ق(س) = $\frac{4}{7}$ $s \rightarrow 1$
 أوجد الثابتين P ، ب .

درسنا سابقاً نهاية الاقتران عند نقطة دون أي اعتبار خاص لقيمة الاقتران عند تلك النقطة، وفي هذا البند سندرس قيمة الاقتران ونهايته معاً.

اتصال الاقتران عند نقطة:

يوضح الشكل (١-١٥) منحنيات الاقترانات $ق_١(س)$ ، $ق_٢(س)$ ، $ق_٣(س)$ ، $ق_٤(س)$ حول النقطة على المنحني حيث $س = م$:



الشكل (١-١٥)

نلاحظ أنه، في حالة الاقتران $ق_١(س)$ ، يمكن رسم جزء المنحني الواقع بين النقطتين م، ن المجاورتين للنقطة عند $س = م$ دون الحاجة لرفع سن القلم عن الورقة؛ بينما لا نستطيع ذلك في حالة الاقترانات $ق_٢(س)$ ، $ق_٣(س)$ ، $ق_٤(س)$.

نقول إن الاقتران $ق_١(س)$ اقتران متصل عند $س = م$ ، في حين أن الاقترانات $ق_٢(س)$ ، $ق_٣(س)$ ، $ق_٤(س)$ اقترانات منفصلة أو غير متصلة عند $س = م$.

تعريف:

يكون الاقتران $Q(S)$ متصلاً عند $S=P$ في مجاله إذا وفقط إذا كانت $\text{نهاق}_{S \leftarrow P}(S) = Q(P)$

وهذا يعني أن:

الاقتران $Q(S)$ يكون متصلاً عند $S=P$ إذا وفقط إذا تحققت الشروط الثلاثة التالية معاً:

١ $Q(S)$ معرف عند $S=P$

٢ $\text{نهاق}_{S \leftarrow P}(S)$ موجودة

٣ $\text{نهاق}_{S \leftarrow P}(S) = Q(P)$

وبالرجوع إلى منحنيات الاقترانات $Q_1(S)$ ، $Q_2(S)$ ، $Q_3(S)$ ، $Q_4(S)$ ، في الشكل (١-١٥) السابق، نلاحظ أن:

١ $Q_1(S)$ متصل عند $S=P$ لأن $\text{نهاق}_{S \leftarrow P}(S) = Q_1(P)$.

٢ $Q_2(S)$ غير متصل عند $S=P$ وذلك لأن $Q_2(S)$ غير معرف عند $S=P$.

٣ $Q_3(S)$ غير متصل عند $S=P$ وذلك لأن $\text{نهاق}_{S \leftarrow P}(S) \neq Q_3(P)$.

٤ $Q_4(S)$ غير متصل عند $S=P$ وذلك لأن $\text{نهاق}_{S \leftarrow P}(S)$ غير موجودة.

مثال (١)

$$\left. \begin{array}{l} S^2 \geq 1 \\ S < 1 \end{array} \right\} \text{ابحث في اتصال الاقتران } Q(S)$$

أ عند $S=0$ ب عند $S=1$

الحل:

أ $Q(0) = 0$

$\text{نهاق}_{S \leftarrow P}(S) = \text{نهاق}_{S \leftarrow 1}(S) = \text{صفر}$

بما أن $\text{نهاق}_{S \leftarrow P}(S) = Q(0)$

∴ ق(س) متصل عند س = ٠

ب ق(١) = ١

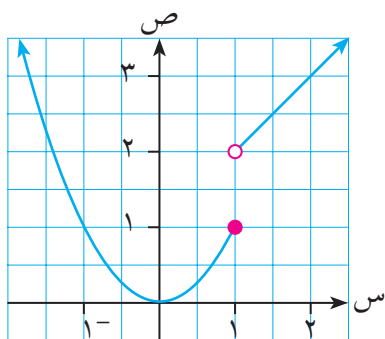
$$\text{نهاق(س)} = \text{نهاق(س+١)} = ٢$$

$$\text{نهاق(س)} = \text{نهاق(س-١)} = ١$$

⇐ نهاق(س) غير موجودة.

أي أن الاقتران ق(س) غير متصل عند س = ١

انظر منحنى الاقتران ق(س) في الشكل (١٦-١).



الشكل (١٦-١)

مثال (٢)

ابحث في اتصال الاقتران ق(س) = $\left. \begin{array}{l} \text{س} \neq ٢, \frac{٤-٢\text{س}}{٢-\text{س}} \\ \text{س} = ٢, ٥ \end{array} \right\}$ ، عند س = ٢

الحل:

$$\text{نهاق(س)} = \text{نهاق(س)} = \frac{٤-٢\text{س}}{٢-\text{س}}$$

$$= \frac{(٢-\text{س})(٢+\text{س})}{٢-\text{س}}$$

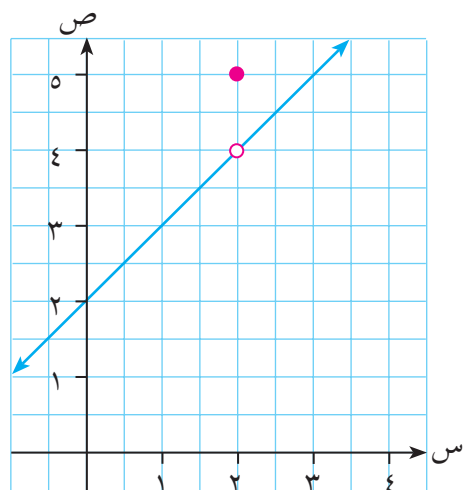
$$= \text{نهاق(س+٢)} = ٤$$

ق(٢) = ٥

وبما أن نهاق(س) ≠ ق(٢)

∴ ق(س) غير متصل (منفصل) عند س = ٢

لاحظ الشكل (١٧-١)



الشكل (١٧-١)

ملاحظة:

نلاحظ في المثال السابق أن ق(س) غير متصل عند س = ٢ لأن نهاق(س) ≠ ق(٢). ولكن إذا أعدنا تعريف الاقتران عند س = ٢ ليصبح ق(٢) = ٤ فإن ق(س) يصبح متصلاً عند س = ٢.

مثال (٣)

$$\left. \begin{array}{l} 2س + ج \geq 1 \\ 3س + 2س < 1 \end{array} \right\} \text{أوجد قيمة ج التي تجعل الاقتران ق(س) = متصلًا عند س = 1 .}$$

حتى يكون الاقتران ق(س) متصلًا عند س = 1 ، يجب أن تكون $\lim_{س \rightarrow 1^-} ق(س) = \lim_{س \rightarrow 1^+} ق(س)$ وتساوي ق(1) .

الحل:

$$\lim_{س \rightarrow 1^+} ق(س) = \lim_{س \rightarrow 1^-} ق(س) = ق(1)$$

$$\therefore 4 = 2 + ج ، ومنها ج = 2$$

نظريات الاتصال

بالاعتماد على نظريات النهايات السابقة يمكن التوصل إلى النظريات التالية التي تساعدنا في دراسة اتصال اقترانات معرفة بدلالة اقترانات أخرى متصلة .

نظرية (١):

إذا كان ق(س) ، هـ(س) اقترانين متصلين عند س = P فإن :

١ (ق + هـ) (س) متصل عند س = P

٢ (ق - هـ) (س) متصل عند س = P

٣ (ق . هـ) (س) متصل عند س = P

٤ ك . هـ (س) متصل عند س = P حيث ك $\in \mathbb{R}$

٥ $\left(\frac{ق}{هـ}\right)$ (س) متصل عند س = P حيث هـ(P) $\neq 0$

٦ $\sqrt[n]{ق(س)}$ متصل عند س = P حيث n عدد صحيح موجب ، وبشرط أن ق(P) > 0 إذا كانت n زوجية .

مثال (٤)

ليكن ق(س) اقتراناً متصلاً عند س = 2 . ابحث في اتصال كل من الاقترانات التالية عند س = 2

أ ع(س) = 2س + ق(س) ب ل(س) = $\frac{ق(س)}{س + 5}$ ج هـ(س) = $\sqrt{1 - 2س}$

الحل:

- أ** الاقتران s^2 متصل عند $s = 2$ (لماذا؟)
- ∴ الاقتران $ع(s) = s^2 + ق(s)$ متصل عند $s = 2$ ؛ لأنه مجموع اقترانين متصلين عند النقطة نفسها.
- ب** الاقتران $s + 5$ متصل عند $s = 2$ (لماذا؟)
- ∴ الاقتران $ل(s) = \frac{ق(s)}{5 + s}$ متصل عند $s = 2$ ؛ لأنه ناتج قسمة اقترانين متصلين عند النقطة نفسها، وقيمة المقام عند $s = 2 \neq 0$.
- ج** الاقتران $s^2 - 1$ متصل عند $s = 2$ (لماذا؟)
- ∴ الاقتران $هـ(s) = \sqrt{s^2 - 1}$ متصل عند $s = 2$ (نظرية (1) فرع 6)

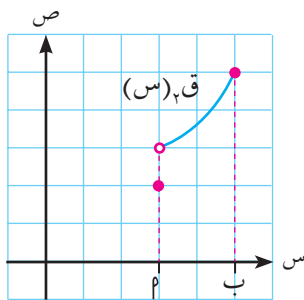
اتصال الاقتران على فترة:

تعريف:

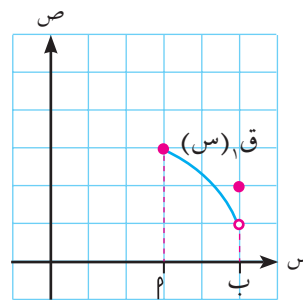
إذا كان $ق(s)$ اقتراناً معرفاً على الفترة المغلقة $[a, b]$ فإن الاقتران $ق(s)$ يكون:

- ١** متصلاً من جهة اليمين عند $s = a$ إذا كانت $ق(s) = ق(a) + s \leftarrow a$.
- ٢** متصلاً من جهة اليسار عند $s = b$ إذا كانت $ق(s) = ق(b) - s \leftarrow b$.

لاحظ التوضيح التالي في الشكل (1-18):



$ق(a)$ متصل عند $s = a$ من جهة اليسار
ومنفصل عند $s = a$ من جهة اليمين



$ق(a)$ متصل عند $s = a$ من جهة اليمين
ومنفصل عند $s = a$ من جهة اليسار

الشكل (1-18)

تعريف:

- ١ يكون الاقتران ق(س) متصلاً على الفترة المفتوحة $[P, B]$ ، إذا كان متصلاً عند كل نقطة في الفترة.
- ٢ يكون الاقتران ق(س) متصلاً على الفترة المغلقة $[P, B]$ إذا كان متصلاً عند كل نقطة في الفترة المفتوحة $[P, B]$ ، وكان متصلاً عند $s = P$ من جهة اليمين وعند $s = B$ من جهة اليسار.

بالاعتماد على التعريف السابق ونهايات الاقترانات يمكنك التحقق من صحة كل مما يلي:

- ١ الاقتران كثير الحدود يكون متصلاً على \mathbb{C} .
- ٢ الاقتران النسبي يكون متصلاً على \mathbb{C} عدا أصفار المقام.
- ٣ اقتران الجيب و اقتران جيب التمام متصلان على \mathbb{C} .
- ٤ اقتران القيمة المطلقة ق(س) = |س| متصل على \mathbb{C} .

مثال (٥)

ابحث في اتصال الاقترانات التالية:

- أ ق(س) = $s^2 + 5$
- ب هـ(س) = $\frac{s^2 + 1}{s^2 - 4}$
- ج ل(س) = ظا س على الفترة $[\pi, 0]$

الحل:

- أ ق(س) = $s^2 + 5$ اقتران كثير حدود فهو متصل عند جميع قيم $s \in \mathbb{C}$.
- ب هـ(س) = $\frac{s^2 + 1}{s^2 - 4}$ اقتران نسبي فهو متصل عند جميع قيم $s \in \mathbb{C}$ عدا $s = 2$ ، $s = -2$.
- ج ل(س) = ظا س = $\frac{\sin s}{\cos s}$ خارج قسمة اقترانين متصلين فهو متصل عند جميع قيم $s \in \mathbb{C}$ [$\pi, 0$] ما عدا $s = \frac{\pi}{2}$ (صفر المقام)

مثال (٦)

$$\left. \begin{array}{l} 1 \geq s \geq 0, \quad 2+s \\ 2 \geq s > 1, \quad 3 \end{array} \right\} = \text{ليكن ق(س)}$$

ابحث في اتصال الاقتران ق(س) على الفترة [٢، ٠].

الحل:

أولاً: الاقتران ق(س) متصل على الفترة المفتوحة [١، ٠] لأنه كثير حدود.

ثانياً: الاقتران ق(س) متصل على الفترة المفتوحة [٢، ١] لأنه كثير حدود.

ثالثاً: الاقتران ق(س) متصل عند $s = 1$ لأن:

$$\lim_{s \rightarrow 1^+} \text{ق(س)} = \lim_{s \rightarrow 1^-} \text{ق(س)} = 3$$

رابعاً: الاقتران ق(س) متصل عند $s = 0$ من جهة اليمين؛ لأن:

$$\lim_{s \rightarrow 0^+} \text{ق(س)} = \lim_{s \rightarrow 0^+} (2+s) = 2$$

خامساً: الاقتران ق(س) متصل عند $s = 2$ من جهة اليسار؛ لأن:

$$\lim_{s \rightarrow 2^-} \text{ق(س)} = \lim_{s \rightarrow 2^-} (2) = 3$$

∴ ق(س) متصل على [٢، ٠].

مثال (٧)

$$\left. \begin{array}{l} 2- = s, \quad 2 \\ 1 \geq s > 2-, \quad 2 \\ 2 \geq s > 1, \quad s-2 \end{array} \right\} = \text{ليكن ق(س)}$$

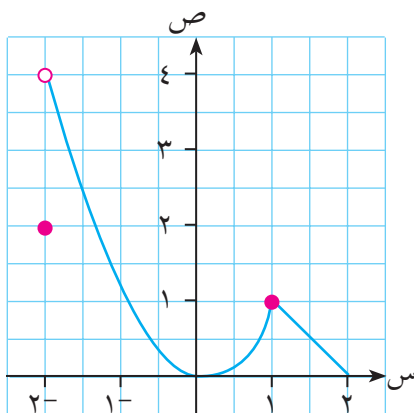
ارسم منحنى ق(س) ثم ابحث في اتصال

ق(س) على الفترة [٢، ٢-].

يمثل الشكل (١٩-١) منحنى الاقتران ق(س).

أولاً: ق(س) متصل على الفترة المفتوحة [١، ٢-] لأنه كثير حدود.

ثانياً: ق(س) متصل على الفترة المفتوحة [٢، ١] لأنه كثير حدود أيضاً.



الشكل (١٩-١)

الحل:

ثالثاً:

ق(س) متصل عند س = ١ لأن:

$$\lim_{s \rightarrow 1^-} \text{نهاق(س)} = \lim_{s \rightarrow 1^-} (س) = ١ \quad , \quad \lim_{s \rightarrow 1^+} \text{نهاق(س)} = \lim_{s \rightarrow 1^+} (س-٢) = ١$$

$$\therefore \lim_{s \rightarrow 1} \text{نهاق(س)} = (١) = ١$$

رابعاً: ق(س) غير متصل عند س = ٢- من جهة اليمين لأن:

$$\lim_{s \rightarrow 2^-} \text{نهاق(س)} = \lim_{s \rightarrow 2^-} (س) = ٢ \quad \text{بينما} \quad \lim_{s \rightarrow 2^-} \text{نهاق(س)} = \lim_{s \rightarrow 2^-} (س-٢) = ٠$$

$$\text{أي أن نهاق(س)} \neq \text{ق(س)} \quad \text{عند} \quad س = ٢$$

خامساً: ق(س) متصل عند س = ٢ من اليسار لأن:

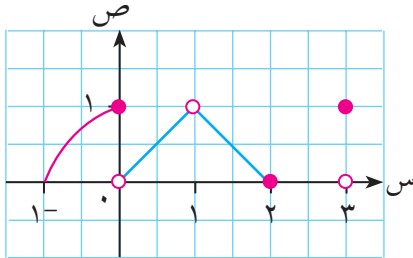
$$\lim_{s \rightarrow 2^-} \text{نهاق(س)} = \lim_{s \rightarrow 2^-} (س-٢) = ٠ \quad , \quad \lim_{s \rightarrow 2^-} \text{ق(س)} = ٠$$

$$\text{أي أن نهاق(س)} = \text{ق(س)} \quad \text{عند} \quad س = ٢$$

∴ ق(س) غير متصل على $[٢, ٢-]$

لاحظ أن ق(س) متصل على $[٢, ٢-]$ لأنه متصل عند جميع قيم س $\in [٢, ٢-]$ ، ومتصل عند س = ٢ من اليسار.

تمارين (٦-١)



١ يمثل الشكل المقابل منحنى الاقتران ق(س) على $[-١, ٣]$.

بين أي العبارات التالية صائبة وأيها خاطئة مع ذكر السبب:

أ ق(س) متصل عند س = ١- من جهة اليسار .

ب ق(س) متصل عند س = ١

ج ق(س) غير متصل عند س = ٠

د ق(س) متصل عند س = ٢

ه ق(س) متصل على الفترة $[٠, ١-]$.

و ق(س) متصل على الفترة $[١, ٠]$.

ز ق(س) متصل على الفترة $[١, ٣]$.

ح يمكن تعريف ق(س) عند س = ١ ليصبح متصلاً عندها.

ط يمكن إعادة تعريف ق(س) عند س = ٠ ليصبح متصلاً عندها.

٢ ابحث في اتصال كل من الاقتران التاليتين عند قيم س المبينة إزاء كل منها :

$$\text{أ } \left. \begin{array}{l} \frac{1-s^2}{1-s} \\ 4 \end{array} \right\} = \text{ق (س)} \quad \begin{array}{l} \text{س} \neq 1 \\ \text{س} = 1 \end{array} \quad \text{عند س} = 1$$

$$\text{ب } \left. \begin{array}{l} \frac{|1-s|}{1-s} \\ 5 \end{array} \right\} = \text{ل (س)} \quad \begin{array}{l} \text{س} \neq 1 \\ \text{س} = 1 \end{array} \quad \text{عند س} = 1$$

$$\text{ج } \left. \begin{array}{l} \frac{\text{جاس}}{|س|} \\ 1 \end{array} \right\} = \text{م (س)} \quad \begin{array}{l} \text{س} \neq 0 \\ \text{س} = 0 \end{array} \quad \text{عند س} = 0$$

$$\text{٣ } \left. \begin{array}{l} 1-s \\ 5 \end{array} \right\} = \text{ليكن ق (س)} \quad \begin{array}{l} 0 \leq \text{س} \leq 1 \\ 1 < \text{س} < 2 \\ \text{س} = 2 \end{array} \quad \text{ابحث في اتصال ق (س) على الفترة } [0, 2].$$

$$\text{٤ } \left. \begin{array}{l} 1+s^2 \\ \frac{س}{س+ب} \end{array} \right\} = \text{إذا كان ق (س)} \quad \begin{array}{l} 1-s \geq 1 \\ 1 > 1-s \geq 1 \\ 1 < 1-s \end{array} \quad \text{أوجد الثابتين } 1, \text{ ب ليكون ق (س) متصلاً على } \mathbb{R}.$$

$$\text{٥ } \left. \begin{array}{l} 1-3س^2 \\ 1+س \end{array} \right\} = \text{إذا كان ق (س)} \quad \begin{array}{l} 1 > 1-3س^2 \\ 2 \geq 1-3س^2 \\ 2 \geq 1-3س^2 \end{array}$$

ابحث في اتصال الاقتران ق (س) على الفترة $[-2, 2]$.

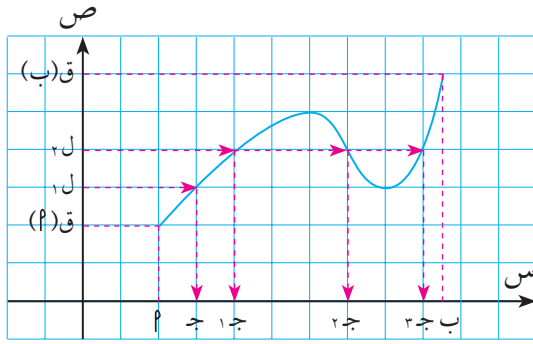
٦ أوجد قيم س التي يكون كل من الاقتران التاليتين متصلتين عندها :

$$\text{أ } \left. \begin{array}{l} \frac{1}{2-س} \\ 5+س \end{array} \right\} = \text{ق (س)} \quad \text{ب } \left. \begin{array}{l} \frac{س+5}{3+س-2س^2} \\ 5+س \end{array} \right\} = \text{ق (س)} \quad \text{ج } \left. \begin{array}{l} |س-1| \\ 5+س \end{array} \right\} = \text{ق (س)}$$

$$\text{د } \left. \begin{array}{l} \sqrt{1+2س} \\ 1+س \end{array} \right\} = \text{ق (س)} \quad \text{هـ } \left. \begin{array}{l} \frac{1-جا^2س}{جتاس} \\ 1-جا^2س \end{array} \right\} = \text{ق (س)} \quad \text{و } \left. \begin{array}{l} 1-جا^2س \\ 1-جا^2س \end{array} \right\} = \text{ق (س)}$$

$$\text{٧ } \left. \begin{array}{l} \frac{\text{جاس}}{2س} \\ 1 \end{array} \right\} = \text{أوجد قيمة } 1 \text{ التي تجعل الاقتران ق (س)}$$

٧-١ نظرية القيم الوسطية (Intermediate Value Theorem)



الشكل (٢٠-١)

للافتراضات المتصلة على فترة مغلقة خصائص رياضية مهمة سوف نتعرف بعضها في هذا البند .

يمثل الشكل (٢٠-١) منحنى الاقتران ق(س) المتصل على الفترة المغلقة $[a, b]$. القيمة l تقع بين ق(ا)، ق(ب) ، ونلاحظ وجود $s =$ ج تقع بين a, b حيث $ق(ج) = l$. كذلك نلاحظ أن l تقع بين ق(ا)، ق(ب) أيضاً، وأنه يوجد ثلاث قيم s هي ج١، ج٢، ج٣ وتقع جميعها بين a, b حيث $ق(ج١) = ق(ج٢) = ق(ج٣) = l$

وبوجه عام، فإنه لأي قيمة l تقع بين ق(ا)، ق(ب) توجد قيمة واحدة على الأقل s تقع بين a, b بحيث إن ق(س) = l ؛ أي أن المستقيم $ص = l$ لا بد أن يقطع منحنى الاقتران ق(س) عند نقطة واحدة على الأقل (ج، ق(ج))، حيث $ج \in [a, b]$ ، وهذا يقودنا إلى النظرية التالية:

نظرية القيم الوسطية:

إذا كان الاقتران ق(س) متصلاً على الفترة المغلقة $[a, b]$ ، ق(ا) \neq ق(ب) فإنه لأي عدد مثل l يقع بين ق(ا)، ق(ب) يوجد عدد واحد على الأقل مثل $ج \in [a, b]$ ، بحيث إن ق(ج) = l .

مثال (١)

ليكن الاقتران ق(س) = $س^٣ - ٣س$ معرفاً على الفترة $[١, ٣]$.

اثبت وجود عدد $ج \in [١, ٣]$ ، بحيث ق(ج) = ٢

أوجد قيمة ج.

الحل:

ق(س) = $س^٣ - ٣س$ اقتران متصل على $[١, ٣]$ لأنه كثير حدود

$$ق(١) = -٢ ، ق(٣) = ١٨$$

وحيث إن $٢ = l$ تقع بين $-٢, ١٨$ فإنه حسب نظرية القيم الوسطية يوجد $ج \in [١, ٣]$

بحيث إن ق(ج) = ٢ .

ب

$$ق(ج) = 2$$

$$ج^3 - 3ج - 2 = 0 \therefore$$

$$0 = (ج - 2)(ج^2 + 2ج + 1)$$

$$0 = (ج - 2)(ج + 1)^2$$

$$\therefore ج = 2, 1 -$$

$\therefore ج = 2$ وترفض $ج = 1 -$ لأن $1 -$ لا تنتمي للفترة $[1, 3]$.

مثال (2)

$$\left. \begin{array}{l} 2 > س \geq 0, \quad 1 + س^2 \\ 2 = س, \quad 2 \\ 4 \geq س > 2, \quad 2 + س \end{array} \right\} \text{ليكن ق(س) =}$$

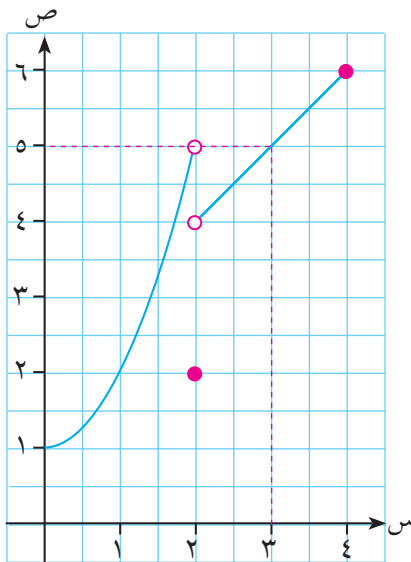
بين أن ق(س) لا يحقق شروط نظرية القيم الوسطية على $[0, 4]$

هل توجد ج $\in [0, 4]$ بحيث ق(ج) = 5؟

أ

ب

الحل:



الشكل (1-21)

ق(س) متصل على $[0, 2]$ لأنه كثير حدود.

ق(س) متصل على $[2, 4]$ لأنه كثير حدود.

$$\text{نهاية ق(س)} = \lim_{س \rightarrow 2^-} (س^2 + 1) = 5$$

$$\text{نهاية ق(س)} = \lim_{س \rightarrow 2^+} (2 + س) = 4$$

\therefore نهاية ق(س) غير موجودة.

\therefore ق(س) غير متصل عند $س = 2$

وبالتالي غير متصل على $[0, 4]$

\Leftarrow ق(س) لا يحقق شروط نظرية القيم الوسطية على $[0, 4]$

ب

$$ق(ج) = 5$$

$$\therefore \text{إما } ج^2 + 1 = 5, \quad 0 \leq ج < 2 \dots \dots \dots (1)$$

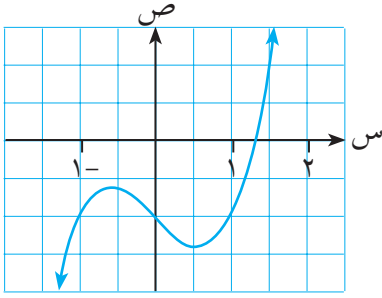
$$\text{أو } 2 + ج = 5, \quad 2 < ج \leq 4 \dots \dots \dots (2)$$

لا توجد قيمة لـ ج تحقق المعادلة الأولى وقيمة ج التي تحقق المعادلة الثانية هي $ج = 3$

\therefore قيمة ج المطلوبة هي 3. لاحظ الشكل (1-21).

مثال (٣)

إذا كان $q(s) = s^3 - s - 1$ فأثبت أنه يوجد ج $\exists [1, 2]$ بحيث إن $q(j) = 0$.



الشكل (٢٢-١)

ق(س) اقتران متصل على $[1, 2]$ لأنه كثير حدود.

$$q(1) = -1, \quad q(2) = 5$$

وحيث إن القيمة ل = صفر تقع بين $1, 5$,

فإنه حسب نظرية القيم الوسطية

يوجد ج $\exists [1, 2]$ بحيث إن $q(j) = 0$.

انظر الشكل (٢٢-١).

الحل:

المثال السابق يوضح حالة خاصة من نظرية القيم الوسطية تعرف باسم نظرية بلزانو:

نظرية بلزانو:

إذا كان $q(s)$ اقتراناً متصلاً على $[a, b]$ ، وكان $q(a)$ ، $q(b)$ مختلفين في الإشارة،

فإنه يوجد ج $\exists [a, b]$ ، بحيث إن $q(j) = 0$.

مثال (٤)

ليكن $q(s) = s^4 + s - 4$ ، $s \in \mathbb{R}$

اثبت باستخدام نظرية بلزانو وجود صفر واحد على الأقل للاقتران في مجاله.

نحرب فترة ما ولتكن $[1, 2]$ يحقق فيها الاقتران $q(s)$ شروط نظرية بلزانو.

$$q(1) = 1 + 1 - 4 = -2 < 0$$

$$q(2) = 16 - 2 + 1 = 15 > 0$$

∴ $q(1)$ ، $q(2)$ مختلفان في الإشارة

ق(س) متصل على الفترة $[1, 2]$ لأنه كثير حدود.

∴ ق(س) يحقق شروط نظرية بلزانو على الفترة $[1, 2]$.

∴ يوجد صفر واحد على الأقل للاقتران $q(s)$ في الفترة $[1, 2]$.

∴ للاقتران $q(s)$ صفر واحد على الأقل في مجاله.

الحل:

مثال (٥)

$$\text{ليكن ق(س)} = \begin{cases} \text{س}^2 + \text{س}^3 - ٤ ، & \text{س} \geq ٢ \\ \text{س}^3 - ٣\text{س}^٢ ، & \text{س} < ٢ \end{cases}$$

أ ابحث في تحقق شروط نظرية بلزانو على الفترة $[-٣ ، ٤]$.

ب جد ج $\exists [-٣ ، ٤]$ بحيث ق(ج) = ٠ ، هل تتعارض هذه النتيجة مع نظرية بلزانو؟

أ

ب

الحل:

$$\text{نهاق(س)} = \text{نهاق(س)} = \begin{cases} \text{س}^2 + \text{س}^3 - ٤ ، & \text{س} \geq ٢ \\ \text{س}^3 - ٣\text{س}^٢ ، & \text{س} < ٢ \end{cases}$$

$$\text{نهاق(س)} = \text{نهاق(س)} = \begin{cases} \text{س}^2 + \text{س}^3 - ٤ ، & \text{س} \geq ٢ \\ \text{س}^3 - ٣\text{س}^٢ ، & \text{س} < ٢ \end{cases}$$

∴ نهاق(س) غير موجودة.

∴ ق(س) غير متصل عند $\text{س} = ٢$ فهو غير متصل على الفترة $[-٣ ، ٤]$.

∴ ق(س) لا يحقق شروط نظرية بلزانو على الفترة $[-٣ ، ٤]$.

ب ق(ج) = ٠

∴ إما ج^٢ + ج^٣ - ٤ = ٠ ، $٣- \geq \text{ج} \geq ٢$ (١)

أو ج^٣ - ٣ج^٢ = ٠ ، $٢ > \text{ج} \geq ٤$ (٢)

$$\text{ج}^٢ + \text{ج}^٣ - ٤ = ٠ \iff \text{ج}(\text{ج} + ٤) = ٠ \iff \text{ج} = ١ \text{ ونرفض ج} = -٤$$

$$\text{ج}^٣ - ٣\text{ج}^٢ = ٠ \iff \text{ج} = ٣ ، \text{ ونرفض ج} = ٠$$

∴ توجد قيمتان لـ ج تنتميان للفترة $[-٣ ، ٤]$ هما ١ ، ٣ تجعلان ق(ج) = ٠

لا تتعارض هذه النتيجة مع نظرية بلزانو؛ لأنه إذا لم تتحقق شروط نظرية بلزانو فإنه لا يمكن

الجزم من ذلك بوجود أو عدم وجود ج .

تستخدم نظرية بلزانو في إيجاد قيم تقريبية لأصفار الاقترانات بالاعتماد على الطريقة المسماة طريقة التنصيف

الموضحة في المثال التالي :

مثال (٦)

بين أنه يوجد صفر واحد على الأقل للاقتران ق(س) = س^٢ - س - ٤ بين ٢ ، ٣ ، ثم أوجد قيمة تقريبية ثالثة له باستخدام طريقة التنصيف .

الحل:

ق(س) = س^٢ - س - ٤ اقتران متصل على [٢ ، ٣] لأنه كثير حدود

ق(٢) = -٢ ، ق(٣) = ٢ مختلفتان في الإشارة

∴ حسب نظرية بلزانو يوجد ج_١ ∈ [٢ ، ٣] حيث ق(ج_١) = ٠

لإيجاد قيمة تقريبية أولى ج_١ نختار الوسط الحسابي ج_١ = $\frac{٣+٢}{٢} = ٢,٥$

لإيجاد قيمة تقريبية ثانية ج_٢ لصفر الاقتران :

نحسب ق(٢,٥) = (٢,٥) = ٢ - ٢,٥ - ٤ = -٠,٢٥ > ٠ صفر

نلاحظ أن إشارة ق(٢,٥) تختلف عن إشارة ق(٣)؛ لذا يمكن تطبيق نظرية بلزانو على الفترة [٢,٥ ، ٣].

∴ صفر الاقتران ∈ [٢,٥ ، ٣] ونختار ج_٢ = $\frac{٣+٢,٥}{٢} = ٢,٧٥$

ولإيجاد قيمة تقريبية ثالثة ج_٣ :

نحسب ق(٢,٧٥) = (٢,٧٥) = ٢ - ٢,٧٥ - ٤ = -٠,٨١٢٥ < ٠

وتختلف عن ق(٢,٥) في الإشارة .

∴ تتحقق نظرية بلزانو على الفترة [٢,٧٥ ، ٢,٥]

∴ صفر الاقتران ج_٣ ∈ [٢,٧٥ ، ٢,٥]

ويكون التقريب الثالث ج_٣ = $\frac{٢,٧٥+٢,٥}{٢} = ٢,٦٢٥$

تمارين (٧-١)

- ١ إذا كان ق(س) = س^٣ - ٨س + ١٠ معرفاً على الفترة [١ ، ٣]، بين أنه يوجد ج_١ ∈ [١ ، ٣] بحيث إن ق(ج_١) = ٥ .
- ٢ إذا كان ق(س) = س^٣ - س ، فهل يوجد ج_١ ∈ [٢ ، ٣] بحيث ق(ج_١) = ٨ ؟
- ٣ استخدم نظرية بلزانو لإيجاد قيمة تقريبية ثالثة لصفر الاقتران ق(س) = س^٣ - ٥ المعرف على الفترة المغلقة [١ ، ٢]
- ٤ استخدم نظرية بلزانو لإيجاد قيمة تقريبية ثالثة للعدد $\sqrt{٢}$ في الفترة المفتوحة [١ ، ٢] .
- ٥ بين أن للمعادلة جتا س = س حلاً واحداً على الأقل .
- ٦ بين أن للمعادلة س^٣ - ١٥س + ١ = ٠ ثلاثة جذور مختلفة في الفترة [-٤ ، ٤] .
- ٧ هل يوجد صفرٌ للاقتران ق(س) = س^٣ - ٤س - ١ في الفترة [-٢ ، ٢] ؟

تمارين عامة

١ ضع دائرة حول رمز الإجابة الصحيحة فيما يلي:

١
$$= \frac{\sqrt{s+4} - 2}{s}$$
 نها $\left. \begin{array}{l} \leftarrow s \\ \leftarrow s \end{array} \right\}$ صفر

- أ صفر ب ∞ ج $\frac{1}{4}$ د ٤

٢
$$= \frac{\text{جتاس}}{s}$$
 نها $\left. \begin{array}{l} \leftarrow s \\ \leftarrow \pi \end{array} \right\}$ $\pi -$

- أ $\pi -$ ب $\frac{1-\pi}{\pi}$ ج $\frac{1}{\pi}$ د ∞

٣
$$= \frac{|s-4|}{s-2}$$
 نها $\left. \begin{array}{l} \leftarrow s \\ \leftarrow \infty \end{array} \right\}$ ٢

- أ ٢ ب $2-$ ج ∞ د $\infty -$

٤ الاقتران ق(س) = [س + ٧, ٠] متصل عند س =

- أ صفر ب ٠, ٣ ج ١, ٣ د $٠, ٧ -$

٥ قيمة P التي تجعل الاقتران ق(س) = $\left. \begin{array}{l} s^2 - 2 \\ |s| \end{array} \right\}$ ، $s \geq 2$ ، $s < 2$ متصلاً دائماً هي:

- أ صفر ب ١ ج ٢ د ١ -

٦
$$= \frac{s^2 - 9}{s^2 - 2s}$$
 نها $\left. \begin{array}{l} \leftarrow s \\ \leftarrow s \end{array} \right\}$ صفر

- أ صفر ب ٣ ج $3-$ د غير موجودة

٧
$$= \frac{\text{جاس}^2}{\text{جا}^2 s}$$
 نها $\left. \begin{array}{l} \leftarrow s \\ \leftarrow s \end{array} \right\}$ $\frac{1}{2}$

- أ $\frac{1}{2}$ ب ٢ ج $\frac{1}{4}$ د ٤

٨
$$= \frac{s^2 - 2s}{s^2 - 6s + 8}$$
 نها $\left. \begin{array}{l} \leftarrow s \\ \leftarrow \infty \end{array} \right\}$ $2-$

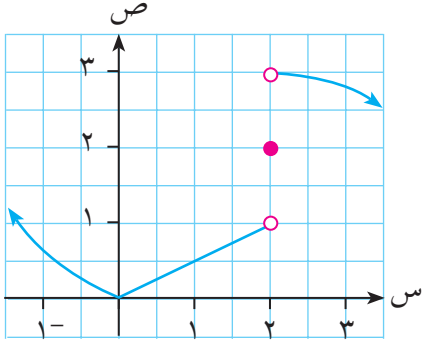
- أ $2-$ ب $1-$ ج ١ د صفر

$$9 \quad \text{نها} = \frac{|س+2|}{س+2} \quad \begin{matrix} \leftarrow س+2 \\ \leftarrow س+2 \end{matrix}$$

- أ ١ ب ١- ج صفر د ∞

$$10 \quad \text{نها} = \frac{س-2 س+5 س+6}{س+2 س+5 س-14}$$

- أ ١ ب ١- ج $\frac{1}{9}$ د $\frac{1}{9}-$



◆ الشكل المقابل يمثل منحنى الاقتران ص = ق(س)

اعتمد على ذلك في الإجابة عن الأسئلة من ١١ الى ١٣ :

$$11 \quad \text{نها} ق(س) = \frac{\leftarrow س+2}{\leftarrow س+2}$$

- أ صفر ب ١ ج ٢ د ٣

$$12 \quad \text{نها} ق(س) = \frac{\leftarrow س-2}{\leftarrow س-2}$$

- أ صفر ب ١ ج ٢ د ٣

$$13 \quad \text{نها} ق(س) = \frac{\leftarrow س}{\leftarrow س}$$

- أ ١ ب ٢ ج ٣ د غير موجودة

$$14 \quad \text{نها} = \frac{س+5}{س-3} \quad \begin{matrix} \leftarrow س \\ \leftarrow س \end{matrix}$$

- أ ٥ ب ٥- ج صفر د ∞

$$15 \quad \text{نها} = \frac{س^2-6 س+2}{س+4} \quad \begin{matrix} \leftarrow س \\ \leftarrow س \end{matrix}$$

- أ صفر ب $\frac{1}{2}-$ ج ∞ د $\infty-$

١٦ إذا كان ق(س) = $س^2+2 س-3$ فمن المؤكد أن للاقتران ق(س) صفرًا في الفترة:

- أ]٠ ، ١[ب]١ ، ٢[ج]١- ، ٠[د]٢- ، ١-[

$$17 \quad \text{نها} = \left(\frac{1}{|s|} - \frac{1}{s} \right)_{s \leftarrow \infty}$$

أ صفر ب ∞ ج $-\infty$ د غير موجودة

$$18 \quad \text{نها} = (2s^3 - 100s^2)_{s \leftarrow \infty}$$

أ صفر ب ∞ ج $-\infty$ د غير موجودة

$$19 \quad \text{نها} = \frac{\text{جاس}}{\text{ظا} 2s}$$

أ صفر ب $\frac{1}{2}$ ج $-\frac{1}{2}$ د غير موجودة

$$20 \quad \text{إذا كان ق (س) متصلًا، وكانت نها} = (2+8) \text{ ق (س)} = 22 \text{ فإن ق (3)} =$$

أ 14 ب 7 ج 1 د صفر

2 أوجد قيمة كل من النهايات التالية:

$$\text{أ} \quad \text{نها} = \frac{1-s}{\sqrt{s+4}} \quad \text{ب} \quad \text{نها} = \frac{\frac{1}{9} - \frac{1}{s}}{9-s} \quad \text{ج} \quad \text{نها} = \frac{\sqrt{s+1} - 2}{s-7}$$

$$\text{د} \quad \text{نها} = \frac{\text{ظا (جاس)}}{2s} \quad \text{هـ} \quad \text{نها} = \text{س قتا} 2s \quad \text{و} \quad \text{نها} = \frac{2 \text{س جا} 4 \text{س}}{\text{جا} 3 \text{س ظا} 5 \text{س}}$$

$$\text{ز} \quad \text{نها} = \frac{2s^2}{5-2s^2} \quad \text{ح} \quad \text{نها} = \frac{2s^2 - 6}{1-5s} \quad \text{ط} \quad \text{نها} = \frac{1+2s^5}{1-3s}$$

3 إذا كانت نها ق (س) = 4 ، نها هـ (س) = 6 ، فأوجد:

$$\text{أ} \quad \text{نها} = \frac{\text{ق (س)} + 2\text{س}}{\text{هـ (س)}} \quad \text{ب} \quad \text{نها} = \text{ق (س)} + (1+2\text{س}) - 1$$

$$4 \quad \text{ليكن ق (س)} = \left. \begin{array}{l} 1+s^2 \\ 3 < s < 5 \\ 2+s^2 \end{array} \right\}$$

أوجد قيم f ، b التي تجعل الاقتران ق (س) متصلًا لكل قيم س الحقيقية .

٥ ليكن ق (س) = س^٣ - س^٢ + س . أثبت أنه يوجد ج \exists بحيث إن ق(ج) = ١٠

٦ ليكن ق (س) = ٥ - س ، ه (س) = $\sqrt{س}$ ، أثبت أنه يوجد ج \exists ، ١ [بحيث إن ق(ج) = ه(ج)]

٧ إذا كان ق (س) = $\left. \begin{array}{l} \frac{\text{ظا ٢ س}}{\text{س ٣}} \\ \text{ج} \end{array} \right\}$ ، س \neq ٠ ، س = ٠ ،

أوجد قيمة ج التي تجعل الاقتران ق(س) متصلاً عند س = ٠

٨ إذا كان ق (س) = س^٣ + س ، س \in [١ ، ٢] ، فأثبت أنه يوجد ج \exists ، ١ [بحيث إن ق(ج) = ٧] ؛ ثم أوجد قيمة تقريبية ثانية للعدد ج .

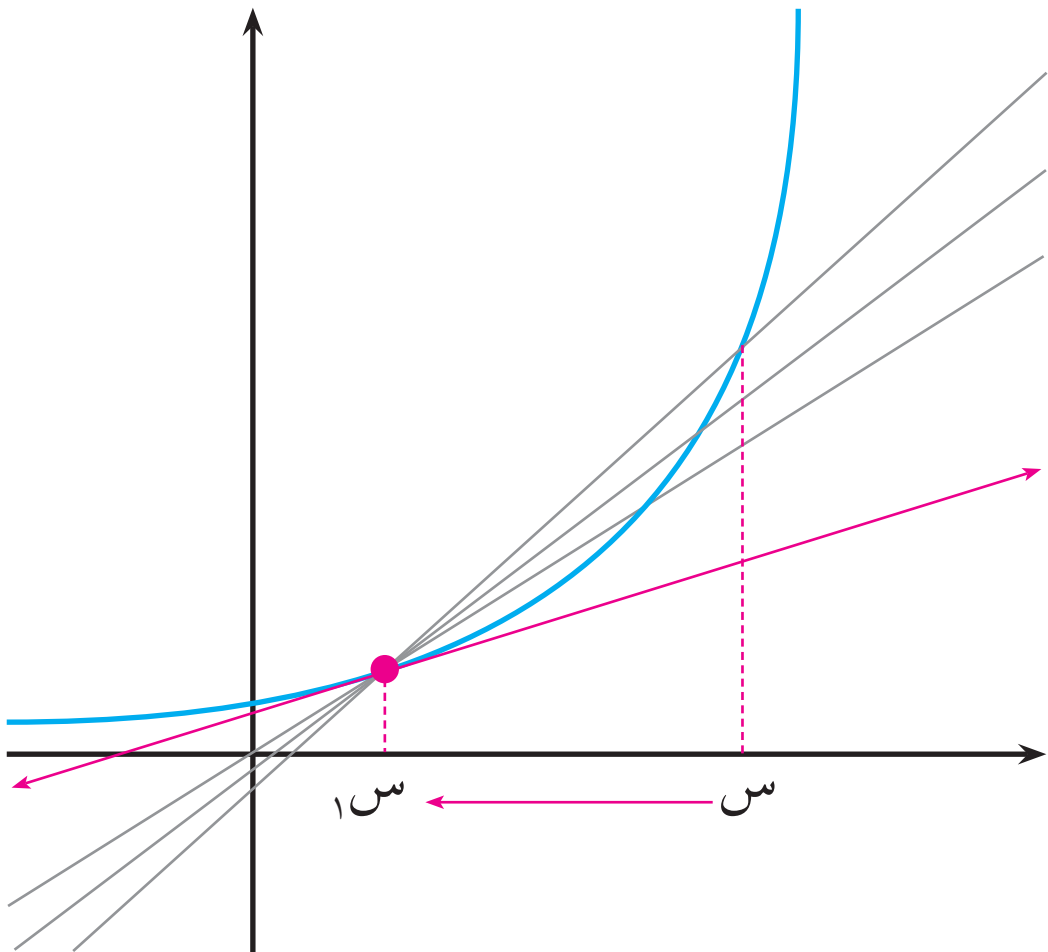
٩ ابحث في اتصال الاقتران م(س) = س^٢ [س] عند س = ٠

١٠ إذا كان ق(س) متصلاً على الفترة [٠ ، ٥] وكان ق(٠) = ١ ، ق(٣) = ٢ ، ق(٤) = ١ ، ق(٥) = ٤ ، فما هو أقل عدد من أصفار الاقتران ق(س) التي يمكنك الجزم بوجودها في الفترة [٠ ، ٥]؟

١١ إذا كان ق(س) اقتراناً متصلاً على الفترة [٠ ، ١] وكان ٠ < ق(س) < ١ ، \forall س \in [٠ ، ١] ، فأثبت أنه يوجد ج \exists ، ٠ [بحيث إن ق(ج) = ج .

(ارشاد: عرّف الاقتران ه(س) = ق(س) - س على الفترة [٠ ، ١] .

حساب التفاضل

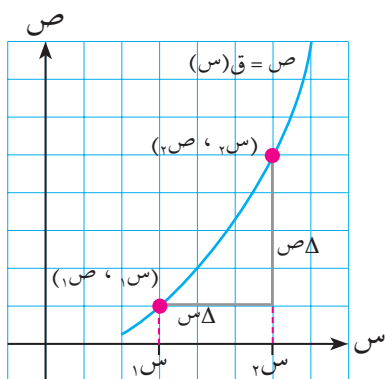


تمهيد:

بدأ علم التفاضل في القرن السابع عشر على يد كلٍ من العالمين نيوتن الانجليزي، ولايبنيز الألماني، وذلك عند محاولتهما حل مسألتين أساسيتين: الأولى هندسية وتتعلق بالماس لأي منحنى عند نقطة عليه، والثانية فيزيائية وتتعلق بالسرعة اللحظية لجسم متحرك. وقد أدت الفكرة المشتركة التي يقوم عليها حل المسألتين إلى مفهوم رياضي أشمل وأعم، ألا وهو المشتقة الأولى التي وجدت لها تطبيقات لا تكاد تحصر في جميع العلوم الهندسية، والفيزيائية، والاقتصادية، وفي كل مجال يكون التغير صفة مميزة له. ولتقديم مفهوم المشتقة يلزم التعرف أولاً على مفهوم متوسط التغير.

١-٢ متوسط التغير (Average Rate of Change)

الاقتران علاقة بين متغيرين s ، v يسمى أحدهما (s) المتغير المستقل، ويسمى الآخر (v) المتغير التابع؛ بحيث تتعين لكل قيمة من قيم المتغير s قيمة واحدة فقط للمتغير v .



الشكل (١-٢)

إذا كان $v = f(s)$ اقتراناً، وتغيرت فيه s من s_1 إلى s_2 ، فإن قيمة v تتغير من $v_1 = f(s_1)$ إلى $v_2 = f(s_2)$.

يرمز للتغير في s من s_1 إلى s_2 بالرمز Δs (ويقرأ: دلتا s) أي أن:

$$\Delta s = s_2 - s_1$$

وبالمثل فإنه يرمز للتغير في v بالرمز Δv (ويقرأ: دلتا v) أي أن:

$$\Delta v = v_2 - v_1 = f(s_2) - f(s_1)$$

لاحظ الشكل (١-٢).

مثال (١)

إذا كان $v = f(s) = s^2 + 3s - 5$ ، فأوجد التغير في $v = f(s)$ عندما تتغير s :

أ من $s_1 = 1$ إلى $s_2 = 4$

ب من $s_1 = 3$ إلى $s_2 = -5$

ج من $s_1 = 2$ إلى $s_2 = 3$ بحيث $\Delta s = -3$

الحل:

أ $\Delta v = f(4) - f(1)$

$$24 = (1-) - 23 =$$

$$\Delta \text{ ص} = \text{ق}(-5) - \text{ق}(3) \quad \text{ب}$$

$$8- = 13-5 =$$

$$\Delta \text{ ص} + \text{س}_1 = \text{س}_2 \quad \text{ج}$$

$$1- = 3- + 2 =$$

$$\Delta \text{ ص} = \text{ق}(\text{س}_2) - \text{ق}(\text{س}_1) \quad \Leftarrow$$

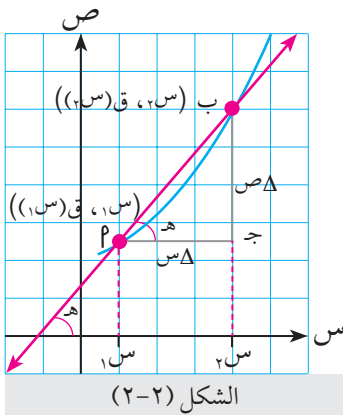
$$\text{ق}(-1) - \text{ق}(2) =$$

$$12- = 5-7- =$$

تعريف: متوسط التغير

إذا كان $\text{ص} = \text{ق}(\text{س})$ اقتراناً، وتغيرت س من س_1 إلى $\text{س}_2 = \text{س}_1 + \Delta \text{س}$ ، فإن متوسط تغير الاقتران بالنسبة لـ س يعرف بأنه النسبة بين التغير في ص إلى التغير في س ، بشرط أن التغير في س لا يساوي صفرًا.

$$\text{أي أن متوسط التغير} = \frac{\Delta \text{ص}}{\Delta \text{س}} = \frac{\text{ق}(\text{س}_1 + \Delta \text{س}) - \text{ق}(\text{س}_1)}{\Delta \text{س}}, \Delta \text{س} \neq 0$$



فإذا كان $\text{ص} = \text{ق}(\text{س})$ هو الاقتران المبين في الشكل (2-2) فإن متوسط التغير في $\text{ق}(\text{س})$ بالنسبة لـ س بين س_1 ، س_2 هو النسبة $\frac{\Delta \text{ص}}{\Delta \text{س}}$ ، ويمثلها ميل المستقيم \overline{PB} القاطع لمنحنى الاقتران في النقطتين: $P((\text{س}_1), \text{ق}(\text{س}_1))$ ، $B((\text{س}_2), \text{ق}(\text{س}_2))$. انظر الشكل (2-2).

مثال (2)

إذا كان $\text{ق}(\text{س}) = \text{س}^2 + \text{س} - 5$ ، فأوجد متوسط التغير في $\text{ق}(\text{س})$ بالنسبة لـ س عندما تتغير س من 1 إلى 4.

$$\text{متوسط التغير} = \frac{\text{ق}(4) - \text{ق}(1)}{4 - 1}$$

$$= \frac{15 - \text{ق}(1)}{3} = 6$$

الحل:

مثال (٣)

$$\left. \begin{array}{l} \text{ليكن ق(س) = } \\ \left. \begin{array}{l} ٣س+٤ ، \quad س \geq ٢ \\ ٣س+٢ ، \quad س < ٢ \end{array} \right\} \end{array} \right\}$$

أوجد متوسط تغير ق(س) في الحالات التالية:

١ عندما تتغير س من ٢ إلى ٥ .

٢ عندما تتغير س من ٢ إلى -١

٣ عندما تتغير س من ٢ إلى ٢ + هـ

ب استخدم القاعدة التي توصلت إليها في قسم (٣) للتأكد من صحة جوابك في القسمين ١ ، ٢ .

الحل:

١ متوسط التغير = $\frac{\text{ق(٥)} - \text{ق(٢)}}{٥ - ٢}$

$$١٠ = \frac{(٤+٦) - (١٥+٢٥)}{٣} =$$

٢ متوسط التغير = $\frac{\text{ق(-١)} - \text{ق(٢)}}{-١ - ٢}$

$$٣ = \frac{(٤+٦) - (٤+٣-)}{٣-} =$$

٣ متوسط التغير = $\frac{\text{ق(٢+هـ)} - \text{ق(٢)}}{٢+هـ - ٢}$

$$\frac{١٠ - \text{ق(٢+هـ)}}{هـ} = \frac{\text{ق(٢+هـ)} - \text{ق(٢)}}{٢+هـ - ٢}$$

نعتبر حالتين:

أ عندما $هـ < ٠$:

$$\frac{١٠ - ٣ + ٦ + ٢هـ + ٤ + هـ}{هـ} = \frac{١٠ - (٢+هـ)٣ + (٢+هـ)}{هـ} = \text{متوسط التغير}$$

$$٠ \neq هـ ، \quad هـ + ٧ = \frac{هـ(٧+هـ)}{هـ} = \frac{٧هـ + هـ^٢}{هـ} =$$

ب عندما $هـ > ٠$:

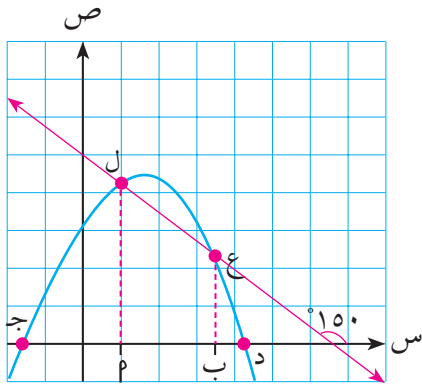
$$\frac{(١٠) - ٤ + (٢+هـ)٣}{هـ} = \text{متوسط التغير}$$

$$٠ \neq هـ ، \quad ٣ = \frac{هـ^٣}{هـ} =$$

$$\left. \begin{array}{l} ٠ < هـ ، \quad هـ + ٧ \\ ٠ > هـ ، \quad ٣ \end{array} \right\} = \frac{\Delta \text{ص}}{\Delta \text{س}} \text{ متوسط التغير} \therefore$$

ب
عندما تتغير س من ٢ إلى ٥ تكون هـ = ٣ < ٠ ؛ ولذلك يكون متوسط التغير = ٣ + ٧ = ١٠
وعندما تتغير س من ٢ إلى -١ تكون هـ = ٣ - ٠ > ٠ ؛ لذلك يكون متوسط التغير = ٣ .
إذن تتطابق النتيجة مع الإجابتين في القسمين ١ ، ٢ .

مثال (٤)



الشكل (٣-٢)

يمثل الشكل (٣-٢) منحنى الاقتران ص = ق(س)

جد متوسط التغير في ق(س):

بين س = م ، س = ب

بين س = ج ، س = د

أ

ب

الحل:

أ

متوسط التغير بين س = م ، س = ب

$$= \text{ميل القاطع ل ع} = \text{ظا } 150^\circ = \frac{1-}{3\sqrt{}}$$

ب
متوسط التغير بين س = ج ، س = د تساوي ميل القاطع ج د = ميل محور السينات = صفر .

مثال (٥)

يتحرك جسم على خط مستقيم بحيث إن بعده ف بالأمتار عن نقطة ثابتة على الخط يعطى
بالقاعدة ف = ق(ن) = ن^٢ + ٥ن ، ن بالثواني . جد متوسط التغير في ف بالنسبة للزمن في
الفترة الزمنية [١ ، ٣] .

متوسط التغير في ف بالنسبة ل ن = $\frac{\Delta ف}{\Delta ن}$

$$= \frac{ق(٣) - ق(١)}{٣ - ١}$$

$$= \frac{(٥+١) - (١٥+٩)}{٢} = \frac{١٨}{٢} = ٩ \text{ م/ث}$$

ملاحظة: يسمى متوسط التغير $\frac{\Delta ف}{\Delta ن}$ السرعة المتوسطة للجسم .

الحل:

تمارين (١-٢)

١ إذا كان ق(س) = س^٢ - س + ٥ فأوجد قيمة التغير في الاقتران ق(س):

أ عندما تتغير س من ١ إلى ٣ .

ب عندما تتغير س من ١ إلى ١+هـ .

ج استخدم القاعدة التي توصلت إليها في الفرع (ب) للتأكد من صحة جوابك في الفرع (أ) .

٢ إذا كان هـ(س) = جاس - ٣ جتاس ، فأوجد متوسط التغير في هـ(س) بين س_١ = $\frac{\pi}{4}$ ، س_٢ = π .

٣ جد متوسط التغير في الاقتران ق(س) = $\left. \begin{array}{l} ٥ + س٣ ، س \geq ١ \\ س٣ + ٢س + ٤ ، س < ١ \end{array} \right\}$

بين س = ١- ، س = ١- + Δ س ، ثم استخدم الناتج لإيجاد متوسط التغير في ق(س) بين س = ١- ، س = ٢ .

٤ إذا كان متوسط التغير في ق(س) = $\sqrt{١ + س٤}$ بين س = ٢ ، س = ب مساوياً $\frac{1}{3}$ ، فما قيمة ب؟

٥ إذا كان متوسط التغير في ق(س) عندما تتغير س من س_١ = ١ إلى س_٢ = ٩ مساوياً ٥ ، فأوجد متوسط التغير

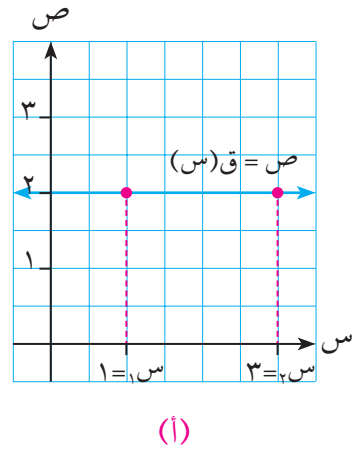
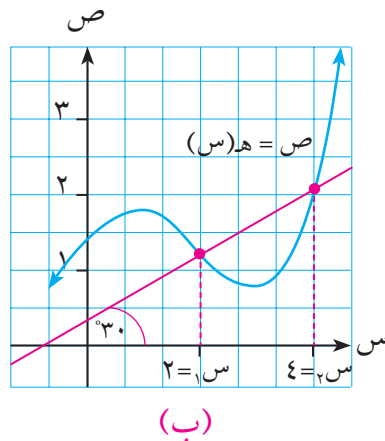
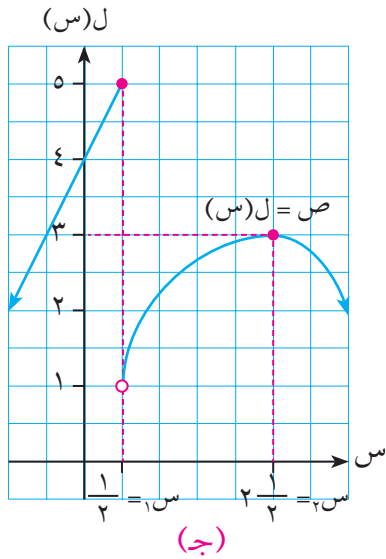
في الاقتران ل(س) = س^٢ ق(٢س + ٥) بين س = ٢- ، س = ٢ .

٦ يتحرك جسم على خط مستقيم وفق العلاقة ف = ن^٣ + ٢ن ، حيث ف المسافة التي يقطعها بالأمتار ، ن الزمن

بالثواني . جد السرعة المتوسطة لهذا الجسم في الفترة الزمنية [٢ ، ٥] .

٧ بالاعتماد على الاشكال البيانية التالية ، أوجد متوسط تغير الاقتران الممثل في كل حالة عندما تتغير س من س_١

إلى س_٢ .



٨ إذا كان ل(س) = ق(س) + هـ(س) ، فاثبت أن متوسط التغير في الاقتران ل(س) في الفترة [س_١ ، س_٢]

يساوي متوسط التغير في الاقتران ق(س) + متوسط التغير في الاقتران هـ(س) في الفترة ذاتها .

المشتقة الأولى First Derivative ٢-٢

سبق أن عرّفنا متوسط التغير في الاقتران $ص = ق(س)$ ، عندما تتغير $س$ من $س_١$ إلى $س_١ + \Delta س$ ، بأنه:

$$\Delta س \neq ٠ ، \frac{ق(س_١ + \Delta س) - ق(س_١)}{\Delta س} = \frac{\Delta ص}{\Delta س}$$

وهذا مقدار تتوقف قيمته على $س_١$ ، $\Delta س$ فإذا بقيت $س_١$ ثابتة، وجعلنا $\Delta س$ تقترب من الصفر، فإن هذا المقدار قد تكون له نهاية معينة تسمى معدل تغير الاقتران أو المشتقة الأولى للاقتران عند $س = س_١$.

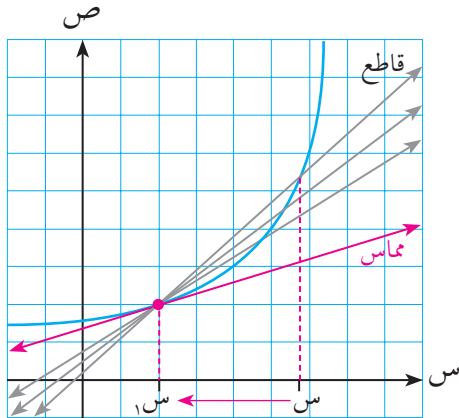
تعريف:

يعرف معدل تغير الاقتران أو المشتقة الأولى للاقتران $ق(س)$ عند $س = س_١$ في مجاله، ونرمز له بالرمز $ق'(س_١)$ ، بأنه:

$$ق'(س_١) = \lim_{\Delta س \rightarrow ٠} \frac{ق(س_١ + \Delta س) - ق(س_١)}{\Delta س} ، \text{ بشرط وجود النهاية.}$$

ويمكن كتابة معدل تغير الاقتران أو المشتقة الأولى على النحو التالي أيضا:

$$ق'(س_١) = \lim_{س \rightarrow س_١} \frac{ق(س) - ق(س_١)}{س - س_١}$$



الشكل (٢-٤)

ومن الناحية الهندسية نلاحظ من الشكل (٢-٤) أنه باقتراب $س$ من $س_١$ يؤول متوسط التغير (ميل القاطع) إلى معدل التغير (ميل المماس) عند $س_١$.

مثال (١)

إذا كان ق(س) = س^٢ + ٣س - ٢ فأوجد باستخدام التعريف ق(٥).

الحل: ✓

$$\begin{aligned} \text{ق}(٥) &= \frac{\text{ق}(٥+٥) - \text{ق}(٥)}{٥} \text{نها} \\ &= \frac{(٢-١٥+٢٥) - (٢-(٥+٥)٣+٢(٥+٥))}{٥} \text{نها} \\ &= \frac{٣٨-٢-٥٣+١٥+٢٥}{٥} \text{نها} \\ &= \frac{١٣+٥}{٥} \text{نها} = \frac{١٣+٥}{٥} \text{نها} \\ &= \frac{١٣}{٥} \end{aligned}$$

مثال (٢)

إذا كان ق(س) = $\sqrt{٣-٢س}$ فأوجد باستخدام التعريف ق(٦).

الحل: ✓

$$\begin{aligned} \text{ق}(٦) &= \frac{\text{ق}(٦-٦) - \text{ق}(٦)}{٦-٦} \text{نها} \\ &= \frac{\sqrt{٣-٢(٦-٦)} - \sqrt{٣-٢(٦)}}{٦-٦} \text{نها} \\ &= \frac{\sqrt{٣-٢(٦-٦)}}{\sqrt{٣-٢(٦-٦)}} \times \frac{\sqrt{٣-٢(٦-٦)}}{٦-٦} \text{نها} \\ &= \frac{٩-٣-٢س}{(٣+ \sqrt{٣-٢س})(٦-٦)} \text{نها} \\ &= \frac{(٦-٦)٢}{(٣+ \sqrt{٣-٢س})(٦-٦)} \text{نها} \\ &= \frac{١}{٣} = \frac{٢}{٦} = \frac{٢}{٣+ \sqrt{٣-٢س}} \text{نها} \end{aligned}$$

(بضرب كل من البسط والمقام في مرافق البسط)

ملاحظة:

إذا كان ص = ق (س) فإن المشتقة الأولى للاقتران ق (س) عند س = P ، أي ق (P) ، يرمز لها أيضاً بأحد الرموز التالية :

$$P = \text{ص عند س} = \left. \frac{دص}{دس} \right|_{P=س} , \left. \frac{د}{دس} \right|_{P=س} ((ق(س)))$$

مثال (3)

إذا كانت ص = ق (س) = $\frac{2س+3}{1-3س}$ ، فأوجد باستخدام التعريف $\left. \frac{دص}{دس} \right|_{س=1}$.

الحل:

$$\begin{aligned} \left. \frac{دص}{دس} \right|_{س=1} &= \left. \frac{ق(س) - ق(1)}{س - 1} \right|_{س=1} \\ &= \left. \frac{1 - \frac{2س+3}{1-3س}}{س - 1} \right|_{س=1} \\ &= \left. \frac{\left(\frac{1+س-3س-3}{1-3س} \right)}{س - 1} \right|_{س=1} \\ &= \left. \frac{1}{1-3س} \times \frac{(س-1)}{س-1} \right|_{س=1} = \frac{1}{1-3} = -\frac{1}{2} \end{aligned}$$

المشتقة من اليمين ومن اليسار:

مثلاً عرفنا النهاية من اليمين والنهاية من اليسار ، نعرّف المشتقة من اليمين (المشتقة اليمنى) للاقتران ص = ق (س) عند س = P الواقعة في مجاله ، ويرمز لها بالرمز ق (P)⁺ بأنها :

$$ق(P)^+ = \lim_{س \rightarrow P^+} \frac{ق(س) - ق(P)}{س - P} \quad \text{أو بصورة مكافئة} \quad ق(P)^+ = \lim_{س \rightarrow P^+} \frac{ق(س) - ق(P)}{س - P}$$

وبالمثل تعرف المشتقة من اليسار (المشتقة اليسرى) للاقتران ص = ق (س) عند س = P في مجاله ، ويرمز لها بالرمز ق (P)⁻ بأنها :

$$ق(P)^- = \lim_{س \rightarrow P^-} \frac{ق(س) - ق(P)}{س - P} \quad \text{أو بصورة مكافئة} \quad ق(P)^- = \lim_{س \rightarrow P^-} \frac{ق(س) - ق(P)}{س - P}$$

ويكون الاقتران ق (س) قابلاً للاشتقاق عند س = P إذا وفقط إذا كانت ق (P)⁺ = ق (P)⁻ .

أمّا الاقتران ق (س) المعرف على الفترة المغلقة [P ، B] فلا يكون قابلاً للاشتقاق عند الطرفين P ، B .

مثال (٤)

$$\left. \begin{array}{l} \text{س} + ٢ = ٥ \text{ ، } \text{س} \geq ١ \\ \text{س} + ٢ = ٤ \text{ ، } \text{س} < ١ \end{array} \right\} = \text{إذا كان ق(س)}$$

فأوجد باستخدام التعريف: **أ** ق(٢) **ب** ق(١)

الحل:

أ بما أن ق(س) = ٤ + ٢ لجميع قيم س في جوار العدد ٢،

$$\begin{aligned} \therefore \text{ق}(٢) &= \frac{\text{نها} \text{ق(س)} - \text{ق}(٢)}{٢ - \text{س}} \\ &= \frac{\text{نها} (٤ + ٢) - (٢ + ٨)}{٢ - \text{س}} \\ &= \frac{\text{نها} ٤ - ٨}{٢ - \text{س}} \\ &= \frac{\text{نها} ٤ (٢ - \text{س})}{٢ - \text{س}} \\ &= ٤ \end{aligned}$$

$$\text{ق}(١) = \frac{\text{نها} \text{ق(س)} - \text{ق}(١)}{١ - \text{س}} \quad \text{ب}$$

بما أن قاعدة الاقتران ق(س) تتغير في جوار س = ١

فإننا نلجأ إلى حساب المشتقة اليمنى واليسرى عند س = ١

$$\begin{aligned} \text{ق}^{-}(١) &= \frac{\text{نها} \text{ق(س)} - \text{ق}(١)}{١ - \text{س}} = \frac{\text{نها} \text{س} + ٢ - ٥}{١ - \text{س}} \\ &= \frac{\text{نها} (٦ + \text{س}) - (٦ + ١)}{١ - \text{س}} = ٧ \end{aligned}$$

$$\text{ق}^{+}(١) = \frac{\text{نها} \text{ق(س)} - \text{ق}(١)}{١ - \text{س}} = \frac{\text{نها} (٤ + ٢) - (٤ + ١)}{١ - \text{س}}$$

$$\begin{aligned} &= \frac{\text{نها} ٤ - ٥}{١ - \text{س}} \\ &= \frac{\text{نها} ٤ (١ - \text{س})}{١ - \text{س}} \\ &= ٤ \end{aligned}$$

وبما أن ق⁻(١) ≠ ق⁺(١) إذن ق(١) غير موجودة . نقول في مثل هذه الحالة إن الاقتران

ق(س) غير قابل للاشتقاق عند س = ١ .

الاقتران المشتق (اقتران المشتقة الأولى):

درسنا في الأمثلة السابقة كيفية إيجاد مشتقة الاقتران ق(س) عند نقطة محددة س = μ في مجاله . وفيما يلي سنبحث في مشتقة الاقتران ق(س) عند كل نقطة س في مجاله ، لنحصل على اقتران آخر يسمى الاقتران المشتق ق'(س) .

تعريف:

يعرف الاقتران المشتق ق'(س) للاقتران ق(س) بأنه :

$$ق'(س) = \lim_{ه \rightarrow س} \frac{ق(س+ه) - ق(س)}{ه}$$

أو : $ق'(س) = \lim_{ع \rightarrow س} \frac{ق(ع) - ق(س)}{ع - س}$ ، بشرط وجود النهاية .

يلاحظ من التعريف أن مجال ق'(س) يكون دائماً مجموعة جزئية من مجال ق(س) .

مثال (٥)

إذا كان ق(س) = $س^٢ + ٣س - ٥$ ، فأوجد ق'(س) .

الحل:

$$\begin{aligned} ق'(س) &= \lim_{ع \rightarrow س} \frac{ق(ع) - ق(س)}{ع - س} \\ &= \lim_{ع \rightarrow س} \frac{(ع^٢ + ٣ع - ٥) - (س^٢ + ٣س - ٥)}{ع - س} \\ &= \lim_{ع \rightarrow س} \frac{(ع^٢ - س^٢) + (٣ع - ٣س)}{ع - س} \\ &= \lim_{ع \rightarrow س} \frac{(ع - س)(ع + س) + ٣(ع - س)}{ع - س} \\ &= \lim_{ع \rightarrow س} \frac{(ع - س)(ع + س + ٣)}{ع - س} \\ &= \lim_{ع \rightarrow س} (ع + س + ٣) \end{aligned}$$

$$= س + س + ٣ = ٢س + ٣$$

أي أن ق'(س) = $٢س + ٣$

مثال (٦)

إذا كان ق(س) = \sqrt{s} ، $s \geq 0$ ، فأوجد ق(س) وعين مجاله .

الحل:

$$ق(س) = \frac{نها ق(ع) - ق(س)}{ع - س}$$

$$نها = \frac{\sqrt{ع} - \sqrt{س}}{ع - س}$$

$$نها = \frac{نها (\sqrt{ع} + \sqrt{س})}{(\sqrt{ع} + \sqrt{س})(ع - س)}$$

$$نها = \frac{نها (ع - س)}{(\sqrt{ع} + \sqrt{س})(ع - س)}$$

$$نها = \frac{نها}{\sqrt{ع} + \sqrt{س}}$$

$$\therefore ق(س) = \frac{1}{\sqrt{س}}$$

مجال ق(س) هو جميع الأعداد الحقيقية الموجبة .

مثال (٧)

إذا كان ق(س) = $\left. \begin{array}{l} س^2 ، \quad 1 - س \geq 1 > س \\ س^3 - 2 ، \quad 3 \geq س \geq 1 \end{array} \right\}$ ، فأوجد ق(س) .

الحل:

أولاً: الاشتقاق على الفترة المفتوحة $[-1, 1]$:

$\forall س \in [-1, 1]$ ، يكون :

$$ق(س) = \frac{نها ق(ع) - ق(س)}{ع - س} = \frac{نها (ع^2 - س^2)}{ع - س}$$

$$نها = \frac{نها (ع + س)}{ع - س} = \frac{نها (ع + س)}{ع - س} = س^2$$

ثانياً: الاشتقاق على الفترة المفتوحة [١، ٣]:

٧ س \exists [١، ٣] ، يكون:

$$\overline{ق(س)} = \frac{ق(ع) - ق(س)}{ع - س}$$

$$\frac{ق(٣) - ق(س)}{٣ - س} = \frac{ق(٣) - ق(س)}{٣ - س} =$$

$$٣ = \frac{ق(٣) - ق(س)}{٣ - س}$$

ثالثاً: الاشتقاق عند نقطة تغير تعريف الاقتران حيث $س = ١$

$$\overline{ق(١)}^+ = \frac{ق(١) - ق(س)}{١ - س}$$

$$\frac{ق(١) - ق(٣)}{١ - ٣} =$$

$$٣ = \frac{ق(١) - ق(٣)}{١ - ٣}$$

$$\overline{ق(١)}^- = \frac{ق(١) - ق(س)}{١ - س}$$

$$\frac{ق(١) - ق(٣)}{١ - ٣} =$$

$$٢ = \frac{ق(١) - ق(٣)}{١ - ٣}$$

وبما أن $\overline{ق(١)}^+ \neq \overline{ق(١)}^-$

∴ $\overline{ق(١)}$ غير موجودة.

رابعاً: $\overline{ق(١-)}$ غير موجودة، وكذلك $\overline{ق(٣)}$ غير موجودة؛ لأن $س = ١- ، س = ٣$ هما نقطتان طرفيتان

$$\left. \begin{array}{l} ١ > س > ١- ، \quad ٢ س \\ ٣ > س > ١ ، \quad ٣ \\ غير موجودة ، \quad س = ١- ، ١ ، ٣ \end{array} \right\} = \overline{ق(س)} \quad \therefore$$

مثال (٨)

إذا كانت ق(٣) = ١٢ ، فأوجد نهيا $\frac{ق(٣) - (٥+٣)هـ}{٣هـ}$

نفرض أن ٥ هـ = و فتكون هـ = $\frac{و}{٥}$ ، وعندما هـ ← ٥ فإن و ← ٥

الحل:

$$\frac{ق(٣) - (٥+٣)هـ}{٣هـ} = \frac{ق(٣) - (٥+٣)هـ}{٣هـ} = \frac{ق(٣) - (٥+٣)هـ}{٣هـ} \cdot \frac{٥}{٥} =$$

$$\frac{ق(٣) - (٥+٣)هـ}{٣هـ} \cdot \frac{٥}{٥} =$$

$$٢٠ = ١٢ \times \frac{٥}{٣} = ق(٣) \times \frac{٥}{٣} =$$

∴

مثال (٩)

إذا علمت أن ق(٤) = ٧ ، ق(١٢) = ٥ ، فأوجد نهيا $\frac{ق(٣س) - ق(١٢)ع}{س - ٤}$

نفرض أن ٣س = ع فتكون س = $\frac{ع}{٣}$ ، وعندما س ← ٤ فإن ع ← ١٢

الحل:

$$\frac{ق(٣س) - ق(١٢)ع}{س - ٤} = \frac{ق(٣س) - ق(١٢)ع}{س - ٤} = \frac{ق(٣س) - ق(١٢)ع}{س - ٤} \cdot \frac{٣}{٣} =$$

$$\frac{ق(٣س) - ق(١٢)ع}{س - ٤} \cdot \frac{٣}{٣} =$$

$$١٥ = ٥ \times ٣ =$$

$$١٥ = ٥ \times ٣ =$$

∴

تمارين (٢-٢)

- ١ إذا كانت $ص = ق(س)$ وكانت Δ ص الناتجة عن تغيير $س$ من ٢ إلى $\Delta + ٢$ $س$ معطاة بالعلاقة :
- $$\Delta ص = \Delta ٦ + س + ٢(\Delta س) \text{ فأوجد } \frac{دص}{دس} \text{ عند } س = ٢ .$$
- ٢ باستخدام تعريف المشتقة، جد مشتقة كل من الاقتران الآتية (إن وجدت) عند النقطة المذكورة إزاء كل منها:
- أ $ق(س) = س^٢ - ٥س + ٣$ ، $س = ٢$ ب $ق(س) = س + \frac{٢}{س}$ ، $س = ١$
- ج $ص = |٨ - س٢|$ ، $س = ٤$ د $ل(س) = \begin{cases} س٢ + ٤س ، س \geq ١ \\ س٨ - ٣ ، س < ١ \end{cases}$ ، $س = ١$
- ٣ إذا كان $ق(س) = \sqrt{س٣ + ٥}$ فأوجد باستخدام التعريف $ق'(س)$ ثم عين مجالها.
- ٤ إذا كانت $ق'(٣) = ٢٤$ فأوجد قيمة كل من:
- أ $\frac{نها ق(٣) - ق(١٢)}{٦}$
- ب $\frac{نها ق(١٢) - ق(٣)}{١٢}$ (إرشاد: أضف واطرح $ق(٣)$ للبسط).
- ٥ إذا كانت $ق'(٥) = ٣$ فأوجد $\frac{نها ق(٧) - ق(٥)}{٨ - ٢}$.
- ٦ إذا علمت أن $ق'(٣) = ٦$ ، وكان $هـ(س) = ٣ق(٢س + ٥)$ ، فأوجد باستخدام تعريف المشتقة $هـ'(١)$.
- ٧ إذا كان $ق(س) = \begin{cases} س٢ + ٥س ، س > ٣ \\ ٢٤ ، س = ٣ \\ ٩س - ٣ ، س < ٣ \end{cases}$
- فأوجد: أ $ق'(٣) -$ ب $ق'(٣) +$ ج $ق'(٣)$ د $ق'(س)$.
- ٨ تتمدد صفيحة مربعة الشكل بحيث تبقى محتفظة بشكلها. احسب معدل تغير مساحتها بالنسبة لطول ضلعها عندما يكون طول الضلع ٢٠ سم.

٣-٢ قواعد الاشتقاق (Rules of Differentiation)

كنا نستخدم سابقاً تعريف المشتقة في إيجاد المشتقة الأولى لاقتران ما، ولتسهيل الحصول على هذه المشتقة يمكننا استخدام القواعد التالية:

قاعدة (١):

إذا كان $ق(س) = ج$ ، حيث ج ثابت، فإن $ق'(س) = ٠$ $\forall س \in \mathcal{E}$

البرهان:

$$\begin{aligned} ق'(س) = نهيا_{س \leftarrow ه} = \frac{ق(س+ه) - ق(س)}{ه} &= \frac{ج - ج}{ه} \\ &= \frac{٠}{ه} = ٠ \end{aligned}$$

مثال (١)

إذا كان $ق(س) = \sqrt{١٥س}$ فأوجد $ق'(س)$ ، $ق'(٣)$.

الحل: $ق'(س) = ٠$ لجميع قيم $س \in \mathcal{E}$
 $\therefore ق'(٣) = ٠$

قاعدة (٢):

إذا كان $ق(س) = س^n$ ، $n \in \mathbb{Z}$ فإن $ق'(س) = n س^{n-1}$

البرهان:

$$\begin{aligned} ق'(س) = نهيا_{س \leftarrow ع} &= \frac{ق(س+ع) - ق(س)}{ع - س} \\ &= \frac{ع^n - س^n}{ع - س} \end{aligned}$$

$= n س^{n-1}$ (انظر التعميم صفحة ٢٠)

مثال (٢)

إذا كان ق(س) = ٥س° ، فأوجد ق(س) ، ق(-٢).

الحل:

ق(س) = ٥س° ، لجميع قيم س \exists ع

$$\therefore \text{ق}(-٢) = (-٢) \times ٥ = ٨٠$$

قاعدة (٣):

إذا كان كل من ق(س) ، ه(س) اقتراناً قابلاً للاشتقاق عند س ، وكانت ج \exists فإن:

- ١ ك(س) = ج × ق(س) قابل للاشتقاق عند س ، ويكون ك(س) = ج × ق(س).
- ٢ ع(س) = ق(س) + ه(س) قابل للاشتقاق عند س ، ويكون ع(س) = ق(س) + ه(س).
- ٣ ل(س) = ق(س) - ه(س) قابل للاشتقاق عند س ، ويكون ل(س) = ق(س) - ه(س).

البرهان:

$$١ \quad \text{ك(س)} = \frac{\text{ك(س+و) - ك(س)}}{\text{و}} = \text{ج} \times \frac{\text{ق(س+و) - ق(س)}}{\text{و}}$$

$$= \text{ج} \times \frac{\text{ق(س+و) - ق(س)}}{\text{و}}$$

$$= \text{ج} \times \frac{\text{ق(س+و) - ق(س)}}{\text{و}} = \text{ج} \times \text{ق(س)}$$

$$٢ \quad \text{ع(س)} = \frac{\text{ع(س+و) - ع(س)}}{\text{و}} = \frac{\text{ق(س+و) + ه(س+و) - (ق(س) + ه(س))}{\text{و}}$$

$$= \frac{\text{ق(س+و) - ق(س) + ه(س+و) - ه(س)}}{\text{و}}$$

$$= \frac{\text{ق(س+و) - ق(س)} + \text{ه(س+و) - ه(س)}}{\text{و}}$$

$$= \frac{\text{ق(س+و) - ق(س)}}{\text{و}} + \frac{\text{ه(س+و) - ه(س)}}{\text{و}}$$

$$= \text{ق(س)} + \text{ه(س)} \text{ وهو المطلوب.}$$

٣ يترك البرهان للطالب.

مثال (٣)

إذا كان ق(س) = ٥س^٣ + ٢س^٢ فأوجد ق(٢).

$$\text{ق(س)} = ٥س^٣ + ٢س^٢ = ١٥س^٢ + ٢س$$

$$\text{ق(٢)} = ١٥(٢)^٢ + ٢(٢) = ٦٤$$

الحل:

∴

تعميم:

يمكن تعميم قاعدة (٣) لتشمل أكثر من اقترانين قابلين للاشتقاق أي أنه:

إذا كانت ق_١(س)، ق_٢(س)، ...، ق_٦(س) اقترانات قابلة للاشتقاق عند س،

وكانت ج_١، ج_٢، ...، ج_٦ ∃ فإن:

$$\left(ج_١ ق_١(س) + ج_٢ ق_٢(س) + \dots + ج_٦ ق_٦(س) \right)' = ج_١ ق_١'(س) + ج_٢ ق_٢'(س) + \dots + ج_٦ ق_٦'(س)$$

وبوجه خاص:

إذا كان ق(س) = ١س^٦ + ٢س^٥ + ... + ١س^١ اقتراناً كثير حدود، فإن ق(س) قابل للاشتقاق

$$\text{س} \exists \text{ ، ويكون ق(س) = } ١س^٦ \times ٦س^{-٥} + \dots + ١س^١ \times ١(١-٠) = ٦س^٥ + \dots + ١$$

مثال (٤)

إذا كان ه(س) = ٢س^٤ - ٣س^٣ + ٤س^٢ - ٥س + ١١ فأوجد ه(س).

$$\text{ه(س)} = ٨س^٣ - ٩س^٢ + ٨س - ٥$$

الحل:

مثال (٥)

إذا كان ق(س) = ٣س^٢ + ٢س، وكان ل(س) = ق(س) + ٣ه(س)، ه(٢) = ٥، ه(٢) = ١

فأوجد ل(٢).

$$\text{ل(س)} = \text{ق(س)} + ٣\text{ه(س)}$$

$$= (٣س^٢ + ٢س) + ٣\text{ه(س)}$$

$$\text{ل(٢)} = (٣ + ٢ \times ٢) + ٣\text{ه(٢)}$$

$$= ١٠ = ١ \times ٣ + ٧$$

الحل:

⇐

قاعدة (٤):

مشتقة حاصل ضرب اقترانين:

إذا كان كلٌّ من ق(س)، ه(س) اقتراناً قابلاً للاشتقاق عند س، وكان ل(س) = ق(س) × ه(س) فإن:
ل(س) قابل للاشتقاق عند س، ويكون ل'(س) = ق'(س) × ه(س) + ق(س) × ه'(س).

البرهان:

$$\lim_{s \rightarrow a} \frac{ل(س) - ل(و) + ل(و) - ل(س)}{س - و} = \lim_{س \rightarrow ا} \frac{ل(س) - ل(و)}{س - و} + \lim_{س \rightarrow ا} \frac{ل(و) - ل(س)}{س - و}$$

$$= \lim_{س \rightarrow ا} \frac{ق(س) × ه(س) - ق(و) × ه(و) + ق(و) × ه(س) - ق(س) × ه(و)}{س - و}$$

$$= \lim_{س \rightarrow ا} \frac{ق(س) × ه(س) - ق(و) × ه(و) + ق(و) × ه(س) - ق(س) × ه(و)}{س - و}$$

(بإضافة وطرح المقدار ق(و) × ه(س) في البسط)

$$= \lim_{س \rightarrow ا} \frac{ق(س) × ه(س) - ق(و) × ه(و) + ق(و) × ه(س) - ق(س) × ه(و)}{س - و}$$

$$= \lim_{س \rightarrow ا} \left(\frac{ق(س) × ه(س) - ق(و) × ه(و)}{س - و} + \frac{ق(و) × ه(س) - ق(س) × ه(و)}{س - و} \right)$$

$$= ق'(س) × ه(س) + ق(س) × ه'(س) وهو المطلوب.$$

أي أن مشتقة حاصل ضرب اقترانين قابلين للاشتقاق = الأول × مشتقة الثاني + الثاني × مشتقة الأول

مثال (٦)

إذا كانت $ص = (س^٢ + ٥س - ١)(٣س + ٤)$ ، فأوجد $\frac{دص}{دس}$.

$$\frac{دص}{دس} = (س^٢ + ٥س - ١) × ٣ + (٣س + ٤) × ٢س$$

$$= ٣س^٢ + ١٥س - ٣ + ٦س^٢ + ٨س$$

$$= ٩س^٢ + ١٣س - ٣$$

الحل:

لاحظ أنه بالضرب المباشر تكون ص = 3س + 19س² + 17س - 4
ومنها $\frac{دص}{دس} = 9س^2 + 38س + 17$ لاحظ تطابق النتيجةين .

مثال (٧)

إذا كان ق(س) = (س³ + 2س² - 2س + 4)(س + 1) + (2س³ - 3س² + 3س - 3) فأوجد ق(١) .

ق(س) = (س³ + 2س² - 2س + 4)(س + 1) + (2س³ - 3س² + 3س - 3) + (3س² + 4س - 4)

وبتعويض س = 1 نحصل على :

$$ق(١) = 3س^2 + 4س - 4 = 3 \times 1 + 4 - 4 = 3$$

الحل:

مثال (٨)

إذا كان ق(س) = (س² + 5س - 11)ه(س) ، فأوجد ق(٢) علماً بأن ه(٢) = 5 ، ه(٢) = 4 .

ق(س) = (س² + 5س - 11)ه(س) + (س + 2)ه(س)

$$ق(٢) = 3 = (٢)ه(٢) + ٩ \times (٢)ه(٢)$$

بالتعويض ينتج :

$$ق(٢) = 3 = 9 \times 4 + 5 \times 3 = 51$$

الحل:

قاعدة (٥) : مشتقة مقلوب اقتران:

إذا كان ل(س) = $\frac{1}{ق(س)}$ ، ق(س) ≠ 0 ، وكان ق(س) قابلاً للاشتقاق عند س فإن :

$$ل(س) قابل للاشتقاق عند س ويكون ل'(س) = \frac{-ق'(س)}{ق(س)^2}$$

البرهان:

$$ل'(س) = \frac{ل(س+ه) - ل(س)}{ه}$$

$$= \frac{1}{ه} \left(\frac{1}{ق(س+ه)} - \frac{1}{ق(س)} \right) = \frac{1}{ه} \left(\frac{ق(س) - ق(س+ه)}{ق(س)ق(س+ه)} \right)$$

$$\begin{aligned}
&= \frac{1}{\left(\frac{1}{(س)ق} \times (س+هـ) - (س)ق \right)} \times \frac{1}{هـ} \\
&= \frac{1}{(س)ق} \times \frac{1}{(س+هـ) - (س)ق} \times \frac{1}{هـ} \\
&= \frac{1}{(س)ق} \times \frac{1}{(س)ق - (س)ق} = \frac{1}{(س)ق} \times \frac{1}{-} = \frac{1}{(س)ق}
\end{aligned}$$

قاعدة (6): مشتقة ناتج قسمة اقترانين:

إذا كان كل من ق(س)، هـ(س) قابلاً للاشتقاق عند س، هـ(س) ≠ 0 فإن:

$$\frac{ق(س)}{هـ(س)} = ل(س) \text{ قابل للاشتقاق عند س ويكون } ل(س) = \frac{هـ(س)ق'(س) - ق(س)هـ'(س)}{هـ(س)^2}$$

البرهان:

$$ل(س) = \frac{ق(س)}{هـ(س)} = ق(س) \times \frac{1}{هـ(س)}, \quad هـ(س) \neq 0$$

وبما أن ق(س)، $\frac{1}{هـ(س)}$ قابلان للاشتقاق عند س

∴ حاصل الضرب وهو الاقتران ل(س) قابل للاشتقاق عند س ويكون:

$$ل'(س) = ق'(س) \times \frac{1}{هـ(س)} + ق(س) \times \frac{-هـ'(س)}{هـ(س)^2}$$

$$= \frac{ق'(س)هـ(س) - ق(س)هـ'(س)}{هـ(س)^2}$$

$$= \frac{ق(س)هـ'(س) - ق'(س)هـ(س)}{هـ(س)^2}$$

أي أن مشتقة ناتج قسمة اقترانين قابلين للاشتقاق = $\frac{\text{المقام} \times \text{مشتقة البسط} - \text{البسط} \times \text{مشتقة المقام}}{(\text{المقام})^2}$

مثال (9)

إذا كان ق(س) = $\frac{1+س^3}{5-س^2}$ ، س ≠ $\frac{5}{2}$ ، فأوجد ق'(س).

$$ق'(س) = \frac{17-}{2(5-س^2)} = \frac{2 \times (1+س^3) - 3 \times (5-س^2)}{2(5-س^2)} = ق'(س), \quad س \neq \frac{5}{2}$$

الحل:

مثال (١٠)

إذا كان هـ(س) = $\frac{ق(س)}{٦+٥س}$ ، س $\neq \frac{٦-}{٥}$ ، فأوجد هـ(٣) علماً بأن:

$$ق(٣) = ١٥ ، ق(٣) = \frac{١}{٧}$$

$$هـ(س) = \frac{٥ \times ق(س) - (س) \times (٦+٥س)}{٢(٦+٥س)}$$

الحل:

$$\leftarrow هـ(٣) = \frac{٥ \times ق(٣) - (٣) \times ٢١}{٢(٢١)} \dots \dots \dots (١)$$

بالتعويض في (١) ينتج أن:

$$هـ(٣) = \frac{٥ \times ١٥ - \frac{١}{٧} \times ٢١}{٢(٢١)} = \frac{٧٢-}{٤٤١} = \frac{٨-}{٤٩}$$

نتيجة:

إذا كانت ص = س^{-ن} : ن \exists ط * فإن $\frac{دص}{دس} = ن-س-١$

أي أن قاعدة الاشتقاق في حالة الأسس الصحيحة الموجبة تنطبق أيضاً في حالة الأسس الصحيحة السالبة .

البرهان:

$$ص = س-ن = \frac{١}{س٢ن} ، ن \exists ط *$$

$$\frac{دص}{دس} = \frac{ن-س-١}{س٢ن} = ن-س-١$$

مثال (١١)

إذا كان ق(س) = س^{-٣} فأوجد ق(٢) .

$$ق(س) = س-٣ = \frac{٣-}{س٤}$$

الحل:

$$\leftarrow ق(٢) = \frac{٣-}{٤٢} = \frac{٣-}{١٦}$$

مثال (١٢)

إذا كان ق(س) = $\frac{5}{س٢} + \frac{٤}{س}$ ، س ≠ ٠ فأوجد ق'(س).

الحل:

$$ق(س) = \frac{5}{س٢} + \frac{٤}{س} ، س \neq ٠$$

$$\Leftarrow ق'(س) = \frac{5}{س٢} \times (-٢) + \frac{٤}{س} \times (-١) = -\frac{١٠}{س٣} - \frac{٤}{س٢}$$

$$= -\frac{١٠}{س٣} - \frac{٤}{س٢}$$

$$= -\frac{١٠}{س٣} - \frac{٤}{س٢}$$

المشتقات العليا:

إذا كان ص = ق(س) اقتراناً قابلاً للاشتقاق ، فإن المشتقة ق'(س) تمثل اقتراناً آخر يسمى الاقتران المشتق للاقتران

ق(س) أو المشتقة الأولى للاقتران ق(س). والمشتقة الأولى للاقتران المشتق أي $\frac{د}{دس} \left(\frac{دص}{دس} \right)$ تسمى المشتقة

الثانية للاقتران ق(س) ، ويرمز لها بالرمز $\frac{د^٢ص}{دس٢}$ (وتقرأ دال اثنين ص دال س تربيع) ، أو ق''(س). وبالمثل يرمز

للمشتقة الثالثة للاقتران ق(س) بالرمز $\frac{د}{دس} \left(\frac{د^٢ص}{دس٢} \right)$ أو $\frac{د^٣ص}{دس٣}$ أو ق'''(س).

وبوجه عام ، فإننا نعرف المشتقة النونية للاقتران ص = ق(س) ، والتي يرمز لها بالرمز ق^(ن)(س) أو $\frac{د^n ص}{دس^n}$

بأنها $\frac{د}{دس} \left(\frac{د^{١-n} ص}{دس^{١-n}} \right)$.

مثال (١٣)

جد المشتقة الأولى والثانية والثالثة للاقتران ص = $٤س - ٢س^٣ + ٥س + ٢$.

الحل:

$$\frac{دص}{دس} = ٤س - ٢س^٣ + ٥س + ٢$$

$$\frac{د^٢ص}{دس٢} = \frac{د}{دس} (٤س - ٢س^٣ + ٥س + ٢) = ٤ - ٦س^٢ + ٥$$

$$\frac{د^٣ص}{دس٣} = \frac{د}{دس} (٤ - ٦س^٢ + ٥س) = -١٢س + ٥$$

تمارين (٣-٢)

١ جد مشتقة كل من الاقترانات التالية :

أ ق(س) = س^٣ - ٢س^٢ + ٥س - ٣

ب ج(س) = (٢+س٣)(٤+س^٢)

ج ص = $\frac{٢}{٣}س^{-٢} - ٤س + ٥س + ٣$

د ف = $\frac{٥}{٤}س^{-٤} - \frac{٣}{٣}س + ٦س - \sqrt{٧}$

هـ ق(س) = ٢(س) = (٢س^٣ - ٢س + ٨)

و هـ(س) = $\frac{٥ + ٢س}{١ - ٣س}$

ز ل(س) = (س+١)(٢س+١)(٣س+٥)

ح م(س) = (٢+س٣) × $\frac{٣-س}{١-٢س}$

٢ إذا كان ق(٣) = -٢ ، هـ(٣) = ٣ ، ق(٣) = ٥ ، هـ(٣) = ١ فأوجد :

أ (٢) ق(س) + ٣(س) هـ(٣)

ب $\int_{٣=س}^{\frac{د}{دس}} (س^٢ × ق(س))$

ج $\int_{٣=س}^{\frac{د}{دس}} \left(\frac{٢}{هـ(س)} \right)$

د $\int_{٣=س}^{\frac{د}{دس}} \left(\frac{٣ق(س)}{٥هـ(س)} \right)$

٣ إذا كان ق(س) = ٢س^٢ + ٢س + ١ وكان ق(١) = ق(١) = ٧ ، فأوجد الثابتين ١ ، ب .

٤ جد المشتقة الثانية لكل من الاقترانات التالية :

أ ق(س) = ٢س^٤ - ٣س^٣ + ٢س^٢ + ٧

ب هـ(س) = $\frac{١}{س}$ ، س ≠ ٠

٥ إذا كان ق(١) = ٣ ، ق(١) = ٢ ، وكان م(س) = س ق(س) فأوجد م(١) .

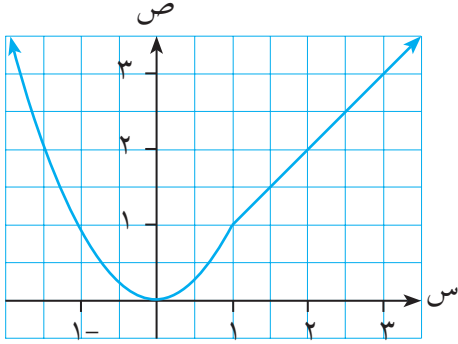
٦ إذا كان ق(س) = $\left. \begin{array}{l} ٢س + ٢س ، ١ \geq س \\ ١ + ٢س ، ١ < س \end{array} \right\}$ فأجد ق(س) .

٧ إذا كان ل(س) = ق(س) × هـ(س) فأوجد :

ل(س) ، علماً بأن المشتقة الأولى والثانية للاقترانين ق(س) ، هـ(س) موجودتان .

٤-٢ الاتصال وقابلية الاشتقاق (Continuity and Differentiability)

مر معنا مفهومًا للاتصال والاشتقاق كل على حدة، فهل من علاقة تربط بين المفهومين؟ لندرس المثال التالي:



الشكل (٥-٢)

مثال (١)

الشكل (٥-٢) يمثل منحنى الاقتران:

$$f(x) = \begin{cases} x^2 & , x \geq 1 \\ x & , x < 1 \end{cases}$$

ادرس قابلية الاقتران للاشتقاق عند $x = 0$ ، $x = 1$

الحل:

عند $x = 0$

أ

في جوار $x = 0$ ، $f(x) = x^2$

$$f'(x) = 2x$$

∴

$$f'(0) = 0$$

∴

عند $x = 1$:

ب

عند $x = 1$ يغير الاقتران $f(x)$ تعريفه، وفي هذه الحالة تلزم دراسة المشتقتين اليمنى واليسرى:

$$1 \quad f'(1^+) = \lim_{h \rightarrow 0^+} \frac{f(1+h) - f(1)}{h} = \lim_{h \rightarrow 0^+} \frac{(1+h)^2 - 1}{h}$$

$$= \lim_{h \rightarrow 0^+} \frac{1 + 2h + h^2 - 1}{h} =$$

$$= \lim_{h \rightarrow 0^+} \frac{2h + h^2}{h} = \lim_{h \rightarrow 0^+} (2 + h) = 2$$

$$2 \quad f'(1^-) = \lim_{h \rightarrow 0^-} \frac{f(1+h) - f(1)}{h} = \lim_{h \rightarrow 0^-} \frac{(1+h) - 1}{h}$$

$$= \lim_{h \rightarrow 0^-} \frac{1 + h - 1}{h} = \lim_{h \rightarrow 0^-} \frac{h}{h} =$$

$$= \lim_{h \rightarrow 0^-} 1 = 1$$

وبما أن $f'(1^+) \neq f'(1^-)$

∴ $f(x)$ غير قابل للاشتقاق عند $x = 1$

لاحظ أن الاقتران ق(س) متصل عند س = ٠ وقابل للاشتقاق عندها، وأنه متصل عند س = ١ ولكنه غير قابل للاشتقاق عندها، أي أن اتصال الاقتران عند نقطة لا يعني بالضرورة قابليته للاشتقاق عندها. ولكن ماذا عن العكس؟ هل قابلية الاشتقاق عند نقطة تتضمن الاتصال عند تلك النقطة؟ النظرية التالية تجيب عن هذا التساؤل.

نظرية:

إذا كان الاقتران ق(س) اقتراناً قابلاً للاشتقاق عند س = س_١ فإن الاقتران ق(س) يكون متصلاً عند س = س_١

البرهان:

يكون الاقتران ق(س) متصلاً عند س = س_١

إذا كان $\lim_{س \rightarrow س_١} ق(س) = ق(س_١)$ أي $\lim_{س \rightarrow س_١} (ق(س) - ق(س_١)) = ٠$ صفر

المقدار ق(س) - ق(س_١) = $\frac{ق(س) - ق(س_١)}{س - س_١} \times (س - س_١)$ (بالضرب والقسمة على المقدار (س - س_١))

$\therefore \lim_{س \rightarrow س_١} (ق(س) - ق(س_١)) = \lim_{س \rightarrow س_١} \frac{ق(س) - ق(س_١)}{س - س_١} \times (س - س_١)$

$= \lim_{س \rightarrow س_١} \frac{ق(س) - ق(س_١)}{س - س_١} \times \lim_{س \rightarrow س_١} (س - س_١)$

$= ق(س_١) - ق(س_١) \times ٠ = ٠$

$\therefore \lim_{س \rightarrow س_١} (ق(س) - ق(س_١)) = ٠$

مثال (٢)

إذا كان ق(س) = $\begin{cases} ٢س^٢ + ٥ ، & س \geq ١ \\ ٤س + ١ ، & س < ١ \end{cases}$ قابلاً للاشتقاق عند س = ١ . فأوجد قيمة الثابت P .

الحل:

ق(س) قابل للاشتقاق عند س = ١ ، فهو متصل عند س = ١

$\therefore \lim_{س \rightarrow ١^+} ق(س) = \lim_{س \rightarrow ١^+} (٢س^٢ + ٥) = ٧$

$$٧ = ٤ + P$$

$$٣ = P$$

ملاحظة:

النظرية السابقة تكافئ المعاكس الايجابي لها وهو العبارة:
إذا كان ق(س) اقتراناً غير متصل عند س = ١، فإن ق(س) غير قابل للاشتقاق عند س = ١

مثال (٢)

$$\left. \begin{array}{l} \text{س}^3 + 5\text{س}^2 + 2, \text{ س} \geq 1 \\ \text{س}^2 + 2\text{س}, \text{ س} < 1 \end{array} \right\} = \text{إذا كان ق(س)}$$

فابحث في قابلية الاقتران ق(س) للاشتقاق عند س = ١

الحل:

نبحث أولاً في اتصال ق(س) عند س = ١ :

$$\text{ق(١)} = 1 + 5 + 2 = 8$$

$$\underset{\text{س} \leftarrow -1}{\text{نها ق(س)}} = \underset{\text{س} \leftarrow -1}{\text{نها (س}^3 + 5\text{س}^2 + 2)} = 8$$

$$\underset{\text{س} \leftarrow +1}{\text{نها ق(س)}} = \underset{\text{س} \leftarrow +1}{\text{نها (س}^2 + 2\text{س)}} = 3$$

ق(س) منفصل عند س = ١

∴

وبالتالي فإن ق(س) غير قابل للاشتقاق عند س = ١

مثال (٣)

$$\left. \begin{array}{l} \text{س}^2 + 4\text{س} - 5, \text{ س} > 2 \\ \text{س}^3 + 1, \text{ س} \leq 2 \end{array} \right\} = \text{إذا كان ق(س)}$$

فابحث في قابلية الاقتران ق(س) للاشتقاق عند س = ٢

الحل:

ندرس أولاً اتصال ق(س) عند س = ٢ فنجد أن:

$$\text{ق(٢)} = 1 + 2 \times 3 = 7$$

$$\underset{\text{س} \leftarrow +2}{\text{نها ق(س)}} = \underset{\text{س} \leftarrow +2}{\text{نها (س}^3 + 1)} = 7$$

$$\underset{\text{س} \leftarrow -2}{\text{نها ق(س)}} = \underset{\text{س} \leftarrow -2}{\text{نها (س}^2 + 4\text{س} - 5)} = 7$$

ق(س) متصل عند س = ٢

∴

لا يمكننا الحكم بناء على ذلك إن كان ق(س) قابلاً للاشتقاق أم لا، ولهذا نلجأ لاستخدام

التعريف ، مع مراعاة أن الاقتران يغير تعريفه عند $s = 2$ مما يستوجب حساب المشتقتين اليمنى واليسرى عندها :

$$\begin{aligned} \text{ق}^+(2) &= \frac{\text{نها}^{\text{ق}^-(\text{س})-\text{ق}(2)}}{\text{س}^{\text{س}^+2}} = \frac{\text{نها}^{\text{ق}^-(\text{س})-\text{ق}(2)}}{\text{س}^{\text{س}^+2}} \\ &= \frac{\text{نها}^{\text{ق}^-(\text{س})-\text{ق}(2)}}{\text{س}^{\text{س}^+2}} = \frac{\text{نها}^{\text{ق}^-(\text{س})-\text{ق}(2)}}{\text{س}^{\text{س}^+2}} \end{aligned}$$

$$\text{ق}^-(2) = \frac{\text{نها}^{\text{ق}^-(\text{س})-\text{ق}(2)}}{\text{س}^{\text{س}^-2}} = \frac{\text{نها}^{\text{ق}^-(\text{س})-\text{ق}(2)}}{\text{س}^{\text{س}^-2}}$$

$$8 = \frac{\text{نها}^{\text{ق}^-(\text{س})-\text{ق}(2)}}{\text{س}^{\text{س}^-2}} = \frac{\text{نها}^{\text{ق}^-(\text{س})-\text{ق}(2)}}{\text{س}^{\text{س}^-2}}$$

وعليه فإن $\text{ق}^+(2)$ غير موجودة ، أي أن $\text{ق}^-(\text{س})$ غير قابل للاشتقاق عند $s = 2$.

مثال (٤)

إذا كان $\text{ق}^-(\text{س}) = \left. \begin{array}{l} \text{س}^2 , \text{ س} > 1 \\ \text{س}^2 - 1 , \text{ س} \leq 1 \end{array} \right\}$ فأوجد الاقتران المشتق $\text{ق}^-(\text{س})$.

$$\text{ق}^-(\text{س}) = \left. \begin{array}{l} \text{س}^2 , \text{ س} > 1 \\ 2 , \text{ س} < 1 \end{array} \right\}$$

الحل:

وليجاد $\text{ق}^-(1)$ نبحث في اتصال الاقتران $\text{ق}^-(\text{س})$ عند $s = 1$.
الاقتران $\text{ق}^-(\text{س})$ متصل عند $s = 1$. (تحقق من ذلك)

$$\text{ق}^+(1) = \frac{\text{نها}^{\text{ق}^-(\text{س})-\text{ق}(1)}}{\text{س}^{\text{س}^+1}} \quad \text{أ}$$

$$\frac{\text{نها}^{\text{ق}^-(\text{س})-\text{ق}(1)}}{\text{س}^{\text{س}^+1}} = \frac{\text{نها}^{\text{ق}^-(\text{س})-\text{ق}(1)}}{\text{س}^{\text{س}^+1}} = \frac{\text{نها}^{\text{ق}^-(\text{س})-\text{ق}(1)}}{\text{س}^{\text{س}^+1}}$$

$$2 = \frac{\text{نها}^{\text{ق}^-(\text{س})-\text{ق}(1)}}{\text{س}^{\text{س}^+1}} = \frac{\text{نها}^{\text{ق}^-(\text{س})-\text{ق}(1)}}{\text{س}^{\text{س}^+1}}$$

$$\text{ق}^-(1) = \frac{\text{نها}^{\text{ق}^-(\text{س})-\text{ق}(1)}}{\text{س}^{\text{س}^-1}} \quad \text{ب}$$

$$2 = 1 + \frac{\text{نها}^{\text{ق}^-(\text{س})-\text{ق}(1)}}{\text{س}^{\text{س}^-1}} = \frac{\text{نها}^{\text{ق}^-(\text{س})-\text{ق}(1)}}{\text{س}^{\text{س}^-1}}$$

$$\left. \begin{array}{l} 1 > س \text{ ، } 2 \\ 1 < س \text{ ، } 2 \\ 1 = س \text{ ، } 2 \end{array} \right\} = \text{ق(1) = 2 وبالتالي: ق(س) =}$$

نلاحظ في المثال السابق أن: ق(1) = + (1) نها ق(س) ، ق(1) = - (1) نها ق(س)

وهذا يزودنا بطريقة أخرى غير طريقة التعريف لإيجاد المشتقة عند النقطة التي يغير عندها الاقتران تعريفه إذا كان متصلًا.

مثال (5)

$$\left. \begin{array}{l} 2 \geq س \text{ ، } 8 + 2س - 3س \\ 2 < س \text{ ، } 4 + 2س \end{array} \right\} = \text{إذا كان ق(س) = فأوجد ق(س).}$$

$$\left. \begin{array}{l} 2 > س \text{ ، } 3س - 2س \\ 2 < س \text{ ، } 4 + 2س \end{array} \right\} = \text{ق(س) =}$$

الحل:

ولايجاد ق(2) دون اللجوء إلى التعريف:

ندرس اتصال ق(س) عند س = 2

$$\text{ق(2)} = 8 + 4 - 8 = 12$$

$$\text{نها ق(س)} = \text{نها (س} - 3س + 2س + 8) = 12$$

$$\text{نها ق(س)} = \text{نها (س} + 2س + 4) = 12$$

∴ ق(س) متصل عند س = 2.

$$\text{ق(2)} = \text{نها ق(س)} = \text{نها (س} + 2س + 4) = 8$$

$$\text{ق(2)} = \text{نها ق(س)} = \text{نها (س} - 2س + 2س + 8) = 8$$

∴ ق(2) = 8

$$\left. \begin{array}{l} 2 > س \text{ ، } 3س - 2س \\ 2 < س \text{ ، } 4 + 2س \\ 2 = س \text{ ، } 8 \end{array} \right\} = \text{ق(س) =}$$

١ أبحث في قابلية الاقترانات التالية للاشتقاق عند النقطة / النقط المذكورة إزاء كل منها:

$$\text{أ } \left. \begin{array}{l} \text{ق (س)} = \left. \begin{array}{l} ٣س - ٢س + ٥ ، \quad ٢ \geq \text{س} ، \\ ٣س + ٢س - ٥ ، \quad ٢ < \text{س} ، \end{array} \right\} \\ \text{س} = ٢ ، \end{array} \right\}$$

$$\text{ب } \text{ل (س)} = |\text{س}| ، \quad \text{س} = ٠ ، ١$$

$$\text{ج } \text{هـ (س)} = [\text{س}] ، \quad \text{س} = ١ ، \frac{٣}{٢}$$

$$\text{٢ } \left. \begin{array}{l} \text{إذا كان ق (س)} = \left. \begin{array}{l} ٢س - ٢س + ١ ، \quad ١ \geq \text{س} ، \\ ٤ ، \quad ١ < \text{س} ، \end{array} \right\}$$

قابلاً للاشتقاق عند $\text{س} = ١$ فأوجد الثابتين ب ، ب .

$$\text{٣ } \left. \begin{array}{l} \text{إذا كان ق (س)} = \left. \begin{array}{l} ١ + ٢س ، \quad ٠ \leq \text{س} ، \\ ٢س + ١ ، \quad ٠ > \text{س} ، \end{array} \right\}$$

ما قيمة ب التي تجعل الاقتران ق (س) متصلًا عند $\text{س} = ٠$ ؟

وهل هذه القيمة لـ ب تجعل الاقتران ق (س) قابلاً للاشتقاق عند $\text{س} = ٠$ ؟

$$\text{٤ } \text{إذا كان ق (س)} = |\text{س}|^٣ \text{ فأوجد ق (س)}.$$

$$\text{٥ } \left. \begin{array}{l} \text{إذا كان ق (س)} = \left. \begin{array}{l} [٢س + ٣] ، \quad ١ \geq \text{س} > ٥ ، \\ |٢س - ٣| ، \quad ٥ \geq \text{س} > ٢ ، \end{array} \right\} \\ \text{فأوجد ق (س)}.$$

٦ العبارتان الآتيتان خاطئتان. أعط مثالاً يوضح خطأ كل منهما.

أ إذا كان ق (س) اقتراناً بحيث إن ق (١) = ٣ فإن ق (٢) = ٦.

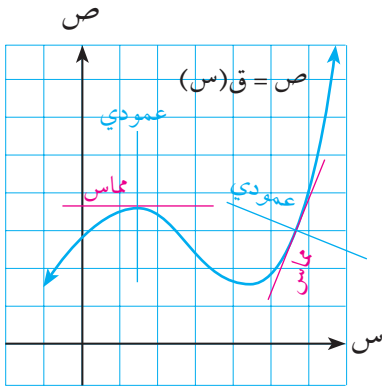
ب إذا كان كلٌّ من ق (س) ، هـ (س) اقتراناً غير قابل للاشتقاق عند $\text{س} = \text{ب}$ فإن مجموعهما غير قابل

للاشتقاق عند $\text{س} = \text{ب}$

٥-٢ تطبيقات على الاشتقاق

(١) تطبيقات هندسية (المماس والعمودي):

مر معنا أن المشتقة الأولى للاقتران ق(س) عند نقطة في مجاله تمثل ميل المماس المرسوم لمنحنى الاقتران عند تلك النقطة، أي أن ق'(٢) = ميل المماس المرسوم لمنحنى ق(س) عند النقطة (٢، ق(٢)) الواقعة عليه والتي تسمى نقطة التماس.



الشكل (٦-٢)

تعريف:

يعرف ميل منحنى اقتران عند نقطة عليه بأنه ميل المماس المرسوم لهذا المنحنى عند تلك النقطة.

تعريف:

يعرف العمودي على منحنى اقتران عند نقطة عليه بأنه العمودي على مماس المنحنى عند تلك النقطة.

لاحظ الشكل (٦-٢):

مثال (١)

رسم مماس لمنحنى الاقتران ق(س) = س^٣ - ٢س + ٤ عند النقطة (١، ٣) الواقعة عليه. جد معادلة هذا المماس وكذلك زاوية ميله.

الحل:

$$ق'(س) = ٣س^٢ - ٢$$

$$\text{ميل المماس} = ق'(١) = ٣ - ٢ = ١$$

معادلة المماس هي:

$$ص - ص_١ = م(س - س_١)$$

$$ص - ٣ = ١(س - ١)$$

$$ص - ٣ = س - ١$$

$$ص = س + ٢$$

نفرض أن زاوية ميل هذا المماس = هـ

$$\text{ظا هـ} = ١$$

$$\text{هـ} = ١٣٥^\circ = \frac{٣}{٤}\pi$$

مثال (٢)

رسم مماس لمنحنى ق(س) = س^٢ + س - ٢ عند نقطة عليه فكان ميله = ٧ .
جد إحداثيي نقطة التماس .

$$\text{ق(س)} = ١ + ٢س$$

بفرض أن نقطة التماس (٢، ق(٢))، يكون ميل المماس = ١ + ٢ × ٢ = ٥

$$٥ = ١ + ٢س \Rightarrow ٤ = ٢س \Rightarrow ٢ = س$$

نقطة التماس هي (٢، ق(٢)) = (٢، ٥) .

الحل:

مثال (٣)

جد ميل منحنى الاقتران ق(س) = $\frac{٢س}{٢-س٣}$ عند النقطة (٢، ١) الواقعة عليه .
ثم جد معادلة العمودي على منحنى ق(س) عند هذه النقطة .

$$\text{ق(س)} = \frac{٢س}{٢-س٣}$$

$$\frac{١-}{٤} = \frac{٤-}{١٦} = \frac{٢ \times ٤ - ٢ \times (٢-٦)}{٢(٢-٦)}$$

$$\frac{١-}{٤} = \frac{١-}{٤}$$

وبفرض أن ميل العمودي على المنحنى = م ، يكون م × $\frac{١-}{٤} = -١$ ، ومنها م = ٤

معادلة العمودي على المنحنى عند هذه النقطة هي : ص - ص_١ = م(س - س_١)

$$(ص - ١) = ٤(س - ٢)$$

$$ص = ٤س - ٧$$

الحل:

مثال (٤)

جد معادلة المماس المرسوم لمنحنى الاقتران ق(س) = س^٢ - س - ٧

الذي يعامد المستقيم س + ٣ص = ١١

ميل العمودي على المماس = ميل المستقيم س + ٣ص = ١١

$$= \text{ميل المستقيم ص} = \frac{١١}{٣} - \frac{١}{٣}س$$

$$= -\frac{١}{٣} \quad \left(\text{لاحظ أن } \frac{\text{دص}}{\text{دس}} = -\frac{١}{٣} \right)$$

الحل:

$$\begin{aligned} \leftarrow \text{ميل المماس} &= 3 \\ \text{ق(س)} &= 2 - 1 \\ \text{وبفرض أن نقطة التماس (P, ق(P)) يكون ميل المماس} &= 2 - 1 \\ \therefore 2 &= 1 - P \quad \text{ومنها} \quad 3 = 1 - P \\ \therefore \text{نقطة التماس هي (2, ق(2))} &= (2, 5) \\ \text{معادلة المماس هي:} & \text{ص} - \text{ص}_1 = \text{م} (\text{س} - \text{س}_1) \\ (2 - \text{س})3 &= (\text{ص} + 5) \\ \text{ص} &= 3 - 11 \end{aligned}$$

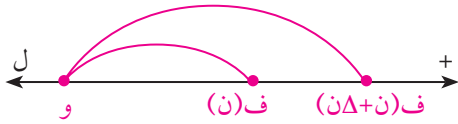
مثال (5)

إذا كان المستقيم $\text{ص} = 5\text{س} + \text{P}$ مماساً لمنحنى الاقتران $\text{ق(س)} = 2\text{س}^2 + \text{س} - 3$ ، فأوجد قيمة الثابت P .

الحل:

$$\begin{aligned} \text{ميل المماس} &= \frac{د\text{ص}}{د\text{س}} = 5, \quad \text{ق(س)} = 2\text{س}^2 + \text{س} + 1 \\ \text{وبفرض أن نقطة التماس (ب, ق(ب)) يكون ميل المماس} &= 4\text{ب} + 1 \\ 4\text{ب} + 1 &= 5, \quad \text{ومنها} \quad \text{ب} = 1 \\ \therefore \text{نقطة التماس هي (1, ق(1))} &= (1, 0) \\ \text{لكن هذه النقطة تقع على المماس فهي تحقق معادلته أي أن:} & \text{صفر} = 5 + 1 \times 0, \quad \text{ومنها} \quad \text{P} = -5 \end{aligned}$$

(2) تطبيقات فيزيائية (السرعة والتسارع):



الشكل (2-7)

لتكن و نقطة ثابتة على الخط المستقيم ل المبين في الشكل (2-7).

أ إذا تحرك جسم على هذا المستقيم بحيث كانت ف تمثل إزاحة الجسم عن النقطة و عند الزمن ن فإن السرعة

$$\begin{aligned} \text{المتوسطة لهذا الجسم في الفترة الزمنية [ن, ن + Δن]} & \text{هي} \quad \frac{ف(ن) - ف(ن + Δن)}{Δن} = \frac{Δف}{Δن} \\ \text{أما} & \text{ن} \quad \frac{Δف}{Δن} \text{ وتساوي} \quad \frac{د\text{ف}}{د\text{ن}} \text{ فتسمى السرعة اللحظية للجسم عند الزمن} \quad \text{ن} \text{ ويرمز لها بالرمز} \quad \leftarrow \frac{د\text{ف}}{د\text{ن}} \end{aligned}$$

ب وبطريقة مماثلة يعرف التسارع المتوسط للجسم في الفترة الزمنية [ن، ن + Δن] بأنه $\frac{ع\Delta}{ن\Delta}$

$$\text{ويكون التسارع اللحظي } ت = \frac{دع}{دن} = \frac{د}{دن} \left(\frac{دف}{دن} \right) = \frac{د^2ف}{دن^2}$$

مثال (٦)

يتحرك جسم على خط مستقيم تبعاً للعلاقة ف(ن) = ن^٣ + ٢ن^٢، حيث ف إزاحة الجسم بالأمتار عن نقطة ثابتة و على خط الحركة، ن الزمن بالثواني . أوجد:

- أ السرعة المتوسطة بين ن=١، ن=٣ ب السرعة عند ن=٤
 ج التسارع المتوسط في الفترة الزمنية [٢، ٥] د التسارع عند ن=٣

الحل:

أ $ف(ن) = ن^٣ + ٢ن^٢$
 السرعة المتوسطة = $\frac{ف\Delta}{ن\Delta} = \frac{ف(٣) - ف(١)}{٣ - ١} = \frac{٣ - ٤٥}{٢} = ٢١ \text{ م/ث}$

ب $ع = \frac{دف}{دن} = ٣ن^٢ + ٤ن$

∴ السرعة اللحظية عندما ن = ٤ تساوي ٤ × ٤ + ١٦ × ٣ = ٦٤ م/ث

ج $\text{التسارع المتوسط} = \frac{ع\Delta}{ن\Delta} = \frac{ع(٥) - ع(٢)}{٥ - ٢}$

$$= \frac{٧٥ - (٢٠ + ٢٥ \times ٣)}{٥ - ٢} = \frac{٧٥ - ٧٧}{٣} = -\frac{٢}{٣} \text{ م/ث}^٢$$

د $ت = \frac{دع}{دن} = ٦ن + ٤$

∴ ت عندما ن = ٣ تساوي ٣ × ٦ + ٤ = ٢٢ م/ث^٢

مثال (٧)

قذف جسم رأسياً للأعلى من نقطة (٩) على سطح الأرض، وكان ارتفاعه ف بالأمتار يعطى بالقاعدة ف = ٣٠ن - ٥ن^٢، ن الزمن بالثواني .

- أ جد السرعة الابتدائية (ع). للجسم . ب جد التسارع عند ن = ٢
 ج جد أقصى ارتفاع يصل إليه الجسم . د أثبت أن زمن الصعود = زمن الهبوط .
 هـ جد المسافة الكلية التي قطعها الجسم في الثواني الأربع الأولى .

الحل:

$$ع = \frac{د ف}{د ن}$$

$$ع = ١٠ - ٣٠ = ٢٠$$

السرعة الابتدائية (ع) هي السرعة اللحظية عند ن = ٠

$$ع = ٣٠ - ١٠ \times ٠ = ٣٠ \text{ م/ث}$$

$$ت = \frac{د ع}{د ن} = ١٠ - ٠ = ١٠$$

وعند ن = ٢ تكون ت = ١٠ م/ث^٢،

أي أن الجسم يتباطأ (تنقص سرعته) بمعدل ١٠ م/ث لكل ثانية.

يصل الجسم إلى أقصى ارتفاع عندما تكون سرعته ع = ٠

أي عندما ١٠ - ٣٠ = ٠

ن = ٣ ثوان

$$ف = ٣ \times ٣٠ - ٢ \times ٣ \times ١٠ = ٤٥ \text{ متراً.}$$

زمن الصعود = ٣ ثوان

ولايجاد زمن الهبوط نجد زمن الحركة الكلي وهو الزمن اللازم

ليعود الجسم إلى النقطة و. عندئذ تكون ف = ٠

$$٣٠ - ١٠ \times ٥ = ٠$$

$$٥ = ٦ - ن$$

ن = ٠ أو ن = ٦ ثوان. ∴ زمن الحركة = ٦ ثوان.

∴ زمن الهبوط = ٦ - ٣ = ٣ ثوان. مما يعني أن زمن الصعود = زمن الهبوط.

عندما ن = ٤ ثوان، يكون الجسم على ارتفاع

$$ف = ٤ \times ٣٠ - ١٦ \times ١٠ = ٤٠ \text{ متراً.}$$

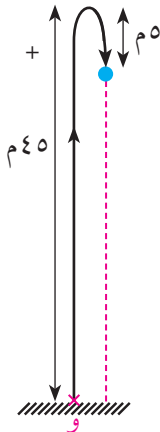
وبما أن الزمن ٤ ثوان أكبر من زمن الصعود (٣ ثوان)، فإن الجسم بعد ٤ ثوان يكون هابطاً

وعلى ارتفاع ٤٠ متراً.

$$٥ = ٤٠ - ٤٥ = \text{المسافة التي هبطها الجسم}$$

$$٥٠ = ٥ + ٤٥ = \text{المسافة الكلية التي قطعها الجسم}$$

لاحظ الشكل (١-٢).



الشكل (١-٢)

مثال (٨)

من قمة برج يرتفع عن سطح الأرض ٥٠م، لاحظ الشكل (٢-٩)، أطلق جسم رأسياً للأعلى فكانت إزاحته ف بالامتار عن قمة البرج بعد ن ثانية تعطى بالقاعدة:
 $f = 15n^2 - 2n$. جد:

سرعة هذا الجسم عند $n = 2$ ث.

الزمن اللازم ليكون الجسم على ارتفاع ١٠ م من قمة البرج.

سرعة ارتطام الجسم بسطح الأرض.

أ

ب

ج

الحل:

$$ع = \frac{د}{د} = \frac{15 - 10}{2} = 2.5 \text{ م/ث}$$

$$ع = 2 \text{ ث} \Rightarrow 15 - 10 = 2 \times 2 = 4 \text{ م/ث}$$

أي أن الجسم يكون متجهاً إلى أسفل بسرعة مقدارها ٥ م/ث.

$$ف = 15n^2 - 2n$$

$$10 = 15n^2 - 2n$$

$$0 = 15n^2 - 2n - 10$$

$$0 = 2n^3 + 3n - 2$$

$$(1-n)(1-n-2) = 0 \Rightarrow n = 1 \text{ ث}, 2 \text{ ث}$$

وهذا يعني أن الجسم يكون على ارتفاع ١٠ م من قمة البرج مرتين: الأولى بعد ثانية واحدة وهو صاعد، والأخرى بعد ثانيتين وهوهابط.

عند ارتطام الجسم بسطح الأرض تكون $f = -50$.

$$-50 = 15n^2 - 2n$$

$$0 = 15n^2 - 2n - 50$$

$$0 = 2n^3 + 3n - 5$$

$$0 = (2+n)(5-n)$$

$$n = 5, 2$$

$n = 5$ ثوان، الزمن اللازم لارتطام الجسم بسطح الأرض

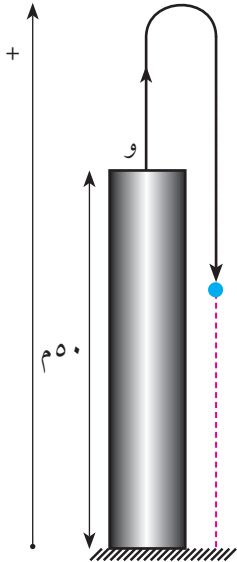
$$ع = 15 \times 5 - 2 \times 5 = 35 \text{ م/ث}$$

أي أن الجسم يرتطم بسطح الأرض بسرعة مقدارها ٣٥ م/ث إلى أسفل.

أ

ب

ج



الشكل (٢-٩)

- ١ جد ميل المماس المرسوم لمنحنى الاقتران ق(س) = س^٢ - س + ٣ عند النقطة (٠ ، ٣) الواقعة عليه .
- ٢ جد النقطة/النقاط الواقعة على منحنى الاقتران ق(س) = س^٣ - ٣س^٢ + ٥ التي يكون المماس المرسوم عندها موازياً لمحور السينات .
- ٣ رسم مماس لمنحنى الاقتران ق(س) = س^٢ + س - ٥ فكان عمودياً على المستقيم س - ٥ ص = ٧ .
جد معادلة المماس .
- ٤ جد معادلة المماس المرسوم لمنحنى ق(س) = س^٣ + س^٢ - ٧ عند النقطة التي تكون زاوية ميل العمودي على المنحنى عندها $\frac{3}{4}\pi$.
- ٥ إذا كان المستقيم الواصل بين النقطتين (٠ ، ١) ، (١ ، ب) مماساً لمنحنى ق(س) = ٢س^٢ - ٥س + ٧ أوجد قيمة ب .
- ٦ أوجد الثوابت P ، ب ، ج بحيث يمر منحنى الاقتران ص = Pس^٢ + ب س + ج بالنقطة (١ ، ٣) ، ويمس المستقيم ٤س + ص = ٨ عند النقطة (٢ ، ٠) .
- ٧ أوجد معادلة المماس المرسوم لمنحنى الاقتران ق(س) = س^٢ من النقطة (١ ، ٠) الواقعة خارجه .
كم حلاً للمسألة؟
- ٨ إذا كانت ف = ن^٣ - ٣ن^٢ + ٥ هي العلاقة بين الازاحة ف بالامتار والزمن ن بالثواني لجسم يتحرك على خط مستقيم ، فأوجد سرعة هذا الجسم وتسارعه عند ن = ٣ .
- ٩ قذف جسم رأسياً للأعلى فكانت العلاقة بين ارتفاعه ف بالأمتار عن نقطة قذفه وزمن حركته ن بالثواني هي : ف = ٥٠ - ٥ن^٢ .
أ جد أقصى ارتفاع يصل إليه الجسم .
ب جد سرعة هذا الجسم عندما يكون على ارتفاع ٨٠ متراً .
ج جد المسافة المقطوعة في الثواني الست الأولى .

٦-٢ قاعدة السلسلة (مشتقة الاقتران المركب) (Chain Rule)

نعلم أنه إذا كان $ق(س)$ ، $ه(س)$ اقترانين بحيث كان مدى $ه(س)$ \subseteq مجال $ق(س)$ فإنه يمكن تعريف الاقتران المركب $(ق \circ ه)(س) = ق(ه(س))$ ، فكيف نجد مشتقة هذا الاقتران؟

مثال (١)

إذا كان $ق(س) = س^٢$ ، $ه(س) = س^٢ - ٣$ ، فأوجد $(ق \circ ه)(س)$.

$$(ق \circ ه)(س) = ق(ه(س)) = (س^٢ - ٣)^٢$$

$$= س^٤ - ٦س^٢ + ٩$$

$$\therefore (ق \circ ه)(س) = س^٤ - ٦س^٢ + ٩$$

الحل:

ولكن هل يمكننا إيجاد مشتقة الاقتران المركب دون اللجوء إلى معرفة قاعدته؟
القاعدة التالية تجيب عن هذا التساؤل:

قاعدة السلسلة:

إذا كان $ه(س)$ اقتراناً قابلاً للاشتقاق عند $س$ ، وكان $ق(س)$ قابلاً للاشتقاق عند $ه(س)$ ، فإن الاقتران المركب $(ق \circ ه)(س)$ يكون قابلاً للاشتقاق عند $س$ ، ويكون $(ق \circ ه)(س) = ق'(ه(س)) \times ه'(س)$.

مثال (٢)

إذا كان $ق(س) = س^٣ + ٢س + ٥$ ، $ه(س) = س^٢ + ١$ فأوجد:

$$أ \quad (ق \circ ه)(س) \quad ب \quad (ه(ق(١)))$$

$$ق'(س) = ٣س^٢ + ٢، \quad ه'(س) = ٢س$$

$$أ \quad (ق \circ ه)(س) = ق'(ه(س)) \times ه'(س)$$

$$= ق'(س^٢ + ١) \times ٢س$$

$$= (٣(س^٢ + ١)^٢ + ٢) \times ٢س$$

$$= ٦س^٥ + ١٢س^٣ + ٤س$$

$$ب \quad (ه(ق(١))) = ه'(ق(١)) \times ق'(١)$$

$$= ه'(٨) \times ق'(١) = ١٦ \times ٥ = ٨٠$$

الحل:

ملاحظة:

لاحظ أنه إذا كان ص = ق(ع) ، ع = هـ(س) ، فإن ص = ق(هـ(س)) وبالتالي فإن :

$$\frac{دص}{دس} = \frac{د}{دس} = \frac{ق(هـ(س))}{دس} = \frac{ق(هـ(س))}{دس} . هـ(س)$$

$$= \frac{ق(ع)}{دس} . هـ(س)$$

$$= \frac{دص}{دس} . \frac{دع}{دس}$$

$$أي أن \frac{دص}{دس} = \frac{دص}{دس} . \frac{دع}{دس}$$

مثال (٣)

إذا كان ص = ع^٢ + ع^٣ + ١ ، ع = س^٣ + ٢س - ٣ ، فأوجد $\frac{دص}{دس}$.

$$\frac{دص}{دس} = \frac{دص}{دس} \times \frac{دع}{دع}$$

$$= \frac{دص}{دس} (٣ + ع٢) =$$

$$= \frac{دص}{دس} (٣ + (س٣ + ٢س - ٣)٢) =$$

$$= \frac{دص}{دس} (٣ + ٤س٢ + ٣س - ٣) =$$

$$= \frac{دص}{دس} (٦س٢ + ١٦س - ٦)$$

الحل:

ملاحظة: يمكن تعميم قاعدة السلسلة لتشمل أكثر من اقرانين.

مثال (٤)

إذا كانت ع = ل^٣ + ٢ل^٢ + ٣ ، ل = ص^٢ - ص + ٥ ، ص = س^٣ + ٢س + ٣ ، فأوجد $\frac{دع}{دس}$.

$$\frac{دع}{دس} = \frac{دع}{دس} \times \frac{دل}{دل}$$

$$= \frac{دع}{دل} \times \frac{دل}{دص} \times \frac{دس}{دس}$$

$$= \frac{دع}{دل} (٣ + ٢ل + ل٣) (٢ - ص) (١ - ص٢) =$$

وعندما س = ٥ ، ل = ٥ ، ص = ٥ تكون

$$\frac{دع}{دس} = \frac{دع}{دس} (٣ + ٢(٥) + ٥٣) (٢ - ٥) (١ - ٥٢) = ٢٨٥ -$$

الحل:

مثال (5)

ق(س) ، ه(س) اقترانان قابلان للاشتقاق على حى بحيث إن :
ه(1) = 5 ، ق(1) = 2- ، ق(10) = 3 ، ه(1) = 10 ، أوجد ق(ه(1))

$$\text{ق(ه(1))} = \text{ق(ه(1))} \times \text{ه(1)}$$

$$15 = 5 \times 3 = 5 \times \text{ق(10)}$$

الحل:

مثال (6)

إذا كان ل(س) = ق(س²+3س-1) ، فأوجد ل(2) علماً بأن ق(9) = 3

$$\text{بفرض أن ه(س) = س²+3س-1}$$

$$\text{ليكون ل(س) = ق(ه(س))}$$

$$\text{ل(2)} = \text{ق(ه(2))} \times \text{ه(2)}$$

$$= \text{ق(س²+3س-1)} \times (3+2)$$

$$\text{ل(2)} = \text{ق(9)} \times 7 = 3 \times 7 = 21$$

الحل:

نتيجة:

إذا كانت ص = ق(س)^ن ، ن عدد صحيح ، وكان ق(س) اقتراناً قابلاً للاشتقاق فإن :
$$\frac{دص}{دس} = \text{ن(ق(س))}^{ن-1} \times \text{ق(س)}$$

البرهان:

افرض أن ع = ق(س) ، فيكون ص = ع^ن

$$\frac{دص}{دس} = \frac{دع}{دع} \times \frac{دص}{دع}$$

$$\text{ن ع}^{ن-1} \times \text{ق(س)} = \text{ن(ق(س))}^{ن-1} \times \text{ق(س)}$$

مثال (8)

إذا كانت ص = (1-س³)⁵ ، فأوجد $\frac{دص}{دس}$

$$\frac{دص}{دس} = 5(1-س^3)^4 \times (-3س^2) = -15س^2(1-س^3)^4$$

الحل:

تمارين (٦-٢)

١ إذا كان ق(س) = س^٣ ، هـ(س) = ٣ - ٢س فأوجد :

أ (ق هـ)(س) ب (هـ ق)(س)

٢ إذا كانت ص = ٣ع - ٤ + ٦ ، ع = ٢س^٢ + ٣س - ١ فأوجد $\frac{دص}{دس}$.

٣ إذا كان ل(س) = س × هـ(س^٢ - ٣س + ٢) فأوجد ل(٣) ، علماً بأن : هـ(٢) = ٤ ، هـ(٢) = ١ -

٤ إذا كان م(س) = ق(س^٢) - ق(س^٣) فأوجد م(١) ، علماً بأن ق(١) = ٣ ، ق(١) = ٢

٥ إذا كانت م = ل^٢ - ل ، ل = س^٢ + ٧س - ١ ، س = ٣ص + ٥ ، فأوجد :

أ $\frac{دل}{دص}$ ب $\frac{دم}{دص}$

٦ إذا كان ل(س) = (س^٢ - س - ٣)° فأوجد ل(٢) .

٧ إذا كان ص = ق(هـ(س)) فأوجد $\frac{دص}{دس}$ |

علماً بأن هـ(س) = $\frac{١}{٢}$ - ٣ ، هـ(س) = $\frac{١}{٢}$ ، ق(٣) = ٤ ، ق(٢) = ٦

٨ ق(س) اقتران له الخواص التالية :

س	٠	١	٢	٤
ق(س)	٠	١	٣	٦
ق(س)	١	١	٢	٣
ق(س)	٢	١	١	٠

ليكن ك(س) = س ق(س^٢) أوجد قيمة الاقتران ك ومشتقته الأولى والثانية عند س = ٠ ، ١ ، ٢

٩ ليكن ق(س) اقتراناً قابلاً للاشتقاق . برهن أنه :

أ إذا كان ق(س) اقتراناً زوجياً فإن ق(س) يكون اقتراناً فردياً .

ب إذا كان ق(س) اقتراناً فردياً فإن ق(س) يكون اقتراناً زوجياً .

(إرشاد : يكون الاقتران ق(س) زوجياً إذا كان ق(-س) = ق(س) ، ويكون الاقتران ق(س) فردياً

إذا كان ق(-س) = -ق(س))

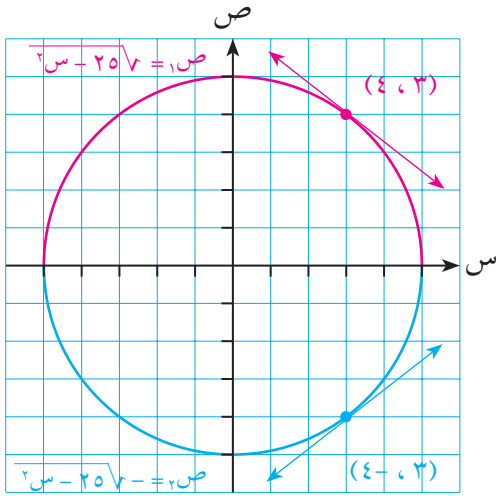
٧-٢ الاشتقاق الضمني (Implicit Differentiation)

تعرفنا سابقاً كيف نجد المشتقة الأولى لاقتران صورته $ص = ق(س)$ حيث $ص$ معطاة بصورة صريحة بدلالة $س$. وفي الحالات الأخرى التي يظهر فيها المتغيران معاً في أحد طرفي المعادلة أو كليهما، يقال إن $ص$ تُعرّف ضمناً اقتراناً أو أكثر. ويمكن حساب المشتقة لأي من هذه الاقترانات بالطريقة المسماة الاشتقاق الضمني كما في المثال التالي:

مثال (١)

إذا كانت $ص^2 + س^2 = ٢٥$ فأوجد $\frac{دص}{دس}$

ومن ذلك، أوجد $\frac{دص}{دس}$ عندما $س = ٣$.



الشكل (١٠-٢)

نشتق طرفي العلاقة بالنسبة ل $س$ كما يلي:

$$\frac{د}{دس} (٢٥) = \frac{د}{دس} (ص^2) + \frac{د}{دس} (س^2)$$

$$صفر = \frac{دص}{دس} \times (٢ص) + س^2$$

$$صفر = \frac{دص}{دس} ٢ص + س^2$$

$$\frac{دص}{دس} = \frac{س^2 - ٢ص}{٢ص}$$

∴

عندما $س = ٣$ تكون $ص = ٤$

$$\frac{دص}{دس} = \left. \frac{٣ - ٢ص}{٢ص} \right|_{(٤, ٣)}$$

∴

وهي تمثل ميل المماس لمنحنى الاقتران $ص = \sqrt{٢٥ - س^2}$

كما في الشكل (١٠-٢) (النصف العلوي من الدائرة).

$$\frac{دص}{دس} = \left. \frac{٣ - ٢ص}{٢ص} \right|_{(٤, -٣)}$$

وهي تمثل ميل المماس لمنحنى الاقتران $ص = -\sqrt{٢٥ - س^2}$

كما في الشكل (١٠-٢) (النصف السفلي من الدائرة).

مثال (٢)

إذا كانت $ل^٢م^٢ + ٣ = ٥ + ل + ٦$ فأوجد $\frac{دل}{دم}$.

الحل:

باشتقاق الطرفين بالنسبة ل $م$ ينتج أن:

$$\frac{دل}{دم} = ٥ + \frac{دل}{دم} ل٢ \times ٢م + ٢م٣ \times ٢ل$$

$$٢ل٢م٣ - ٥ = \frac{دل}{دم} \times ٤ - \frac{دل}{دم} ل٢م٣$$

$$\frac{دل}{دم} (٤ - ل٢م٣) = ٢ل٢م٣ - ٥$$

$$\frac{دل}{دم} = \frac{٢ل٢م٣ - ٥}{٤ - ل٢م٣}$$

←

مثال (٣)

إذا كانت $(س + ص٣) = ٥$ ، $٧ - ص٣ + س٢ = ٥$ فأوجد $\frac{دص}{دس}$.

الحل:

باشتقاق الطرفين بالنسبة ل $س$ ينتج أن:

$$٥ (س + ص٣) = (٣ + ١) \frac{دص}{دس} + ٣ص + س٢$$

$$٥ (س + ص٣) + ١٥ = \frac{دص}{دس} (٣ + ١) + ٣ص + س٢$$

$$\frac{دص}{دس} (١٥ + ٥(س + ص٣)) = ٣ص + س٢ - ١٥$$

$$\frac{دص}{دس} = \frac{٣ص + س٢ - ١٥}{١٥ + ٥(س + ص٣)}$$

∴

مثال (٤)

جد معادلة المماس للمنحنى $س٢ + ص٢ - ٤س + ٢ص = ٢٠$ المرسوم عند النقطة $(٣، ١-)$ الواقعة عليه.

الحل:

باشتقاق طرفي العلاقة بالنسبة للمتغير $س$ ينتج أن:

$$٢س + ٢ص = \frac{دص}{دس} - ٤ + \frac{دص}{دس} ٢$$

وبالتعويض في النقطة $(٣، ١-)$ يكون:

مثال (٦)

لتكن $m = \frac{4}{5}l - \frac{1}{3}l + \frac{1}{4}l$ أوجد $\frac{m}{l}$ | $l=1$

الحل:

$$\frac{3-}{4}l \times \frac{1}{4} \times 8 + \frac{2}{3}l \times \frac{5}{3} \times 6 - \frac{1-}{5}l \times \frac{4}{5} = \frac{m}{l}$$

$$\frac{3-}{4}l \times 2 + \frac{2}{3}l \times 10 - \frac{1-}{5}l \times \frac{4}{5} =$$

وعندما $l = 1$ تكون $\frac{m}{l} = \frac{4}{5}$

$$7, 2- =$$

ويمكن تعميم النتيجة السابقة على النحو الآتي:

إذا كانت $v = \frac{m}{n}((s))$ ، عدد نسبي ، q قابل للاشتقاق فإن:

$$\frac{dv}{ds} = \frac{m}{n}((s)) \times \frac{1}{q}((s))$$

وبشكل خاص:

$$\frac{dv}{ds} = \frac{m}{n}((s)) \text{ موجودة فإن: } \frac{dv}{ds} = \frac{m}{n} \sqrt{2}((s))$$

مثال (٧)

إذا كانت $v = \sqrt{24 + 3s}$ فأوجد $\frac{dv}{ds}$ | $s=2$

الحل:

$$v = \frac{1}{5}(24 + 3s)$$

$$\frac{dv}{ds} = \frac{1}{5}(24 + 3s) \times \frac{3}{5}$$

$$\frac{dv}{ds} = \frac{1}{5}(32) \times \frac{3}{5}$$

$$\frac{3}{20} = \frac{12 \times 1}{16 \times 5} =$$

مثال (٨)

إذا كانت $\sqrt{2} = \sqrt{s^2 + s + 8}$ فأوجد $\frac{دص}{دس}$.

$$\frac{(1+s^2)}{\sqrt{2} \sqrt{s^2 + s + 8}} = \frac{دص}{دس}$$

الحل:

مثال (٩)

إذا كان $\sqrt{2} = \sqrt{s^3 + 5}$ فأوجد $\frac{دص}{دس}$.

باشتقاق طرفي العلاقة بالنسبة لـ s ينتج أن:

$$2s^2 = \frac{3s^2 + \frac{دص}{دس}}{\sqrt{2} \sqrt{s^3 + 5}}$$

$$\sqrt{2} \sqrt{s^3 + 5} = \frac{دص}{دس} + \frac{3}{2s^2}$$

$$\frac{دص}{دس} = \frac{\sqrt{2} \sqrt{s^3 + 5} - \frac{3}{2s^2}}{1}$$

الحل:

ملاحظة: يمكن حل المثال بطريقة أخرى، وذلك بتربيع الطرفين ثم الاشتقاق الضمني بالنسبة إلى s .

١ في كل من العلاقات التالية، جد المشتقة المذكورة إزاءها:

أ $s^2 + v^2 = 3s - 5$ ؛ $\frac{dv}{ds}$ **ب** $3 + 2l = 5 - e$ ؛ $\frac{dl}{de}$
ج $(s + 2v)^2 = 3s - v^2$ ؛ $\frac{dv}{ds}$ **د** $6s = 10 + \frac{2}{3}s + 3s - 4$ ؛ $\frac{dv}{ds}$
هـ $l = \sqrt{18 + s^2}$ ؛ $\frac{dl}{ds}$ **و** $l = \sqrt{s^2 - 7}$ ؛ $\frac{dl}{ds}$ **ز** $\sqrt{s^3 + v} = 5 - 3s$ ؛ $\frac{dv}{ds}$

٢ إذا كانت $l = \sqrt{(s-3)^2}$ فأثبت أن: $9s^2 = \frac{dl}{ds} = \frac{2}{l\sqrt{3}}$

٣ يتحرك جسم وفق العلاقة: $e = \sqrt{3}f$

ع، ف هما السرعة والإزاحة على الترتيب، أثبت أن هذا الجسم يسير بتسارع ثابت.

٤ إذا كان $s^2 - v^2 = 1$ فأثبت أن: $\frac{dv}{ds} = \frac{1-v}{3}$

٥ بين أن النقطة (٢، ٣) تقع على منحنى العلاقة: $s^2 + v^2 = 19$ ، ثم أوجد معادلة المماس والعمودي على المنحنى عندها.

٦ إذا كان $s^2 + 3s = 18$ ، $e = 5 - v - v^2 + 8$ ، فأوجد $\frac{de}{ds}$ عندما $v = 6$

٧ جد معادلة المماس المرسوم لمنحنى العلاقة: $s^2 + s = 6$ عند النقطة (١، ٢).

٨ بين باستخدام حساب التفاضل أن الدائرتين:

$s^2 + v^2 - 12s - 6v + 25 = 0$ ، $s^2 + v^2 + 2s + 3v - 10 = 0$ ،
متماستان عند النقطة (١، ٢).

٩ إذا كانت $s^3 + v = s$ فأوجد $\frac{dv}{ds}$ عند النقطة (٢، ١).

١٠ أوجد النقطة/النقاط الواقعة على المنحنى $s^2 - s + v = 0$ ، والتي يكون المماس عندها أفقياً.

٨-٢ مشتقات الاقترانات الدائرية

تستخدم الاقترانات الدائرية في وصف الكثير من الظواهر التي تحمل صفة الدورية مثل: الحركة التوافقية البسيطة، والحقول الكهرومغناطيسية، وغيرها مما يمنح دراسة مشتقات هذه الاقترانات أهمية خاصة في فهم كثير من الظواهر الطبيعية.

نظرية (١):

إذا كان $ق(س) = جاس$ ، $س$ بالتقدير الدائري، فإن $ق(س) = جتاس$.

البرهان:

$$\begin{aligned} ق(س) &= \frac{ق(س + ه) - ق(س)}{ه} = \frac{جاس + جها - جاس}{ه} \\ &= \frac{جها}{ه} \\ &= \frac{جاس جتا ه + جتاس جا ه - جاس}{ه} \\ &= \frac{جاس}{ه} (جتا ه - ١) + \frac{جتاس}{ه} جا ه \\ &= \frac{جاس}{ه} (جتا ه - ١) + \frac{جتاس}{ه} جا ه \\ &= جاس \times صفر + جتاس \times ١ ، (حيث $\frac{جتا ه - ١}{ه} = صفر$ ، انظر مثال ٣ صفحة ٢٤) \\ &= جتاس \end{aligned}$$

مثال (١)

إذا كان $ق(س) = جاس$ ، فأوجد $ق\left(\frac{\pi}{٦}\right)$.

الحل:

$$\begin{aligned} ق(س) &= جتاس \\ ق\left(\frac{\pi}{٦}\right) &= جتا\left(\frac{\pi}{٦}\right) = \frac{\sqrt{٣}}{٢} \end{aligned}$$

مثال (٢)

إذا كان هـ (س) = س^٢ جاس فأوجد هـ (س).

$$\text{هـ (س)} = \text{س}^2 \text{جتا س} + ٢ \text{س جاس}$$

الحل:

مثال (٣)

إذا كانت ص = جا (٣-٥ س) فأوجد $\frac{\text{دص}}{\text{دس}}$.

$$\frac{\text{دص}}{\text{دس}} = \text{جتا (٣-٥ س)} = ٣ - ٥ \text{جتا س} = ٣ - ٥ \text{جتا (٣-٥ س)}$$

الحل:

مثال (٤)

إذا كان ع = جا (جاس) أوجد $\frac{\text{دع}}{\text{دس}}$ عند $\pi = \text{س}$.

$$\begin{aligned} \frac{\text{دع}}{\text{دس}} &= \text{جتا (جاس)} \times \text{جتا س} \\ \text{عندما } \pi = \text{س} \text{ فإن } \frac{\text{دع}}{\text{دس}} &= \text{جتا (\pi جاس)} \times \text{جتا } \pi \\ &= \text{جتا } 0 \times \text{جتا } \pi = 1 - 1 = 0 \end{aligned}$$

الحل:

نظرية (٢):

إذا كان ق (س) = جتا س ، فإن ق (س) = - جاس

البرهان:

$$\text{ق (س)} = \text{جتا س} = \text{جا } \left(\frac{\pi}{2} - \text{س} \right)$$

$$\text{ق (س)} = \text{جتا } \left(\frac{\pi}{2} - \text{س} \right) = 1 - \text{جاس}$$

مثال (٥)

إذا كان هـ (س) = جتا^٣ (٢-١ س) فأوجد هـ (س)

$$\text{هـ (س)} = \text{جتا}^3 (٢-١ س)$$

$$\text{هـ (س)} = \text{جتا}^3 (٢-١ س) \times ٢ - \text{جتا}^2 (٢-١ س) \times ٢$$

$$= ٦ \text{جتا}^2 (٢-١ س) \text{جا (٢-١ س)}$$

الحل:

مثال (٦)

إذا كان جتا(س) = ص ، فأوجد $\frac{دص}{دس}$

الحل:

باشتقاق طرفي العلاقة بالنسبة إلى س ينتج أن:

$$-جا(س)ص = \left(س + \frac{دص}{دس}\right) \times (ص) = ١$$

$$-س جا(س)ص = \frac{دص}{دس} \times (ص) + ١ = ص جا(س)ص$$

$$\frac{دص}{دس} = \frac{١ + ص جا(س)ص}{ص جا(س)ص}$$

نظرية (٣): مشتقات الاقترانات الدائرية الأخرى:

١ إذا كانت ص = ظا س فإن $\frac{دص}{دس} = قا^٢س$

٢ إذا كانت ص = ظتا س فإن $\frac{دص}{دس} = -قتا^٢س$

٣ إذا كانت ص = قاس فإن $\frac{دص}{دس} = قاس ظا س$

٤ إذا كانت ص = قتا س فإن $\frac{دص}{دس} = -قتا س ظتا س$

البرهان:

١ ص = ظا س = $\frac{جا س}{جتا س}$

$$\frac{دص}{دس} = \frac{جتا س \times جتا س - جا س \times جا س}{جتا^٢س} = \frac{١}{جتا^٢س} = قا^٢س$$

ويمكن البرهنة على صحة القواعد ٢ ، ٣ ، ٤ بطريقة مماثلة .

مثال (٧)

إذا كانت $v = 2 \text{ ظا س} - 5 \text{ قتا}^2 \text{ س}$ أوجد $\frac{dv}{ds}$.

$$v = 2 \text{ ظا س} - 5 \text{ قتا}^2 \text{ س}$$

$$\frac{dv}{ds} = 2 \text{ قا}^2 \text{ س} - 5 \text{ قتا}^2 \text{ س} - 10 \text{ قتا س} = 5 \times 5$$

$$= 2 \text{ قا}^2 \text{ س} + 10 \text{ قتا}^2 \text{ س} - 10 \text{ قتا س}$$

الحل:

مثال (٨)

إذا كانت $f = 3 \text{ جا}^2 \text{ ن} + 2 \text{ جتا}^2 \text{ ن}$ هي العلاقة بين الإزاحة f بالأمتار والزمن t بالثواني لجسم يتحرك على خط مستقيم، فأوجد سرعة وتسارع هذا الجسم عندما $t = \frac{\pi}{6}$.

$$f = 3 \text{ جا}^2 \text{ ن} + 2 \text{ جتا}^2 \text{ ن}$$

$$\text{وعندما } t = \frac{\pi}{6} \text{ فإن } f = 3 \text{ جتا}^2 \frac{\pi}{6} - 2 \text{ جا}^2 \frac{\pi}{6}$$

$$f = 3 \sqrt{3} - 2 = \frac{3\sqrt{3}}{2} \times 2 - 0 = 3\sqrt{3} \text{ م/ث}$$

$$t = \frac{df}{dt} = 9 \text{ جا}^2 \text{ ن} - 4 \text{ جتا}^2 \text{ ن}$$

$$\text{وعندما } t = \frac{\pi}{6} \text{ فإن } t = 9 \text{ جا}^2 \frac{\pi}{6} - 4 \text{ جتا}^2 \frac{\pi}{6}$$

$$= 9 - 4 = \frac{1}{2}$$

$$= 11 \text{ م/ث}^2$$

الحل:

١ في كل من الاقترانات التالية أوجد $\frac{دص}{دس}$:

أ	ص = ٣ جا س - ٢ جتا س	ب	ص = جا ^٢ س + جتا ^٢ س
ج	ص = $\frac{٢}{٣ - ظا س}$	د	ص = ٤ جتا $(\frac{س}{٢})$
هـ	ص = ظا ^٢ س - قا ^٢ س	و	ص = قتا ^٢ $\sqrt{٢ + \pi}$ س
ز	ص = ظتا ^٣ (٥ - س)	ح	ص = قا (جا ^٣ س)

٢ إذا كانت ص = ٣ + جا م ، م = ٥ + جتا^٣س فأوجد $\frac{دص}{دس}$.

٣ إذا كانت ص = ظا س جا ٢ س ، فأثبت أن $\frac{دص}{دس} = ٢$ جا ٢ س .

٤ إذا كان جا (س ص) = ٣ س - ظتا ٢ س ، فأوجد $\frac{دص}{دس}$.

٥ جد النقطة/النقاط الواقعة على منحنى ق (س) = س - جتا ٢ س ، س $\in [٠, \pi/٢]$ ، والتي يكون المماس المرسوم للمنحنى عند كل منها موازياً لمحور السينات .

٦ جد معادلة المماس المرسوم لمنحنى ص = جا (س ص) عند النقطة $(١, \frac{\pi}{٢})$.

٧ إذا كان هـ (س) = قا ٣ س . فأوجد هـ (س) .

٨ إذا كانت ص = ظا^٢س ، فأثبت أن $\frac{دص}{دس} = ٢(١ + ص)(٣ + ص)$.

٩ إذا كانت ص = جا س + ٢ جتا س فأثبت أن $\frac{دص}{دس} + \frac{دص}{دس} + \frac{دص}{دس} = ص$ = صفر .

١٠ يسير جسم في خط مستقيم وفق العلاقة ف = P جتا (ب ن + ج) ، حيث P ، ب ، ج ثوابت ، أثبت أن تسارع الجسم = -ب^٢ف ، علماً بأن الإزاحة ف بالأمتار ، الزمن ن بالثواني .

تمارين عامة

- ١ ضع دائرة حول رمز الإجابة الصحيحة فيما يلي :
- ١ إذا كان متوسط تغير الاقتران ق(س) بين س = ١ ، س = ٣ يساوي ٤ وكانت ق(٣) = ٨ فإن ق(١) تساوي :
- أ ١٦ ب ٢ ج صفر د ٤
- ٢ إذا كان ق(س) = $\left[5 + \frac{1}{3}س\right]$ ، فإن ق(١٢) تساوي :
- أ $\frac{1}{3}$ ب غير موجودة ج صفر د ٤
- ٣ إذا كان متوسط تغير الاقتران ق(س) في الفترة [١ ، ١٦] يساوي ٩ فإن متوسط تغير الاقتران ق(س) في الفترة [١ ، ٤] يساوي :
- أ ٤٥ ب ٣ ج ٩ د لا يمكن إيجاده
- ٤ نهما جتا (٢س-هـ) - جتا ٢س تساوي :
- أ ٢ جتا ٢س ب -٢ جتا ٢س ج جتا ٢س د -جتا ٢س
- ٥ إذا كان ق(س) = جاس ، هـ(س) = ٢ جتاس فإن ق(هـ) $\left(\frac{\pi}{3}\right)$ تساوي :
- أ ١ ب -١ ج ٢ د -٢
- ٦ إذا كان ق(س) = $٢س^٢ + س - ١$ ، هـ(س) = $\sqrt{٢س}$ فإن ق(هـ) $\left(\frac{1}{4}\right)$ تساوي :
- أ ٣ ب $\frac{1}{2}$ ج -٣ د $\frac{1-}{2}$
- ٧ نهما $\frac{٣^{٣-(هـ+١)}}{٢هـ}$ تساوي :
- أ غير موجودة ب ١٨ ج ٩ د ٣
- ٨ إذا كان ق(س) = ٢س فإن نهما $\frac{ق(٣\pi) - ق(هـ+٣\pi)}{هـ}$ تساوي :
- أ ٢ ب -٢ ج صفر د غير معرفة
- ٩ نهما $\frac{جا^٣(س+٢هـ) - جا^٣س}{٣هـ}$ تساوي :
- أ ٢ جا^٣س ب $\frac{٢}{٣}$ جتا^٣س ج جاس جا^٣س د جتا^٣س

١٠ إذا كان ق(س) = هـ(س) فإن ق(س) تساوي :

أ هـ(س) ب هـ(٢س) ج ٢س هـ(س) د ٢س هـ(س^٢)

١١ إذا كان لمنحنيي الاقترانين ق(س) = ١ + ٢س^٢ ، هـ(س) = ٢س^٢ + ب س مماس مشترك عند س = ١ فإن

قيمتي ١ ، ب على الترتيب هما :

أ ٢، ٣ ب ٤، ٣ ج ٣، ٢ د المعلومات المعطاة لا تكفي لإيجاد الثابتين .

١٢ إذا تحرك جسم على خط مستقيم وفق العلاقة ف = ٦ - ٢ن ، فإن سرعة هذا الجسم وتسارعه يتساويان عددياً عندما :

أ ن = ٢ ب ن = ٣ ج ن = ٤ د عند بدء الحركة

١٣ إذا كان ق(س) = $\left. \begin{array}{l} \sqrt{٢س + ٣س} ، ١ \leq س \\ ٣ - ٥س ، س > ١ \end{array} \right\}$ فإن ق(١) تساوي :

أ ٥ ب ٨ ج ١ د غير موجودة

١٤ إذا كان المستقيم ص = س مماساً للقطع المكافئ ص = ١ + ٢س^٢ فإن قيمة ١ تساوي :

أ $\frac{١}{٢}$ ب ٢ ج $\frac{١}{٤}$ د صفر

١٥ إذا كانت معادلة العمودي على منحنى ق(س) عند النقطة (٣ ، ٠) هي : ٢س - ٣ص = ٦ فإن ق(٣) تساوي :

أ $\frac{٣}{٢}$ ب $\frac{٢}{٣}$ ج $\frac{٢-}{٣}$ د $\frac{٣-}{٢}$

٢ ابحث في قابلية الاقترانين التاليين للاشتقاق عند النقطة المبينة إزاء كل منهما :

أ ق(س) = $\left. \begin{array}{l} س + ١ ، س \geq ٠ \\ س - ١ ، س < ٠ \end{array} \right\}$ ، س = ٠

ب اذا كان هـ(س) = $\left. \begin{array}{l} \frac{|٢-س|}{٢-س} ، س \neq ٢ \\ ١ ، س = ٢ \end{array} \right\}$ ، س = ٢

٣ أوجد $\frac{دص}{دس}$ في كل حالة مما يلي :

أ ص = ٧س^٢ + ٥س^٢ + $\frac{١}{\pi}$ ب ص = $\frac{١ + ٢س + ٥س + ٧س}{س}$ ، س ≠ ٠

ج $\sqrt{س ص} = ١$ د ص = $\sqrt{١ + ٢س}$

هـ ص = ٢س^٢ - قا^٢ س و ص = جتا س (١ + جا س) عند س = $\frac{\pi}{٢}$

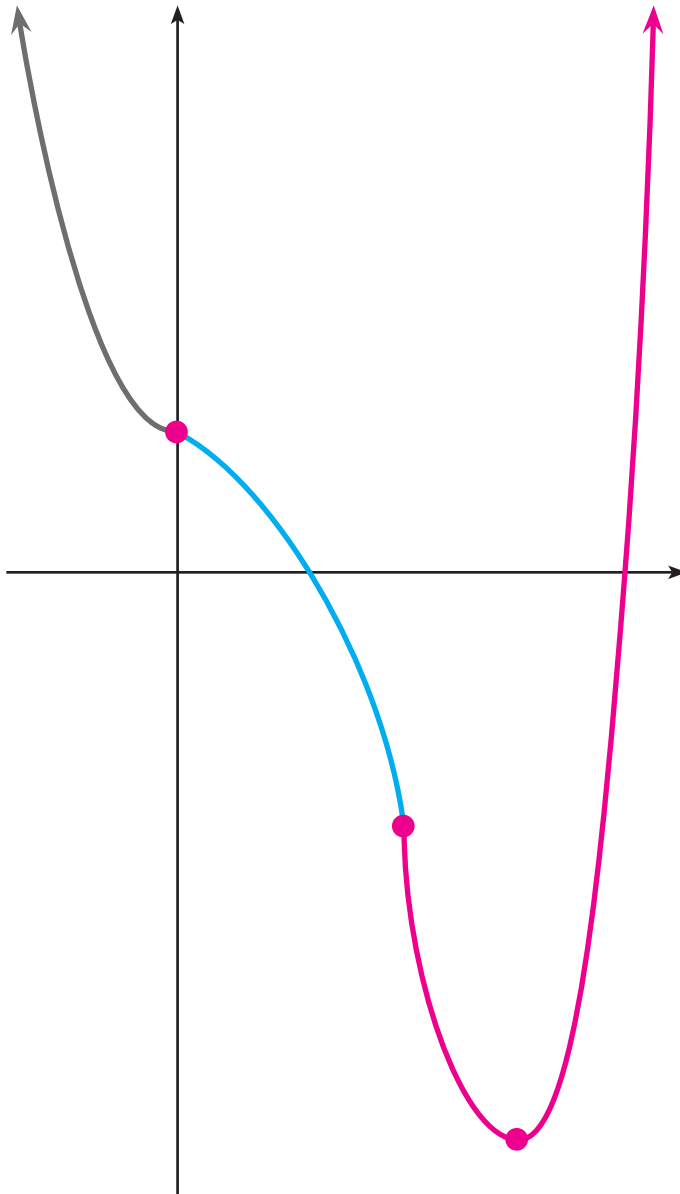
- ٤ إذا كان $س^2 + ص = ٢٥$ ، فأوجد : $\frac{دص}{دس^2}$ عند النقطة (٣ ، ٤)
- ٥ إذا كان هـ (س) = $\left. \begin{array}{l} \frac{١}{١-س} ، س \leq ٢ \\ أس^2 + ب ، س > ٢ \end{array} \right\}$ ، قابلاً للاشتقاق عند $س = ٢$ فأوجد الثابتين أ ، ب .
- ٦ إذا كان ق (س) = $٢س^٤ - أس^٣$ ، وكانت نها $\frac{ق(١) - ق(١+هـ)}{هـ}$ = ٢١ فما قيمة أ ؟
- ٧ إذا كان ق (س) = $\frac{ل(س)}{هـ(س)}$ قابلاً للاشتقاق عند $س = ٢$ ، ق (٢) = ٠ ، فأثبت أن ق (٢) = $\frac{ل(٢)}{هـ(٢)}$ ، هـ (٢) $\neq ٠$.
- ٨ إذا كانت ق (٢) = ٤ ، ق (٢) = ٦ وكان $س^2$ ق (٢ص) ، فأوجد $\frac{دص}{دس}$ عند (٢ ، ١) .
- ٩ إذا كانت $ص = س$ ظاس ، فبرهن أن $\frac{دص}{دس^2} = ٢(١+ص)$ قاس .
- ١٠ إذا كان ق (س) = $ل(س^2 + ١)$ ، ل (٥) = ١ ، ل (١٧) = ٨ فأوجد :
- أ نها $\frac{ق(٢+هـ) - ق(٢)}{هـ}$ ، ب نها $\frac{ق(س^2) - ق(٤)}{س-٢}$
- ١١ الجدول التالي يمثل قيم ق (س) ، هـ (س) ، ق (س) ، هـ (س) عند $س = ٠$ ، $س = ١$

س	ق (س)	هـ (س)	ق (س)	هـ (س)
٠	٢	١	١-	٠
١	٠	٢	٢-	١-

جد ل (س) عند قيمة س المبينة في كل مما يلي :

- أ ل (س) = ق (س) (١-٢هـ (س)) ، س = ١ ، ب ل (س) = $\frac{ق(س)}{هـ(س)}$ ، س = ٠
- ١٢ أثبت أن المماسين لمنحنى الاقتران ق (س) = $س^2 - ٥س + ٦$ عند نقطتي تقاطعه مع محور السينات متعامدان .
- ١٣ جد مساحة المنطقة المثلثية المحصورة بين محور السينات و المماس و العمودي على منحنى الاقتران ق (س) = $س^2 - ٦س + ١٣$ من النقطة (٤ ، ٥) الواقعة عليه .

تطبيقات التفاضل



نظرية القيمة المتوسطة (Mean Value Theorem)

للمشتقة استخدامات مهمة في كثير من التطبيقات الهندسية، والفيزيائية، والاقتصادية، وغيرها من العلوم والمعارف الإنسانية؛ وقد سبق أن تعرفنا بعض تلك التطبيقات في الوحدة السابقة، وستعرف المزيد منها في هذه الوحدة مثل تزايد الاقترانات، وتناقصها، وقيمتها القصوى، ورسومها البيانية، وكذلك المعدلات الزمنية المرتبطة، وسندرس أولاً نظرية لها كثير من النتائج المهمة في هذه الوحدة وفي علم التفاضل والتكامل بوجه عام وهي نظرية القيمة المتوسطة.

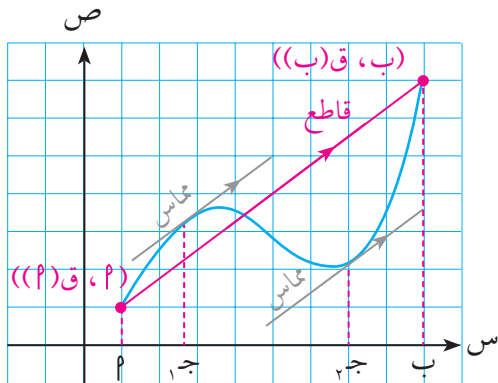
تتناول هذه النظرية العلاقة بين متوسط تغير الاقتران على فترة ما ومعدل تغير الاقتران أي المشتقة الأولى له عند نقطة في تلك الفترة.

نظرية القيمة المتوسطة:

إذا كان q (س) اقتراناً متصلًا على $[a, b]$ وقابلًا للاشتقاق على $[a, b]$ ، فإنه يوجد عدد حقيقي واحد

$$\text{على الأقل } c \in [a, b]، \text{ بحيث إن } q'(c) = \frac{q(b) - q(a)}{b - a}$$

تؤكد نظرية القيمة المتوسطة وجود عدد حقيقي واحد على الأقل $c \in [a, b]$ بحيث إن المشتقة الأولى للاقتران عند c تساوي متوسط تغير الاقتران في $[a, b]$.



الشكل (١-٣)

أي أن ميل المماس لمنحنى الاقتران عندما $s = c$ يساوي ميل المستقيم القاطع لمنحنى الاقتران عند النقطتين $(a, q(a))$ ، $(b, q(b))$ وهذا يعني أن المماس المذكور والقاطع متوازيان. يبين شكل (١-٣) المجاور منحنى الاقتران q (س) المتصل على الفترة المغلقة $[a, b]$ والقابل للاشتقاق على الفترة المفتوحة (a, b) . وفي هذا الشكل يوجد مماسان للمنحنى عند $s = c_1$ ، $s = c_2$ يوازيان القاطع.

مثال (1)

بين أن الاقتران $ق(س) = ٢س + ٣ - س٢$ يحقق شروط نظرية القيمة المتوسطة على الفترة $[-٢, ٢]$ ، ثم جد قيمة / قيم ج التي تحدها النظرية .

الحل: ✓

أولاً:

البحث في شروط النظرية:

ق متصل على $[-٢, ٢]$ لأنه كثير حدود .

ق قابل للاشتقاق على $[-٢, ٢]$ لأنه كثير حدود .

ق يحقق شروط نظرية القيمة المتوسطة على الفترة $[-٢, ٢]$.

إيجاد قيمة / قيم ج:

$$ق(٢) - ق(-٢) = (ج) \frac{ق(٢) - ق(-٢)}{٢ - (-٢)}$$

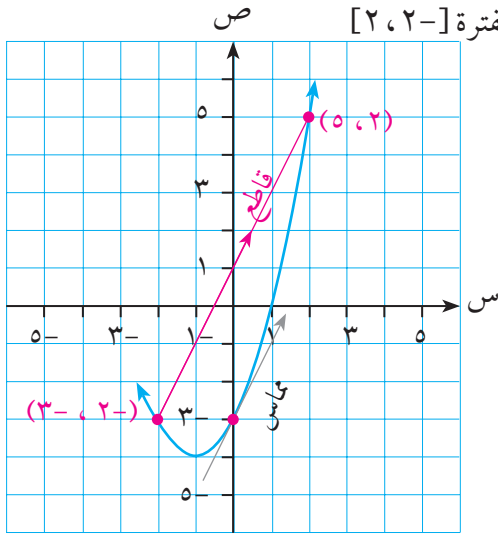
$$٢ = \frac{٣ + ٥}{٤} =$$

وحيث إن $ق(س) = ٢س + ٣ - س٢$

$$٢ = ٢ج + ٣ - ٢ =$$

ومنها $ج = ٠ \in [-٢, ٢]$

انظر الرسم في شكل (٣-٢) .



الشكل (٢-٣)

مثال (٢)

هل يحقق الاقتران $ق(س) = \begin{cases} ٢س - ٢ ، & ١ \leq س \\ ٣ - س٢ ، & س < ١ \end{cases}$ شروط نظرية القيمة المتوسطة على الفترة $[-١, ٣]$ ؟

عين قيمة / قيم ج (إن وجدت) التي تحدها النظرية .

الحل: ✓

أولاً:

البحث في شروط النظرية:

الاتصال على $[-١, ٣]$:

الاقتران ق متصل على $[-١, ٣]$ لأنه كثير حدود .

الاقتران ق متصل على $[1, 3]$ لأنه كثير حدود .

$$\text{نهاق(س)} = \text{نهاق(س-2)} = 1 - \text{س} \quad \text{س} \leftarrow +1$$

$$\text{نهاق(س)} = \text{نهاق(س-2)} = 1 - \text{س} \quad \text{س} \leftarrow -1$$

$$\text{ق(1)} = 2 - 1 = 1$$

∴ ق متصل عند س = 1

∴ ق متصل على $[1, 3]$.

ب قابلية الاشتقاق على $[1, 3]$:

$$\left. \begin{array}{l} \text{س} > 1 \\ \text{س} < 1 \end{array} \right\} \text{ق(س)} = \begin{array}{l} 2\text{س} \\ 2 \end{array}$$

وبما أن ق متصل عند س = 1 ، ق(1) = 2 ، ق(1) = 2 = 1 × 2 = 1

∴ ق(1) موجودة

∴ ق قابل للاشتقاق على $[1, 3]$.

∴ ق يحقق شروط نظرية القيمة المتوسطة على $[1, 3]$.

ثانياً: إيجاد قيمة / قيم ج:

$$\text{ق(ج)} = \frac{\text{ق(3)} - \text{ق(1)}}{3 - 1} = \frac{3 - 1}{2} = 1$$

وحيث إن ق(س) = 2س ، 1- > س ≥ 1

∴ ق(ج) = 2ج = 1 ، 1- > ج ≥ 1

$$\text{ج} = \frac{1}{2}$$

وعندما س < 1 ، فإن ق(س) = 2 ≠ 1

∴ لا توجد ج تحقق النظرية عندما س < 1

∴ ج = $\frac{1}{2}$ هي القيمة الوحيدة في الفترة $[1, 3]$ التي تعينها النظرية .

مثال (٣)

$$\left. \begin{array}{l} ٢+ س ، ٢- \geq س \geq ١- \\ ١ \geq س > ١- ، ٢ س \end{array} \right\} = \text{ليكن الاقتران ق(س)}$$

هل يحقق ق(س) شروط نظرية القيمة المتوسطة على الفترة [١، ٢-]؟

$$\text{هل توجد ج } \exists [١، ٢-] \text{ بحيث ق(ج)} = \frac{\text{ق(١)} - \text{ق(٢-)}}{(٢-) - ١} \text{؟}$$

الحل:

أولاً:

البحث في شروط النظرية:

أ

اتصال ق(س) على [١، ٢-]:

ق(س) متصل على [١، ٢-] (لماذا؟).

ب

قابلية ق للاشتقاق على [١، ٢-]:

$$\left. \begin{array}{l} ١- > س > ٢- ، \\ ١ > س > ١- ، ٢ س \end{array} \right\} = \text{ق(س)}$$

وبما أن ق متصل عند س = ١- ، ق(١-) = ١- × ٢ = ٢- ، ق(١-) = ١- ،
ق(١-) غير موجودة.

∴

ق(س) لا يحقق شروط نظرية القيمة المتوسطة على الفترة [١، ٢-].

∴

(لاحظ أن عدم تحقق أي من شرطي النظرية يعني عدم تحقق شروط النظرية).

وجود ج:

ثانياً:

بما أن شروط النظرية لم تتوافر فإنه لا يمكن من ذلك الجزم بعدم وجود ج التي تحددها

النظرية، وللبحث في ذلك نعود لمشتقة الاقتران:

$$\text{ق(ج)} = \frac{\text{ق(١)} - \text{ق(٢-)}}{(٢-) - ١} = \frac{٠ - ١}{٣} = \frac{١}{٣}$$

وحيث إن ق(س) = ٢س ، ١- > س > ١

∴ ق(ج) = ٢ج ، ١- > ج > ١

∴

$$\frac{١}{٣} = ٢ج \iff \frac{١}{٦} = ج \in [١-، ١]$$

ولا توجد ج $\exists [١-، ٢-]$.

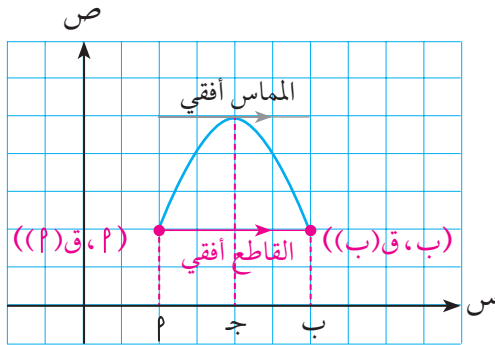
∴

∴ ج = $\frac{١}{٦}$ هي القيمة الوحيدة في الفترة [١-، ٢-] التي تحقق نتيجة النظرية.

كحالة خاصة من نظرية القيمة المتوسطة نذكر فيما يلي النظرية المسماة **نظرية رول** باسم العالم الرياضي الفرنسي ميشيل رول الذي كان له الفضل في صياغة النظرية في عام ١٦٩١ م.

نظرية رول (Rolle's Theorem):

إذا كان q (س) اقتراناً متصلاً على $[a, b]$ ، وقابلاً للاشتقاق على $]a, b[$ ، وكان $q(a) = q(b)$ ، فإنه يوجد عدد حقيقي واحد على الأقل $\xi \in]a, b[$ بحيث إن $q'(\xi) = 0$.



الشكل (٣-٣)

تؤكد النظرية أنه إذا كان q (س) اقتراناً متصلاً على $[a, b]$ وقابلاً للاشتقاق على $]a, b[$ ، وكان $q(a) = q(b)$ أي كان القاطع لمنحنى الاقتران عند النقطتين $(a, q(a))$ ، $(b, q(b))$ أفقياً، فإنه يوجد قيمة على الأقل ج في الفترة $]a, b[$ بحيث يكون المماس لمنحنى الاقتران عند النقطة $(\xi, q(\xi))$ أفقياً. انظر الشكل (٣-٣).

مثال (٤)

بين أن الاقتران q (س) = جاس + جتاس يحقق شروط نظرية رول على الفترة $[\pi/2, 0]$. ثم أوجد قيمة / قيم ج التي تحدها النظرية.

الحل:

أولاً: البحث في شروط النظرية:

ق متصل على $[\pi/2, 0]$ لأنه مجموع اقترانين متصلين على الفترة ذاتها.

ق قابل للاشتقاق على $[\pi/2, 0]$ لأنه مجموع اقترانين قابلين للاشتقاق على الفترة ذاتها.

$$q(0) = 0 + 0 = 0, \quad q(\pi/2) = (\pi/2) + 1 = 1$$

$$\text{أي أن } q(0) = q(\pi/2)$$

∴ ق يحقق شروط نظرية رول.

ثانياً: $q'(\xi) = 0$

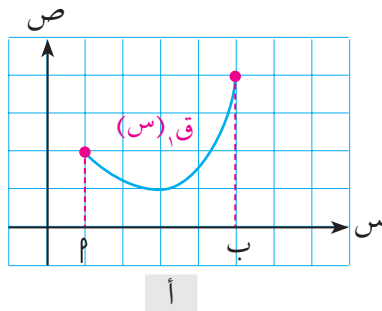
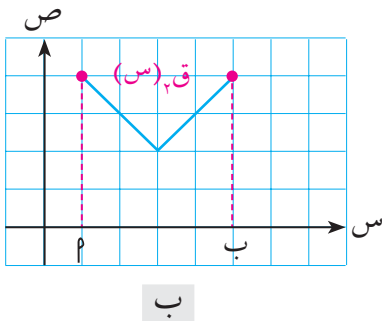
$$\text{وحيث إن } q'(\xi) = 0 \Rightarrow \text{جتاس} - \text{جاس} = 0, \text{ س} \in [\pi/2, 0]$$

$$\text{∴ } q'(\xi) = 0 \Rightarrow \text{جتاج} - \text{جاج} = 0, \text{ ج} > 0, \text{ ج} > \pi/2$$

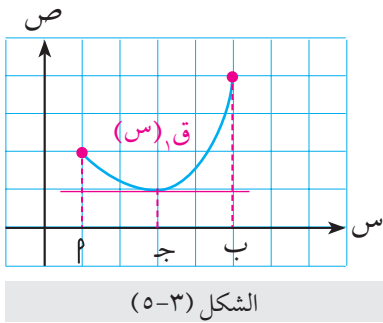
$$\begin{aligned} \therefore \text{ج} &= \text{جتاج} \\ \therefore \text{ظا} &= 1 \\ \therefore \text{ج} &= \frac{\pi}{4}, \frac{5\pi}{4} \in]\pi/2, \pi[\end{aligned}$$

مثال (5)

بين لماذا لا تتحقق شروط نظرية رول في كل من الاقترانين الممثلين في الشكل (3-4)، ثم عين في أي منهما توجد ج $\in]\pi/2, \pi[$ ، بحيث إن $ق(ج) = \text{صفر}$.



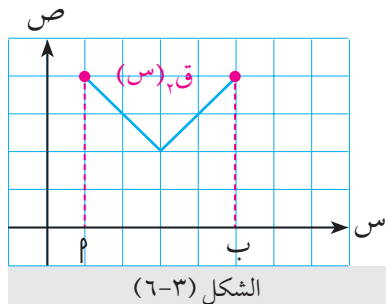
الشكل (3-4)



الشكل (3-5)

الاقتران $ق(س)$ لا يحقق شروط نظرية رول لأن $ق(ا) \neq ق(ب)$ ، ومع ذلك توجد ج $\in]\pi/2, \pi[$ ، بحيث إن $ق(ج) = \text{صفر}$.
لاحظ الشكل (3-5).

الحل:



الشكل (3-6)

الاقتران $ق(س)$ لا يحقق شروط نظرية رول لأنه غير قابل للاشتقاق على $]\pi/2, \pi[$. (لاحظ رأس الزاوية حيث لا يوجد مماس وحيد)، ولا توجد ج $\in]\pi/2, \pi[$ ، بحيث إن $ق(ج) = \text{صفر}$.
لاحظ الشكل (3-6).

مثال (٦)

أ

استخدم نظرية بلزانو لإثبات أن للمعادلة :

$$٦س^٥ + ١٣س + ١ = ٠ \text{ جذراً واحداً على الأقل في } \mathbb{C}.$$

ب

استخدم نظرية رول لإثبات أن الجذر وحيد .

الحل:

أ

ليكن ق(س) = $٦س^٥ + ١٣س + ١$ ، $س \in \mathbb{C}$.

$$ق(١-) = (١-) \times ٦ + (١-) \times ١٣ + ١ = ١٨- ، \text{ مقدار سالب}$$

$$ق(٠) = ١ ، \text{ مقدار موجب}$$

ق(س) متصل على $[٠، ١-]$ لأنه كثير حدود .

∴ تنطبق شروط نظرية بلزانو .

∴ توجد ج $\exists [١-، ٠]$ بحيث إن ق(ج) = ٠

أي أنه يوجد للمعادلة $٦س^٥ + ١٣س + ١ = ٠$ جذر واحد على الأقل في الفترة $[٠، ١-]$

لإثبات أن الجذر وحيد نفترض وجود جذرين ج_١، ج_٢ وأن ج_٢ > ج_١

ب

$$∴ ق(ج_١) = ق(ج_٢) = صفر$$

وحيث إن ق متصل على $[ج_١، ج_٢]$ وقابل للاشتقاق على $[ج_١، ج_٢]$ لأنه كثير حدود

∴ تنطبق شروط نظرية رول وينتج وجود عدد واحد على الأقل د $\exists [ج_١، ج_٢]$.

$$\text{بحيث إن ق(د) = ٠ ، لكن ق(س) = ٣٠س٤ + ١٣}$$

∴ $٣٠د٤ + ١٣ = ٠$ ، ولكن هذه المعادلة ليس لها حل في مجموعة الأعداد الحقيقية لأن

الطرف الأيمن موجب دائماً .

∴ لا توجد د $\exists [ج_١، ج_٢]$ بحيث ق(د) = ٠ ، وهذا يتناقض مع نظرية رول .

∴ الفرض بوجود جذرين ج_١، ج_٢ غير صحيح ؛ أي أن الجذر وحيد .

مثال (٧)

إذا كان ق(س) ، ك(س) اقترايين متصلين على $[٠، ١]$ وقابلين للاشتقاق على $[٠، ١]$ ، ب

وكان ق(٠) = ك(٠) ، ق(١) = ك(١) ، فأثبت وجود عدد واحد على الأقل

ج $\exists [٠، ١]$ ، ب[بحيث إن ق(ج) = ك(ج)] .

الحل: ✓

بتعريف الاقتران هـ(س) = ق(س) - ك(س) على $[p, b]$ ، يكون الاقتران هـ(س) متصلًا على $[p, b]$ لأنه فرق اقترانين متصلين، ويكون الاقتران هـ(س) قابلاً للاشتقاق على $[p, b]$ لأنه فرق اقترانين قابلين للاشتقاق.

$$\text{كذلك هـ}(p) = ق(p) - ك(p) = \text{صفر} ، \text{لأن } ق(p) = ك(p)$$

$$\text{وأيضاً هـ}(b) = ق(b) - ك(b) = \text{صفر} ، \text{لأن } ق(b) = ك(b)$$

$$\therefore \text{هـ}(p) = \text{هـ}(b)$$

تنطبق شروط نظرية رول على الاقتران هـ(س) في الفترة $[p, b]$

توجد $\xi \in [p, b]$ بحيث هـ'(\xi) = 0

$$\therefore ق'(\xi) - ك'(\xi) = 0$$

$$\therefore ق'(\xi) = ك'(\xi)$$

تمارين (١-٣)

١ بين أن كلاً من الاقترانات الآتية يحقق شروط نظرية القيمة المتوسطة على الفترة المعطاة، ثم عين قيمة/ قيم

ج التي تعينها النظرية في كل حالة :

أ $ق(س) = \sqrt{3س} - ٤س$ على الفترة $[١, ٤]$

ب $ق(س) = ٢جاس - جتا٢س$ على الفترة $[٠, \pi]$

ج $ق(س) = |س٢ - ٦س - ٢|$ على الفترة $[-١, ٢]$

٢ بين أن كلاً من الاقترانات الآتية يحقق شروط نظرية رول على الفترة المعطاة، ثم عين قيمة/ قيم ج التي

تعينها النظرية في كل حالة :

أ $ق(س) = س + \frac{١}{س}$ على الفترة $[\frac{١}{٢}, ٢]$

ب $ق(س) = جتاس$ على الفترة $[\frac{\pi}{٢}, \frac{٣\pi}{٢}]$

ج $ق(س) = \frac{س٢ - ١}{س - ٢}$ على الفترة $[-١, ١]$

٣ جد الثوابت $p, b, ج$ التي تجعل الاقتران $ق(س) = \left. \begin{array}{l} ٣ \\ -س٢ + ٣س + ج \\ پ + س + ب \end{array} \right\}$ ، $٠ = س$ ، $١ > س > ٠$ ، $٢ \geq س \geq ١$ ،

يحقق شروط نظرية القيمة المتوسطة على الفترة [٠ ، ٢].

٤ ليكن $ق(س) = |٢س - ١| - ٣$

أ أي من شروط نظرية رول يحققها الاقتران ق على الفترة [١- ، ٢]؟

ب هل توجد ج \exists [١- ، ٢] بحيث $ق(ج) = ٠$ ؟

٥ ليكن $ق(س) = \begin{cases} ٦ + س٤ - س٢ ، & س < ١ \\ ٧ - س٤ ، & س \geq ١ \end{cases}$

أ أي من شروط نظرية رول يحققها الاقتران ق في الفترة [١- ، ٥]؟

ب هل توجد ج \exists [١- ، ٥] بحيث إن $ق(ج) = ٠$ ؟

ج هل تتعارض الإجابات في (أ) ، (ب) مع نظرية رول؟ لماذا؟

٦ أثبت أن للمعادلة : $س٣ + ٩س٢ + ٣٣س - ٨ = ٠$ جذراً حقيقياً واحداً فقط .

٧ أثبت أنه لا يمكن أن يكون للمعادلة $س٦ + ٧س٤ + ١٠٠س٢ - ١٠٠ = ٠$ أكثر من جذرين حقيقيين مختلفين .

٨ إذا كان ١ ، $ب$ عددين حقيقيين فاستخدم نظرية القيمة المتوسطة على الاقتران $ق(س) = س٣$ معرفاً على

$[١ ، ٢]$ لإثبات وجود عدد حقيقي واحد على الأقل ج \exists ١ ، $ب$ بحيث $١ + ٢ + ٣ = ٣ج٢$

٩ إذا كان $ق(س)$ اقتراناً كثير حدود، وكان $ق(١) = ق(ب) = ق(ج)$ حيث $١ > ج > ب$ فأثبت وجود عدد

حقيقي واحد على الأقل د \exists ١ ، $ب$] بحيث $ق(د) = ٠$.

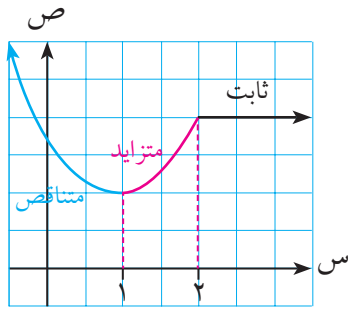
١٠ $ق(س)$ اقتران كثير حدود يمر بمنحناه بالنقاط (١ ، ٣) ، (٢ ، ٥) ، (٣ ، ١) .

أ أثبت وجود عدد واحد على الأقل ج \exists الفترة [١ ، ٢] بحيث $ق(ج) < ٠$

ب أثبت وجود عدد واحد على الأقل ج \exists الفترة [٢ ، ٣] بحيث $ق(ج) > ٠$

ج أثبت وجود عدد واحد على الأقل ج \exists الفترة [١ ، ٣] بحيث $ق(ج) = ٠$

٢-٣ الاقترانات المتزايدة والمتناقصة (Increasing and Decreasing Functions)



الشكل (٧-٣)

سوف نستخدم كلمات متزايد، ومتناقص، وثابت، لوصف سلوك منحنى الاقتران $ق(س)$ على مجاله عندما تتحرك نقطة على منحناه من اليسار إلى اليمين، فمثلاً الاقتران $ق(س)$ الممثل بيانياً بالشكل (٧-٣) يقال إنه متناقص على الفترة $[-\infty, 1]$ ، ومتزايد على الفترة $[1, \infty]$ وثابت على $[2, \infty]$.
التعريف التالي يصف رياضياً معنى التزايد والتناقص للاقتران $ق(س)$.

تعريف:

يقال إن الاقتران $ق(س)$ المعروف على الفترة $ف$:

١ متزايد على $ف$ إذا تحقق الشرط التالي:

لجميع $س_1, س_2 \in ف$ ، إذا كان $س_1 < س_2$ فإن $ق(س_1) < ق(س_2)$

٢ متناقص على $ف$ إذا تحقق الشرط التالي:

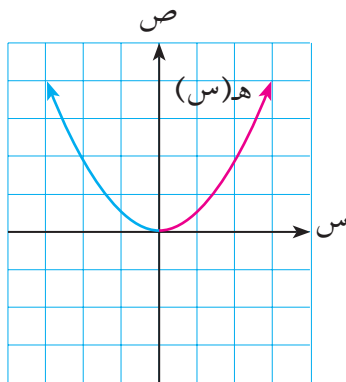
لجميع $س_1, س_2 \in ف$ ، إذا كان $س_1 < س_2$ فإن $ق(س_1) > ق(س_2)$

٣ ثابت على $ف$ إذا تحقق الشرط التالي:

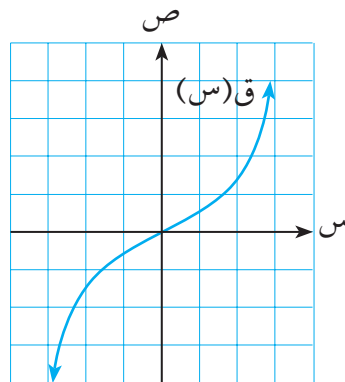
لجميع $س_1, س_2 \in ف$ ، $ق(س_1) = ق(س_2)$

مثال (١)

حدد مجالات التزايد والتناقص للاقترانين الممثلين بيانياً في الشكلين (٨-٣)، (٩-٣):



الشكل (٩-٣)

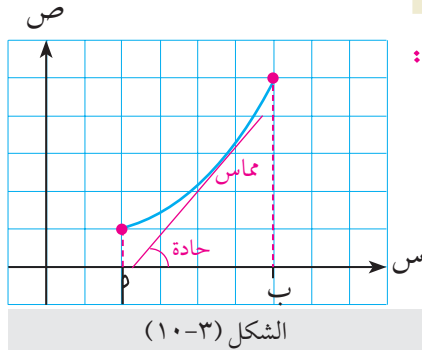


الشكل (٨-٣)

الحل:

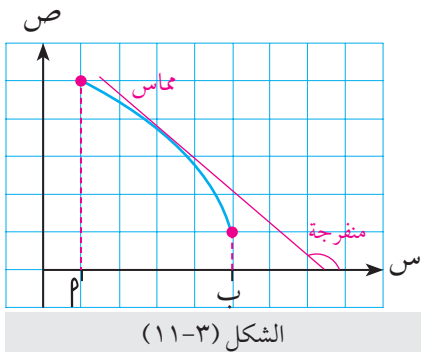
من التمثيل البياني لكل من الاقترانين ق(س) ، هـ (س) نلاحظ أن :

- أ الاقتران ق(س) متزايد على \mathbb{R} .
 ب الاقتران هـ (س) متناقص على الفترة $]-\infty, 0[$ و متزايد على الفترة $]0, \infty[$.

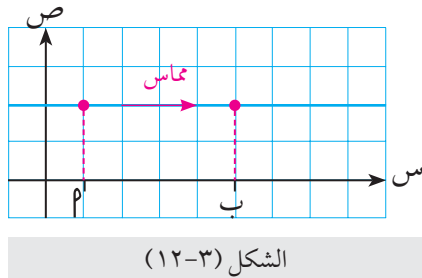


اختبار المشتقة الأولى للاقترانات المتزايدة والمتناقصة:

نلاحظ في الشكل (١٠-٣) اقتراناً متزايداً على $]أ, ب[$ ، وأن المماس للمنحنى عند أية نقطة $أ \in]أ, ب[$ ، يصنع زاوية حادة مع الاتجاه الموجب لمحور السينات ، أي أن ميل المماس يكون موجباً .



ونلاحظ في الشكل (١١-٣) اقتراناً متناقصاً على الفترة $]أ, ب[$ ، وأن المماس للمنحنى عند أية نقطة $أ \in]أ, ب[$ ، يصنع زاوية منفرجة مع الاتجاه الموجب لمحور السينات ، أي أن ميل المماس يكون سالباً .



بينما نلاحظ في الشكل (١٢-٣) اقتراناً ثابتاً على الفترة $]أ, ب[$ ، وأن المماس للمنحنى عند أية نقطة $أ \in]أ, ب[$ ، يكون أفقياً ، أي أن $ق'(س) = 0$.

وهذا يعني أن إشارة المشتقة الأولى للاقتران تحدد طبيعة هذا الاقتران متزايداً أو متناقصاً أو ثابتاً ، وهذا هو مضمون النظرية التالية :

نظرية:

إذا كان ق(س) اقتراناً متصللاً على $]أ, ب[$ وقابلاً للاشتقاق على $]أ, ب[$ فإنه :

- ١ إذا كانت $ق'(س) < 0$ لجميع $س \in]أ, ب[$ فإن ق(س) اقتران متزايد على $]أ, ب[$.
- ٢ إذا كانت $ق'(س) > 0$ لجميع $س \in]أ, ب[$ فإن ق(س) اقتران متناقص على $]أ, ب[$.
- ٣ إذا كانت $ق'(س) = 0$ لجميع $س \in]أ, ب[$ فإن ق(س) اقتران ثابت على $]أ, ب[$.

مثال (٢)

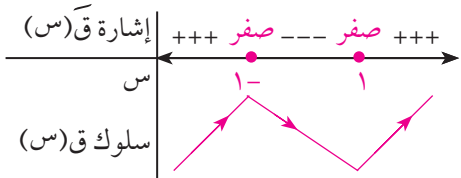
عين فترات التزايد والتناقص للاقتران ق(س) = س^٣ - ٣س^٢ + ٢س ، س ∈ ℝ

الحل:

ق(س) اقتران كثير حدود فهو متصل وقابل للاشتقاق على ℝ

$$ق(س) = س^٣ - ٣س^٢ + ٢س$$

نبحث في إشارة ق'(س):



الشكل (٣-١٣)

$$ق'(س) = ٣س^٢ - ٦س + ٢ = ٠ \text{ عندما } س = ١, -١$$

الشكل (٣-١٣) يبين إشارة ق'(س)

بما أن ق'(س) موجبة عندما س < ١ أو س > ١ -

ق(س) متزايد على الفترة [١، ∞)

∴

وكذلك على الفترة]-∞، ١-

وبما أن ق'(س) سالبة عندما ١ > س > -١ -

ق(س) متناقص على الفترة]-١، ١-.

∴

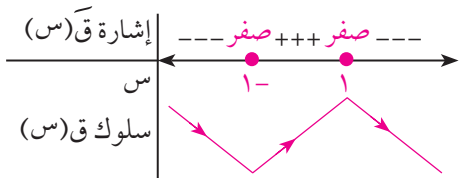
مثال (٣)

عين فترات التزايد والتناقص للاقتران ق(س) = $\frac{س}{١ + ٢س}$ على مجاله .

الحل:

ق(س) اقتران نسبي مقامه موجب دائماً فهو متصل على ℝ

$$ق(س) = \frac{س(١ + ٢س) - (١ + ٢س)س}{٢(١ + ٢س)}$$



الشكل (٣-١٤)

$$= \frac{٢س - ١}{٢(١ + ٢س)}$$

الشكل (٣-١٤) يبين إشارة ق'(س)

ق(س) > ٠ في الفترة]-∞، ١-

وكذلك على الفترة [١، ∞)

ق(س) متناقص على الفترة]-∞، ١-

∴

ق(س) < ٠ في الفترة [١، ∞)

ق(س) متزايد على الفترة]-١، ١-.

∴

مثال (٤)

بين أن الاقتران ق(س) = س + جتاس متزايد على الفترة $[0, \pi]$.

الحل:

ق(س) متصل على $[0, \pi]$ لأنه مجموع اقترانين متصلين.

ق(س) قابل للاشتقاق على $[0, \pi]$ لأنه مجموع اقترانين قابلين للاشتقاق

$$ق(س) = 1 + جتاس$$

نبحث في إشارة ق'(س):

$$ق'(س) = 0 \text{ عندما } 1 + جتاس = 0$$

$$\text{عندما جتاس} = -1 \text{ أي عندما } س = \pi$$

بما أن $1 - جتاس > 1$ لكل $س \in [0, \pi]$

فإنه بإضافة 1 لحدود المتباينة تصبح: $1 + جتاس > 0$

أي أن ق'(س) يكون موجباً في $[0, \pi]$

الشكل (٣-١٥) يبين إشارة ق'(س)

ق(س) متزايد على $[0, \pi]$.

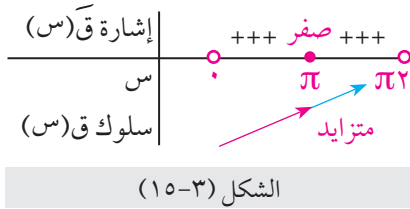
∴

وبالمثل ق(س) يكون موجباً في الفترة $[\pi, 2\pi]$,

ق(س) متزايد على $[\pi, 2\pi]$.

∴

وحيث إن ق(س) متصل عند $س = \pi$ فإن ق(س) متزايد على $[0, 2\pi]$.



الشكل (٣-١٥)

مثال (٥)

يمثل الشكل (٣-١٦) منحنى ق(س)

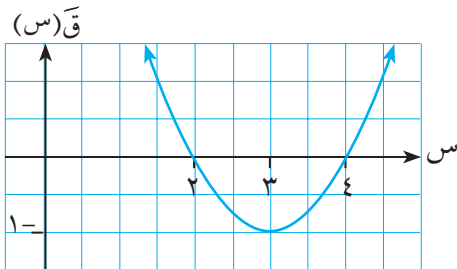
لاقتران ق(س) كثير حدود:

عين فترات التزايد و التناقص للاقتران ق(س)

أوجد مجموعة حل المتباينة ق'(س) > 0

أ

ب



الشكل (٣-١٦)

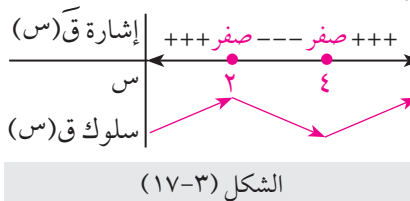
ق(س) متصل وقابل للاشتقاق على \mathbb{R} لأنه كثير حدود.

يبين الشكل (٣-١٧) إشارة ق'(س) على \mathbb{R}

من الشكل نلاحظ أن ق'(س) < 0

الحل:

أ



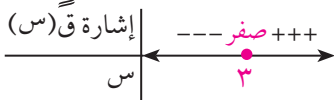
الشكل (٣-١٧)

عندما $s > 2$ أو $s < 4$

∴ ق(س) متزايد على الفترة $[-2, \infty)$ وكذلك على الفترة $[\infty, 4]$

كذلك نلاحظ من الشكل أن ق(س) > 0 عندما $2 > s > 4$

∴ ق(س) متناقص على الفترة $[4, 2]$



الشكل (٣-١٨)

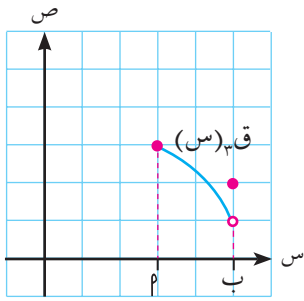
ب بين الشكل (٣-١٨) إشارة ق(س) على ح

ق(س) > 0 عندما $s > 3$ لأن ق متناقص في هذه الفترة.

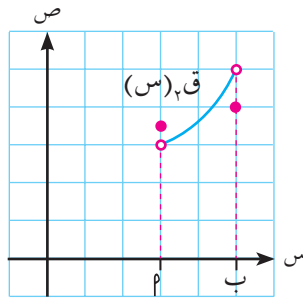
∴ مجموعة حل المتباينة ق(س) > 0 هي $[-3, \infty)$.

ملاحظة:

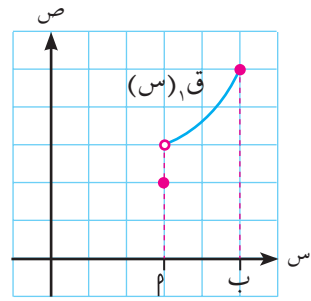
إذا لم يكن الاقتران ق(س) متصلاً عند أحد طرفي الفترة $[p, b]$ أو كليهما، وكانت ق(س) < 0 مثلاً في الفترة $[p, b]$ ، فإن ق(س) يكون متزايداً على $[p, b]$ ؛ أما إذا كانت ق(س) > 0 في الفترة $[p, b]$ فإن ق(س) يكون متناقصاً في $[p, b]$.
وفيما يتعلق باشتغال مجالات التزايد أو التناقص للاقتران ق(س) على أحد الطرفين أو كليهما فإنه يمكن العودة للتعريف والتمثيل البياني لمنحنى الاقتران ق(س)، لاحظ الشكل (٣-١٩).



ق(س) متناقص على $[p, b]$



ق(س) متزايد على $[p, b]$



ق(س) متزايد على $[p, b]$

الشكل (٣-١٩)

مثال (٦)

$$\left. \begin{array}{l} 1 - s \geq s > 1 \\ s = 1 \end{array} \right\} = \text{إذا كان ق(س)}$$

فعين فترات التزايد والتناقص للاقتران ق(س) على مجاله .

الحل:

نعيد تعريف الاقتران كما يلي :

$$\left. \begin{array}{l} s^2 + 2s \\ s^2 - 2s \\ s = 1 \end{array} \right\} = \text{ق(س)}$$

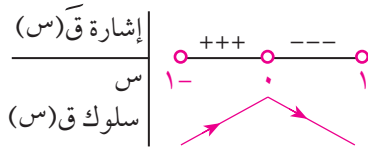
الاقتران ق(س) متصل عند $s = 0$ (لماذا؟)

$$\left. \begin{array}{l} 1 - s > s > 0 \\ 1 > s > 0 \end{array} \right\} = \text{ق(س)}$$

$$\text{ق(0)} = 2 = - \text{ق(0)}$$

∴ ق(0) غير موجودة

إشارة ق(س):



الشكل (٣-٢٠)

الشكل (٣-٢٠) يبين إشارة ق(س)

ق(س) < 0 في الفترة [-١ ، ٠]

∴ ق(س) متزايد في الفترة [-١ ، ٠]

ق(س) > 0 في الفترة [٠ ، ١]

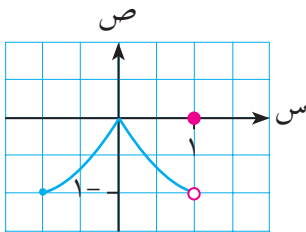
∴ ق(س) متناقص في الفترة [٠ ، ١]

لاحظ أن ق(س) غير متصل عند النقطة الطرفية

حيث $s = 1$ ، لذا نعلم التمثيل البياني لمنحنى الاقتران

كما هو في الشكل (٣-٢١) ، ونلاحظ أن

$s = 1$ لا تضاف إلى فترة التناقص [٠ ، ١] .



الشكل (٣-٢١)

١ عين فترات التزايد و التناقص لكل من الاقتران الآتية :

أ ق(س) = $s^3 - 3s^2 + 6$

ب ق(س) = $|s^2 - 4|$

ج ق(س) = جتا^٢س ، س $\in]0, \pi[$

٢ إذا كان ق(س) ، ك(س) اقترانين بحيث ق(س) < ك(س) لجميع س $\in]0, \pi[$.

فبين أن الاقتران ق(س) - ك(س) متزايد على $]0, \pi[$.

٣ إذا كان ق(س) ، ك(س) اقترانين بحيث ق(س) = ك(س) لجميع س $\in]0, \pi[$.

فبين أن ق(س) = ك(س) + ج ، حيث ج ثابت.

٤ ق(س) ، ه(س) كثيرا حدود معرفان على $[1, 6]$ حيث ه(س) $\neq 0$ لجميع قيم س $\in]1, 6[$ ، إذا كان

منحنيا ق(س) ، ه(س) يقعان في الربع الأول، وكان ق(س) متزايداً في مجاله وكان ه(س) متناقصاً في مجاله ، فأثبت أن $(\frac{ق}{ه})$ (س) متزايد في $[1, 6]$.

٥ أثبت أن الاقتران ق(س) = ظاس - س متزايد على الفترة $[\frac{\pi}{4}, 0]$.

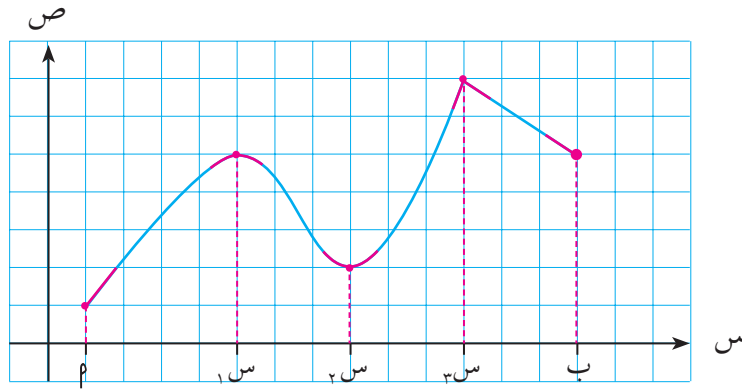
من ذلك أثبت أن ظاس \leq س على الفترة $[\frac{\pi}{4}, 0]$.

٦ عين مجالات التزايد و التناقص للاقتران :

$$ق(س) = \left. \begin{array}{l} 1 - s \geq 0 \\ s^2 \geq 0 \end{array} \right\} \text{ ، } \left. \begin{array}{l} 1 \geq s \geq 0 \\ s - [s] \geq 0 \end{array} \right\}$$

درسنا في البند السابق تزايد الاقترانات وتناقصها، وسنجد في هذا البند أن النقاط الواقعة على منحنى الاقتران، والتي يغير عندها المنحنى سلوكه من متزايد إلى متناقص، أو بالعكس من متناقص إلى متزايد، هي نقاط أساسية تساعد كثيراً في رسم الشكل العام لمنحنى الاقتران، وتعرف خصائصه؛ كما أنها نقاط يتخذ الاقتران عندها على وجه العموم قيمة عظمى أو صغرى؛ وبالتالي فهي ذات أهمية خاصة في كثير من التطبيقات العملية كما سنرى لاحقاً.

القيم القصوى المحلية والمطلقة:



الشكل (٣-٢٢)

يبين الشكل (٣-٢٢) المرسوم في أعلاه منحنى الاقتران $q(x)$ (س) المعروف على الفترة $[a, b]$. نلاحظ أن قيمة الاقتران عند s_1 أكبر من أي قيمة أخرى للاقتران لجميع قيم s المجاورة لـ s_1 والقريبة قريباً كافياً منها، لذلك نقول إن للاقتران $q(x)$ قيمة عظمى محلية عند s_1 هي $q(s_1)$ ؛ بالمثل يكون للاقتران $q(x)$ قيمة عظمى محلية عند $s = s_3$ ، وبما أن القيمة العظمى المحلية $q(s_3)$ أكبر من قيمة الاقتران لجميع قيم s في مجال الاقتران فإنها تسمى أيضاً قيمة عظمى مطلقة للاقتران.

ويبين الشكل أيضاً أن قيمة الاقتران عند s_2 أصغر من أي قيمة أخرى للاقتران لجميع قيم s المجاورة لـ s_2 والقريبة قريباً كافياً منها، ولذلك نقول إن للاقتران $q(x)$ قيمة صغرى محلية عند $s = s_2$ هي $q(s_2)$. بالمثل يكون للاقتران قيمتان صغريتان محليتان عند كل من $s = a$ ، $s = b$ هما $q(a)$ ، $q(b)$ على الترتيب، وحيث إن القيمة الصغرى المحلية $q(a)$ هي أصغر قيمة للاقتران لجميع قيم s في مجاله فإنها تسمى قيمة صغرى مطلقة للاقتران.

تعريف:

ليكن $Q(s)$ اقتراناً معرفاً على المجال E ، ولتكن $J \ni E$. يقال إنه:

- ١ يوجد للاقتران $Q(s)$ قيمة عظمى محلية عند $s = J$ هي $Q(J)$ إذا وجدت فترة مفتوحة F تحتوي على J ، بحيث إن $Q(J) \leq Q(s)$ لجميع $s \in (F \cap E)$.
 - ٢ يوجد للاقتران قيمة صغرى محلية عند $s = J$ هي $Q(J)$ إذا وجدت فترة مفتوحة F تحتوي على J ، بحيث إن $Q(J) \geq Q(s)$ لجميع $s \in (F \cap E)$.
 - ٣ يوجد للاقتران قيمة عظمى مطلقة عند $s = J$ هي $Q(J)$ إذا كانت $Q(J) \leq Q(s)$ لجميع $s \in E$.
 - ٤ يوجد للاقتران قيمة صغرى مطلقة عند $s = J$ هي $Q(J)$ إذا كانت $Q(J) \geq Q(s)$ لجميع $s \in E$.
- تسمى كل من القيم العظمى والقيم الصغرى المحلية كانت أو مطلقة للاقتران قيماً قصوى له.

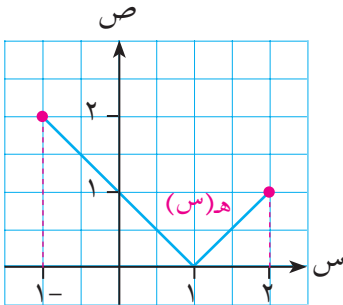
ومن الملاحظ أن كل قيمة قصوى مطلقة هي قيمة قصوى محلية، ولكن العكس غير صحيح.

مثال (١)

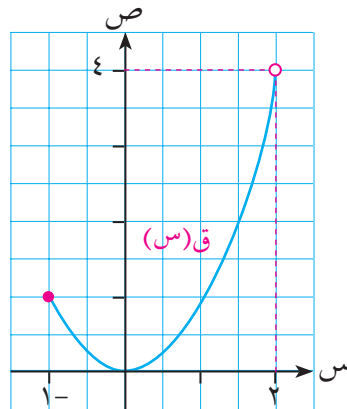
$$\text{ليكن } Q(s) = s^2, \quad -1 \leq s < 2$$

$$\text{هـ } Q(s) = |s - 1|, \quad -1 \leq s \leq 2$$

استخدم التمثيل البياني لكلٍ من الاقترانين في إيجاد القيم القصوى المحلية والمطلقة لهما (إن وجدت). ثم عين المشتقة الأولى عند نقطة / نقط القيمة القصوى (إن وجدت).



الشكل (٣-٢٤)



الشكل (٣-٢٣)

المحل:

أولاً:

الاقتران ق(س): لاحظ الشكل (٣-٢٣)

للاقتزان ق(س) قيمة عظمى محلية عند $s = 1$ ، وهي ق(١-) = ١
ق(١-) غير موجودة لأن $s = 1$ تمثل نقطة طرفية؛ ولا يوجد للاقتزان ق(س) قيمة عظمى مطلقة .

للاقتزان ق(س) قيمة صغرى محلية ومطلقة عند $s = 0$ ، وهي ق(٠) = ٠
ق(٠) = (٠) (تحقق من ذلك) .

ثانياً:

الاقتران ه(س): لاحظ الشكل (٣-٢٤)

للاقتزان ه(س) قيمتان عظيميان محليتان عند $s = 1$ ، $s = 2$ هما ه(١-) = ٢ ،
ه(٢) = ١ ، المشتقة عند كلٍ منهما غير موجودة لأنهما تمثلان نقطتين طرفيتين ، والقيمة العظمى المحلية ه(١-) = ٢ هي قيمة عظمى مطلقة أيضاً .

للاقتزان ه(س) قيمة صغرى محلية ومطلقة عند $s = 1$ ، وهي ه(١) = ٠
حيث ه(١) غير موجودة . (تحقق من ذلك) .

استخدام المشتقة الأولى في تعيين القيم القصوى المحلية:

إن التمثيل البياني لأي اقتزان على مجاله يساعد في تحديد نقط القيم القصوى المحلية للاقتزان ، ولكن ماذا عن المشتقة؟

لاحظنا مما سبق أن القيم القصوى توجد عند نقط داخلية حيث المشتقة عندها تساوي صفرًا أو تكون غير موجودة ، أو عند طرفي فترة تعريف الاقتزان حيث المشتقة غير موجودة . تسمى أمثال هذه النقط نقطاً حرجة .

تعريف:

تسمى النقطة (ح ، ق(ج)) ، حيث ج تنتمي إلى مجال ق(س) ، نقطة حرجة للاقتزان ق(س) إذا كانت ق(ج) = ٠ ، أو ق(ج) غير موجودة .

مثال (٢)

عين جميع النقط الحرجة للاقتران ق(س) = $\frac{1}{3}س^3 - 3س^2 + 8س + 2$ ، س \in ع.

حيث إن ق(س) اقتران كثير حدود معرف على ع فإن النقط الحرجة هي النقط حيث المشتقة الأولى = صفرًا.

$$ق(س) = 3س^2 - 6س + 8$$

$$ق(س) = 0 \iff 3س^2 - 6س + 8 = 0$$

$$\iff س = 2 ، 4$$

النقطتان الحرجتان هما: (٢، ق(٢)) ، (٤، ق(٤))، أي (٢، $\frac{26}{3}$) ، (٤، $\frac{22}{3}$)

الحل:

مثال (٣)

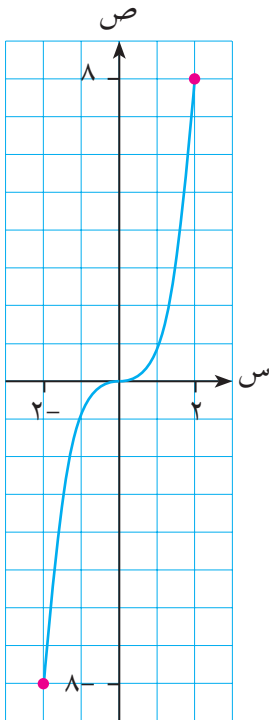
ليكن ق(س) = $س^3 - 2س - 2$ ، $س \geq -2$ ، $س \leq 2$

عين جميع النقط الحرجة للاقتران ق(س).

ارسم منحنى ق(س)، ومن الرسم عين نوع كل نقطة من النقط الحرجة التي وجدتها في القسم أ من حيث كونها قيماً قصوى أو غير ذلك.

أ

ب



الشكل (٣-٢٥)

$$ق(س) = 3س^2 - 2$$

$$ق(س) = 0 \iff 3س^2 - 2 = 0 \iff س = \pm \sqrt{\frac{2}{3}}$$

ق(س) غير موجودة عند طرفي المجال أي عند $س = -2$ ، $س = 2$

النقط الحرجة هي: $(-2، ق(-2))$ ، $(0، ق(0))$ ، $(2، ق(2))$

من الشكل (٣-٢٥) نلاحظ أنه:

عند النقطة الحرجة $(-2، ق(-2)) = (-2، -8)$

يوجد قيمة صغرى محلية وهي مطلقة أيضاً.

وعند النقطة الحرجة $(2، ق(2)) = (2، 2)$

يوجد قيمة عظمى محلية وهي مطلقة أيضاً.

بينما لا يوجد للاقتران أية قيمة قصوى

عند النقطة الحرجة $(0، ق(0)) = (0، -2)$

الحل:

اختبار المشتقة الأولى لتعيين القيم القصوى المحلية

وجدنا في الأمثلة السابقة أن القيم القصوى المحلية لا توجد إلا عند النقط الحرجة للاقتران؛ ولكن لم تكن كل نقطة حرجة نقطة قيمة قصوى، راجع مثال (٣)؛ فمتى إذن تكون النقطة الحرجة للاقتران نقطة قيمة قصوى له؟ الاختبار الآتي هو إحدى طرق الإجابة عن هذا السؤال.

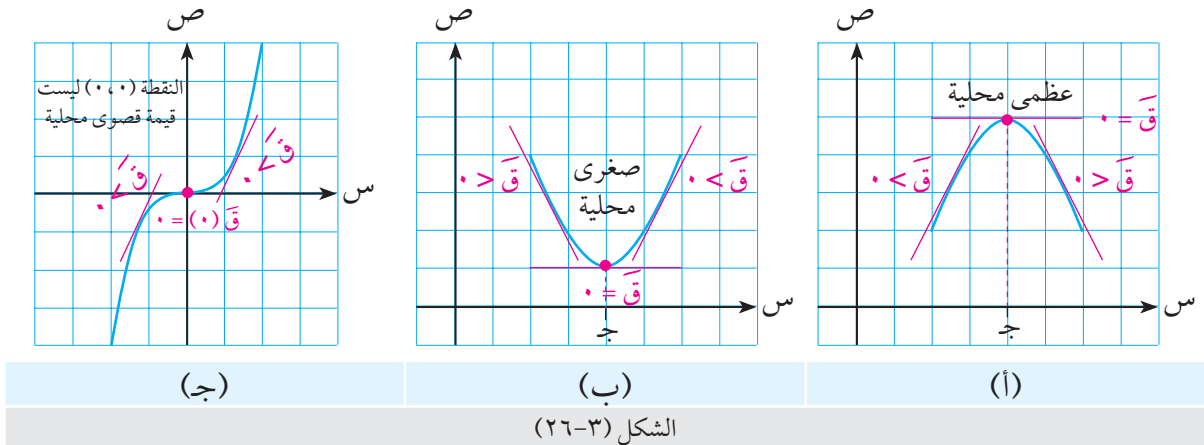
نظرية (اختبار المشتقة الأولى):

إذا كانت (ج، ق) نقطة حرجة داخلية للاقتران ق(س) المتصل عند ج، ووجدت فترة مفتوحة حول ج بحيث:

١ ق(س) < ق(ج) عندما س > ج، ق(س) > ق(ج) عندما س < ج، فإن ق(ج) قيمة عظمى محلية.

٢ ق(س) > ق(ج) عندما س > ج، ق(س) < ق(ج) عندما س < ج، فإن ق(ج) قيمة صغرى محلية.

لاحظ أنه إذا لم يحدث تغير في إشارة المشتقة الأولى على جانبي ج فإنه لا يوجد للاقتران ق(س) قيمة قصوى محلية عند ج. انظر الشكل (٣-٢٦).



مثال (٤)

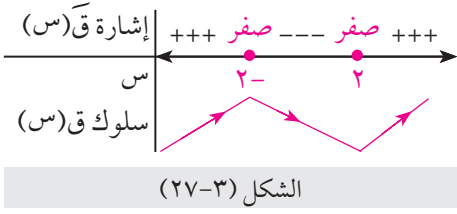
إذا كان ق(س) = س^٣ - ١٢س - ٥، س ∈ ℝ فعين القيمة / القيم القصوى المحلية للاقتران ق(س) مستخدماً اختبار المشتقة الأولى.

الحل:

أولاً: النقط الحرجة: ق'(س) = ٠ ⇔ س^٣ - ١٢ = ٠

⇔ س = ٢ أو س = -٢

لدينا نقطتان حرجتان هما: $(2, (2))$ ، $(2-, (2-))$ ،
أي $(2, (2-))$ ، $(2-, (2))$



ثانياً: إشارة ق(س):

الشكل (٢٧-٣) يبين إشارة ق(س)

ثالثاً: اختبار المشتقة الأولى:

ق(س) متصل عند $s = 2-$ لأنه كثير حدود

وفي جوار $s = 2-$ تتغير إشارة ق(س) من موجبة قبل $s = 2-$ إلى سالبة بعد $s = 2-$

∴ ق(2-) = 11 قيمة عظمى محلية.

ق(س) متصل عند $s = 2$ لأنه كثير حدود

وفي جوار $s = 2$ تتغير إشارة ق(س) من سالبة قبل $s = 2$ إلى موجبة بعد $s = 2$

∴ ق(2) = 21- قيمة صغرى محلية.

مثال (٥)

إذا كان ق(س) = $|s^2 - 1|$ ، $s \in \mathbb{R}$ فعين القيمة/ القيم القصوى المحلية للاقتران وذلك باستخدام اختبار المشتقة الأولى.

الحل:

أولاً: النقط الحرجة:

$$\left. \begin{array}{l} s^2 - 1 \geq 0 \text{ ، } \\ s^2 - 1 \leq 0 \text{ ، } \end{array} \right\} \text{ق(س) = } \left. \begin{array}{l} s^2 - 1 \geq 0 \text{ ، } \\ s^2 - 1 \leq 0 \text{ ، } \end{array} \right\}$$

$$\left. \begin{array}{l} s^2 > 1 \text{ ، } \\ s^2 < 1 \text{ ، } \\ s^2 = 1 \text{ ، } \end{array} \right\} \text{ق(س) = } \left. \begin{array}{l} s^2 > 1 \text{ ، } \\ s^2 < 1 \text{ ، } \\ s^2 = 1 \text{ ، } \end{array} \right\} \Leftrightarrow$$

$$\text{ق(س) = } \left. \begin{array}{l} s^2 > 1 \text{ ، } \\ s^2 = 1 \text{ ، } \end{array} \right\} \Leftrightarrow \text{ق(س) = } \left. \begin{array}{l} s^2 > 1 \text{ ، } \\ s^2 = 1 \text{ ، } \end{array} \right\} \Leftrightarrow$$

ق(س) غير موجودة عند $s = 1$

∴ النقاط الحرجة هي النقاط حيث $s = 1, 0, -1$

ثانياً: إشارة المشتقة الأولى:

الشكل (٣-٢٨) يبين إشارة ق(س)

ثالثاً: اختبار المشتقة الأولى:

النقطة الحرجة حيث $s = -1$ **أ**

الاقتران ق متصل عند $s = -1$

وتغيرت إشارة ق(س) من سالبة إلى موجبة

∴ ق(س) = ٠ قيمة صغرى محلية.

النقطة الحرجة حيث $s = 0$ **ب**

الاقتران ق متصل عند $s = 0$

وتغيرت إشارة ق(س) من موجبة إلى سالبة

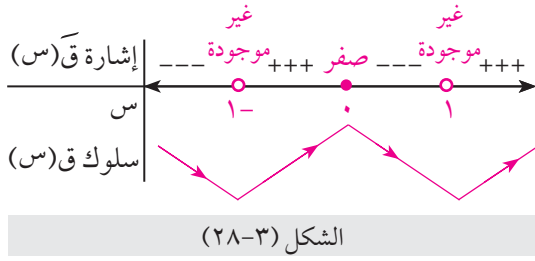
∴ ق(س) = ١ قيمة عظمى محلية.

النقطة الحرجة عند $s = 1$ **ج**

الاقتران ق متصل عند $s = 1$

وتغيرت إشارة ق(س) من سالبة إلى موجبة

∴ ق(س) = ٠ قيمة صغرى محلية.

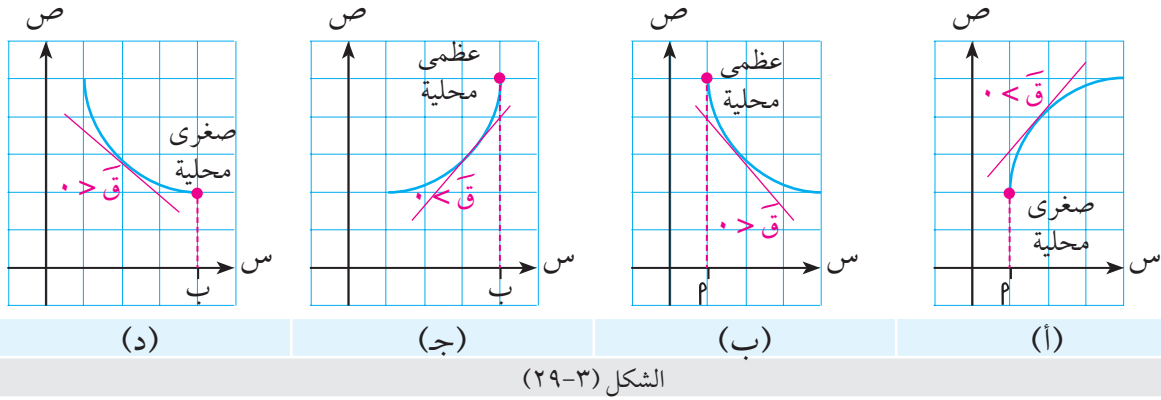


ملاحظة:

في حالة النقاط الحرجة الطرفية، إذا كانت $(P, C(P))$ نقطة طرفية (يسرى مثلاً) وكان الاقتران ق(س) متصلاً من اليمين عندها، وكانت إشارة ق(س) موجبة لجميع قيم س القريبة من P وعلى يمينها، فإن ق(P) تكون قيمة صغرى محلية؛ أما إذا كانت ق(س) سالبة فإن ق(P) قيمة عظمى محلية. انظر الشكل (٣-٢٩: أ، ب).

وبطريقة ماثلة تختبر النقطة الطرفية اليمنى ب، انظر الشكل (٣-٢٩: ج، د).

أما إذا كان ق(س) غير متصل عند نقطة حرجة طرفية، فإنه يمكننا استخدام الرسم البياني لمنحنى الاقتران للبحث في القيم القصوى.



الشكل (٣-٢٩)

مثال (٦)

$$\left. \begin{array}{l} \text{ليكن } q(s) = \begin{cases} s^2 - 1, & s \geq 1 \\ s^2, & s < 1 \end{cases} \end{array} \right\}$$

عين القيمة/ القيم القصوى المحلية للاقتزان $q(s)$ على مجاله .

الحل:

أولاً:

النقط الحرجة:

$$q'(s) = 2s = 0, \quad -1 < s < 1, \quad 2 > s$$

$$q'(s) = 0 = 2s \text{ عندما } s = 0 \text{ ومنها } s = 0$$

$$q'(s) \text{ غير موجودة عند النقطتين الطرفيتين حيث } s = -1, 2$$

النقط الحرجة هي النقط الواقعة على منحنى $q(s)$

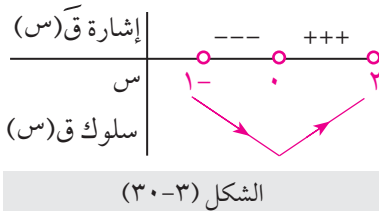
∴

$$\text{حيث } s = -1, 0, 2$$

ثانياً:

إشارة $q'(s)$:

الشكل (٣-٣٠) يبين إشارة $q'(s)$



الشكل (٣-٣٠)

ثالثاً:

اختبار المشتقة الأولى:

$$\text{النقطة الحرجة حيث } s = -1$$

أ

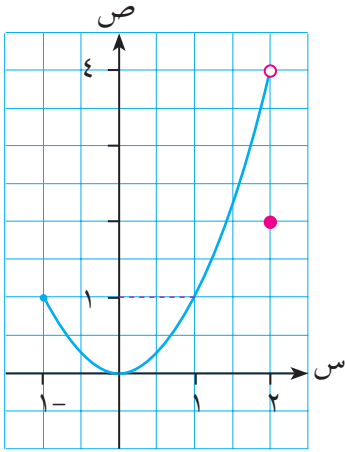
q متصل من جهة اليمين عند النقطة الطرفية حيث $s = -1$

$$q'(s) > 0 \text{ على يمين } s = -1$$

∴ $(-1, q(-1)) = (-1, 1)$ نقطة قيمة عظمى محلية .

ب النقطة الحرجة حيث $s = 0$

ق متصل عند $s = 0$ ، وتتغير إشارة $Q(s)$ من سالبة إلى موجبة
∴ $(0, 0) = Q(0)$ نقطة قيمة صغرى محلية .



الشكل (٣-٣١)

ج النقطة الحرجة حيث $s = 2$

ق غير متصل عند $s = 2$

لا يمكن الجزم باستخدام المشتقة الأولى ∴

بوجود قيمة قصوى عند $s = 2$

وبالرجوع إلى التمثيل البياني لمنحنى $Q(s)$

كما هو في الشكل (٣-٣١) ، نلاحظ أن :

النقطة الحرجة $(2, 2) = Q(2)$

هي نقطة قيمة صغرى محلية .

للاتصال على فترة مغلقة $[a, b]$ أهمية خاصة في دراسة القيم القصوى المطلقة للاقتانات والنظرية التالية

توضح ذلك :

نظرية القيم القصوى المطلقة:

إذا كان $Q(s)$ اقتراناً متصلاً على الفترة المغلقة $[a, b]$ فإن $Q(s)$ يتخذ قيمة عظمى مطلقة وقيمة صغرى مطلقة على $[a, b]$.

في هذه الحالة ، أي عندما يكون الاقتران متصلاً على فترة مغلقة ، يكفي لتعيين القيم القصوى المطلقة أن نعين جميع النقط الحرجة أولاً ، ثم نقارن قيم الاقتران عندها ؛ فتكون أكبرها هي القيمة العظمى المطلقة ، وتكون أصغرها هي القيمة الصغرى المطلقة .

مثال (٧)

عين القيم القصوى المطلقة للاقتران $Q(s) = s^2 - 6s + 9$ حيث $0 \leq s \leq 5$

ق $Q(s)$ اقتران كثير حدود فهو متصل على الفترة المغلقة $[0, 5]$

∴ ق $Q(s)$ يتخذ قيمة عظمى مطلقة وقيمة صغرى مطلقة على هذه الفترة .

النقط الحرجة :

الحل:

$$\left. \begin{array}{l} 5 > s > 0, \quad 6 - s \\ \text{غير موجودة}, \quad s = 0, 5 \end{array} \right\} = \bar{C}(s)$$

ق(س) = 0 عندما $6 - s = 0$ أي عندما $s = 3 \in]0, 5[$

ق(س) غير موجودة عند $s = 0, 5$ (نقطتان طرفيتان)

النقط الحرجة هي عندما $s = 0, 3, 5$.:

$$ق(0) = 9, \quad ق(3) = 9 + 18 - 9 = 9 = \text{صفر}, \quad ق(5) = 9 + 30 - 25 = 14$$

وبمقارنة القيم الثلاث نستنتج أن:

ق(3) = 9، هي القيمة الصغرى المطلقة للاقتران .

ق(0) = 14، هي القيمة العظمى المطلقة للاقتران .

مثال (٨)

$$\left. \begin{array}{l} 1 > s \geq 0, \quad 2 - s \\ 2 \geq s \geq 1, \quad 1 + s \end{array} \right\} = \text{إذا كان ق(س)}$$

فعين القيم القصوى المطلقة للاقتران ق(إن وجدت)

ق(س) متصل على $[0, 2]$ (تحقق من ذلك)

ق(س) يتخذ قيمة عظمى مطلقة وقيمة صغرى مطلقة على $[0, 2]$.

النقط الحرجة:

$$\left. \begin{array}{l} 1 > s > 0, \quad 2 - \\ 2 > s > 1, \quad 1 \\ \text{غير موجودة}, \quad s = 0, 1, 2 \text{ (لماذا؟)} \end{array} \right\} = \bar{C}(s)$$

النقط الحرجة حيث $s = 0, 1, 2$.:

$$ق(0) = 1, \quad ق(1) = 2, \quad ق(2) = 3$$

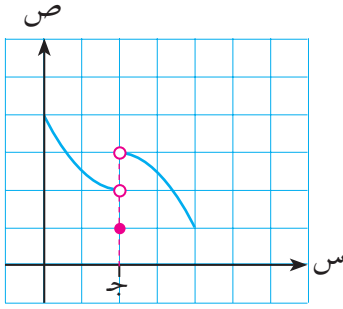
وبمقارنة القيم الثلاث نستنتج أن:

ق(1) = 2 هي القيمة الصغرى المطلقة للاقتران .

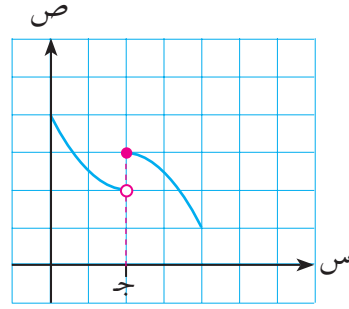
ق(0) = 1 هي القيمة العظمى المطلقة للاقتران .

الحل:

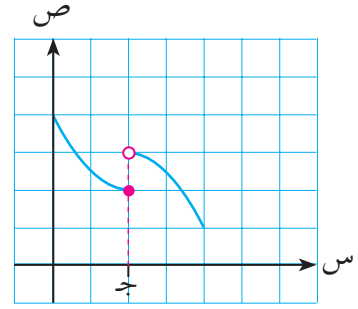
١ أي الاقترانات في كل من الأشكال الآتية يتخذ قيمة قصوى محلية عند $s = ج$ ؟ وما نوع هذه القيمة (إن وجدت)؟



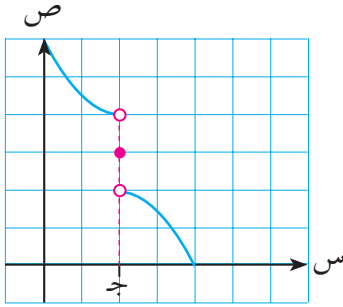
(أ)



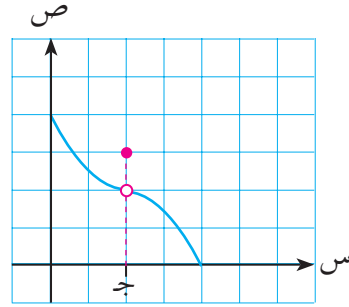
(ب)



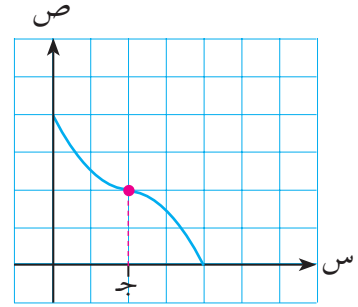
(ج)



(د)



(هـ)



(و)

٢ عين جميع النقاط الحرجة لكل من الاقترانات الآتية:

أ ق (س) = $\frac{3-s}{9-2s}$ ب هـ (س) = [س] ج ك (س) = \sqrt{s} في الفترة [٠ ، ٤].

٣ استخدم اختبار المشتقة الأولى في تعيين القيمة / القيم القصوى المحلية (إن وجدت) لكل من الاقترانات الآتية:

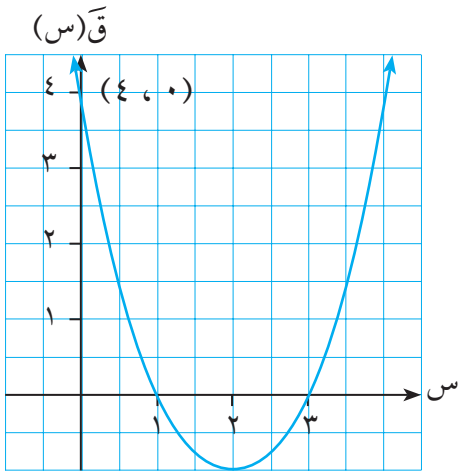
$$\left. \begin{array}{l} 1 > s, \quad 2-s \\ 1 \leq s \leq 4, \quad 3-s \\ s < 4, \quad s-5 \end{array} \right\} = \text{ق (س) ب}$$

أ ق (س) = $2s^3 + 3s^2 - 2$ ب ق (س) = $2 - |s| + 2$ ، $s \in \left[-\frac{1}{2}, \frac{3}{2}\right]$ ج ق (س) = $2s^2 - 2|s| + 2$ ، $s \in \left[-\frac{1}{2}, \frac{3}{2}\right]$

د ق (س) = πs ، $s \in [0, 2\pi]$

٤ أوجد القيمة / القيم القصوى المحلية والمطلقة للاقتران $ص = جاس + جتاس$ على الفترة $[0, 2\pi]$.

٥ بين الرسم المجاور منحنى المشتقة الأولى $Q'(s)$ للاقتزان $Q(s)$:



أ عين النقط الحرجة للاقتزان $Q(s)$.

ب عين مجالات التزايد والتناقص للاقتزان $Q(s)$.

ج عين القيم القصوى المحلية للاقتزان $Q(s)$.

٦ أوجد الثوابت P ، b ، c ، d بحيث يحقق منحنى الاقتزان

$Q(s) = Ps^3 + bs^2 + cs + d$ الشروط التالية معاً:

أ يمر بنقطة الأصل **ب** له نقطة حرجة عند $s = 4$

ج معادلة المماس للمنحنى عند النقطة $(1, Q(1))$ عليه هي: $9s - 7 + 0 = 0$

٧ $Q(s)$ اقتزان كثير حدود معرف على \mathbb{C} ، وله قيمة عظمى محلية عند $s = P$ ، وقيمة صغرى محلية عند

$s = b$. بتطبيق نظرية رول على الاقتزان $Q'(s)$ ، أثبت وجود عدد واحد على الأقل $j \in [P, b]$

بحيث $Q'(j) = 0$.

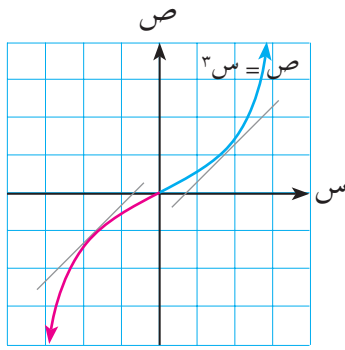
٨ عين القيم القصوى المطلقة (إن وجدت) لكل من الاقتزانات الآتية:

أ $Q(s) = \frac{s^3}{3} - \frac{5s^2}{2} + 10s + 1$ ، $s \in [1, 4]$

ب $Q(s) = \sqrt{s}$ ، $1 \leq s \leq 8$

ج $Q(s) = \begin{cases} s & 0 \leq s < 1 \\ |s-2| & 1 \leq s \leq 3 \end{cases}$

٤-٣ التقعر ونقط الانعطاف (Concavity & Points of Inflection)



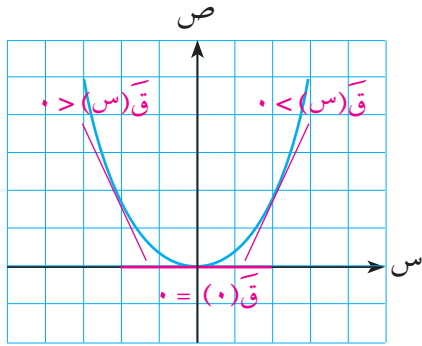
الشكل (٣٢-٣)

يوضح شكل (٣٢-٣) المجاور أن الاقتران $ق(س) = س^٣$ اقتران متزايد على $س$ ؛ ولكن يلاحظ أن اتجاه تقوس المنحنى قبل $س = ٠$ يختلف عن اتجاه تقوسه بعد $س = ٠$.

في الحالة الأولى أي عندما $س > ٠$ ، نلاحظ أن المنحنى يقع تحت جميع مماساته في هذا الجزء؛ أما في الحالة الثانية، أي عندما $س < ٠$ ، فإن المنحنى يقع فوق جميع مماساته في هذا الجزء.

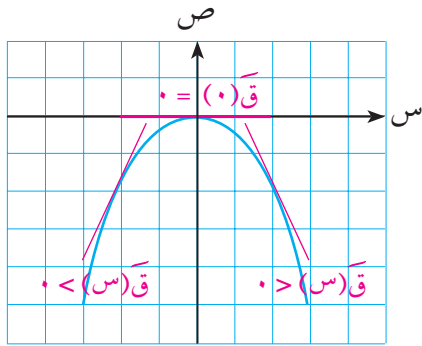
تعريف:

يقال لمنحنى اقتران $ق(س)$ إنه مقعر للأعلى في فترة من مجاله إذا كان واقعاً فوق جميع مماساته في هذه الفترة، وإنه مقعر للأسفل في فترة من مجاله إذا كان واقعاً تحت جميع مماساته في هذه الفترة.



الشكل (٣٣-٣)

فمثلاً منحنى الاقتران $ق(س) = س^٢$ ، كما في الشكل (٣٣-٣) منحنى مقعر للأعلى على مجاله $س$. نلاحظ في هذه الحالة أن ميل المماس يتزايد بازدياد $س$ ، أي أن $ق'(س)$ اقتران متزايد؛ وبالتالي فإن $ق''(س)$ موجبة.



الشكل (٣٤-٣)

وبالعكس، فإن منحنى $ق(س) = -س^٢$ ، كما في الشكل (٣٤-٣) مقعر للأسفل على $س$. نلاحظ في هذه الحالة أن ميل المماس يتناقص بازدياد $س$ ، أي أن $ق'(س)$ اقتران متناقص على $س$ ؛ وبالتالي فإن $ق''(س)$ سالبة.

نظرية: (اختبار التقعر باستخدام المشتقة الثانية)

إذا كان $q(s)$ اقتراناً متصلًا على $[a, b]$ وكانت $q'(s)$ ، $q''(s)$ معرفتين على $[a, b]$ فإنه:

١ إذا كانت $q''(s) < 0$ لجميع $s \in [a, b]$ فإن منحنى $q(s)$ يكون مقعراً للأعلى في الفترة $[a, b]$

٢ إذا كانت $q''(s) > 0$ لجميع $s \in [a, b]$ فإن منحنى $q(s)$ يكون مقعراً للأسفل في الفترة $[a, b]$

مثال (١)

ليكن $q(s) = s^3 + 6s^2 - 2s - 5$. عين الفترات التي يكون فيها منحنى الاقتران $q(s)$ مقعراً للأعلى، والفترات التي يكون فيها مقعراً للأسفل.

الحل:

$$q'(s) = 3s^2 + 12s - 2 = 0$$

$$q''(s) = 6s + 12 = 0$$

$$q''(s) = 6s + 12 = 0$$

إشارة $q''(s)$ كما هو مبين بالشكل (٣-٣٥)

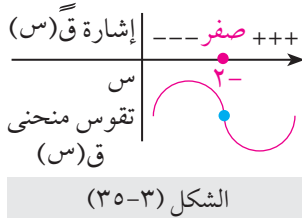
$$q''(s) > 0 \text{ عندما } s > -2$$

∴ منحنى $q(s)$ مقعر للأسفل في الفترة $[-\infty, -2]$

كذلك نلاحظ أن $q''(s) < 0$ عندما $s < -2$

∴ منحنى $q(s)$ مقعر للأعلى في الفترة $[-2, \infty]$

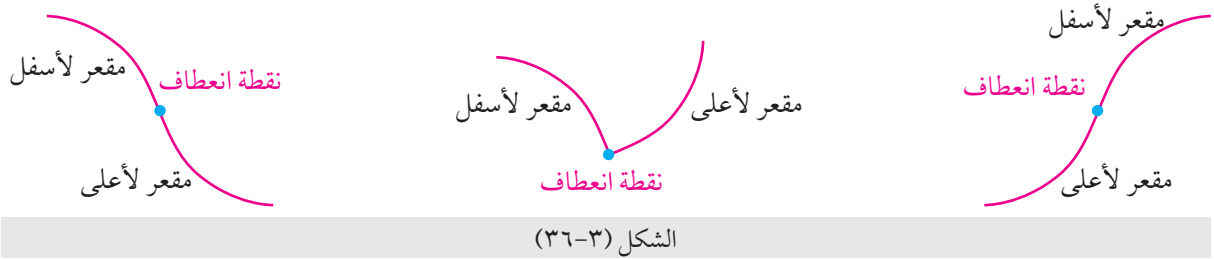
أما النقطة $(-2, q(-2))$ أي النقطة $(-2, 15)$ التي يغير المنحنى عندها اتجاه تقعره فتسمى نقطة انعطاف لمنحنى الاقتران.



تعريف: (نقطة الانعطاف)

ليكن $q(s)$ اقتراناً متصلًا عند $s = c$ ؛ تسمى النقطة $(c, q(c))$ نقطة انعطاف لمنحنى الاقتران إذا غيّر منحنى الاقتران $q(s)$ اتجاه تقعره عند النقطة c ؛ من أعلى إلى أسفل أو بالعكس.

الشكل (٣-٣٦) يوضح نقطة الانعطاف لاقترانات مختلفة.



الشكل (٣-٣٦)

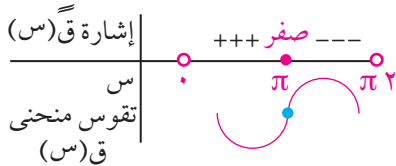
ملاحظة:

عند نقطة الانعطاف (ج، ق) تكون ق (ج) = صفرًا أو غير موجودة؛ إلا أن هذا ليس شرطاً كافياً لوجود نقطة انعطاف، فالاقتران ق (س) = س^٤، على سبيل المثال، يحقق الشرط ق (٠) = ٠ ولكن النقطة (٠، ق (٠)) ليست نقطة انعطاف لمنحنى الاقتران = س^٤ لأنه مقعر للأعلى دائماً، (تحقق من ذلك).

مثال (٢)

إذا كان ق (س) = س - جاس، س ∈ [٠، π٢] فأوجد فترة / فترات التقعر للأعلى والأسفل لمنحنى ق، وعين نقطة / نقط الانعطاف (إن وجدت).

الحل:



الشكل (٣-٣٧)

$$ق (س) = س - جاس، س ∈ [٠، \pi ٢]$$

$$ق' (س) = ١ - جتاس$$

$$ق'' (س) = جاس$$

إشارة ق'' (س) كما هو مبين في الشكل (٣-٣٧)

$$ق'' (س) < ٠ \text{ عندما } س ∈ [٠، \pi]$$

∴ منحنى ق مقعر للأعلى في الفترة [٠، π]

$$ق'' (س) > ٠ \text{ عندما } س ∈ [\pi، \pi ٢]$$

∴ منحنى ق مقعر للأسفل في الفترة [π، π٢]

وبما أن الاقتران ق متصل عند س = π

ويغير اتجاه تقعره في جوارها

∴ النقطة (π، ق (π)) = (π، π) نقطة انعطاف.

مثال (٣)

إذا كان $ق(س) = |س^٢ - ٩|$ ، فعين مجالات التقعر للأعلى والأسفل لمنحنى $ق(س)$ ونقطة الانعطاف (إن وجدت).

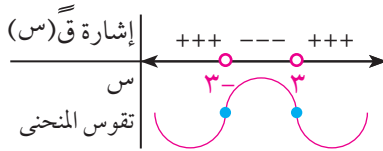
الحل:

$$ق(س) = |س^٢ - ٩|$$

$$\left. \begin{array}{l} س^٢ - ٩ \geq ٠ \\ ٣ > س > -٣ \\ س^٢ - ٩ \leq ٠ \end{array} \right\} =$$

$$\left. \begin{array}{l} س^٢ > ٣ \\ ٣ > س > -٣ \\ س^٢ < ٣ \\ غير موجودة \end{array} \right\} = ق(س)$$

$$\left. \begin{array}{l} س > ٣ \\ ٣ > س > -٣ \\ س < -٣ \\ غير موجودة \end{array} \right\} = ق(س)$$



الشكل (٣-٣٨)

إشارة $ق(س)$ كما هو مبين بالشكل (٣-٣٨)

$ق(س) > ٠$ عندما $٣ > س > -٣$

∴ منحنى $ق(س)$ مقعر للأسفل في الفترة $[-٣، ٣]$

$ق(س) < ٠$ عندما $س > ٣$ ، وكذلك $س < -٣$

∴ منحنى $ق(س)$ مقعر للأعلى في الفترة $[-∞، -٣]$.

وكذلك في الفترة $[٣، ∞]$

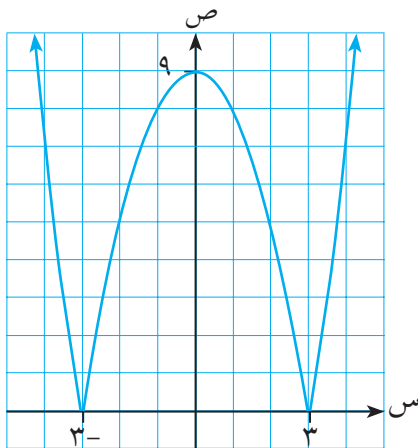
النقطة $(٣، ٣) = ق(٣)$ ، النقطة انعطاف،

لأن $ق(س)$ متصل عند $س = ٣$ ، ويغير المنحنى اتجاهه

تقره حولها، وكذلك النقطة $(٣، ٣) = ق(٣)$

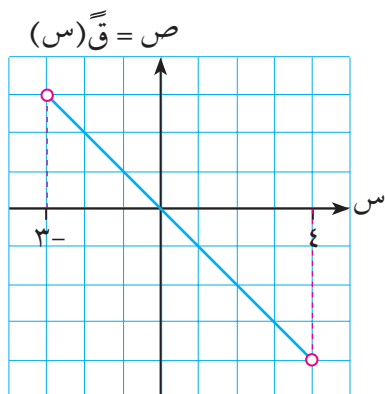
نقطة انعطاف ثانية للسبب ذاته.

انظر الشكل (٣-٣٩) الذي يمثل منحنى $ق(س)$.

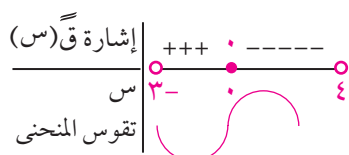


الشكل (٣-٣٩)

مثال (٤)



الشكل (٤٠-٣)



الشكل (٤١-٣)

يمثل الشكل (٤٠-٣) منحنى ق(س) للاقتران المتصل

ق(س) على الفترة $[-3, 4]$.

عين مجالات التقعر للأعلى وللأسفل لمنحنى ق(س).

عين نقطة / نقط الانعطاف (إن وجدت).

أ

ب

الحل:

الشكل (٤١-٣) يوضح إشارة ق(س)

ق(س) < 0 على الفترة $[-3, 0]$

منحنى ق(س) مقعر للأعلى على الفترة $[-3, 0]$

ق(س) > 0 على الفترة $[0, 4]$

منحنى ق(س) مقعر للأسفل على الفترة $[0, 4]$

النقطة (٠، ٠) ق(٠) نقطة انعطاف لأن ق متصل عند $s = 0$

ويغير المنحنى اتجاه تقعره عندها.

أ

ب

ب

ب

مثال (٥)

إذا كان ق(س) = $s + \frac{1}{s}$ ، $s \neq 0$ ، فأوجد:

فترات التقعر للأعلى وللأسفل لمنحنى ق.

نقطة / نقط الانعطاف إن وجدت.

أ

ب

الحل:

$$ق(س) = s + \frac{1}{s} - 1 = \frac{1}{s} - 1 = \frac{1 - s}{s}$$

$$ق(س) = \frac{2}{s} - 1 = \frac{2 - s}{s}$$

إشارة ق(س) كما هو مبين في الشكل (٤٢-٣)

ق(س) < 0 على الفترة $[-\infty, 0]$

منحنى ق مقعر للأعلى على الفترة $[-\infty, 0]$

ق(س) > 0 عندما على الفترة $[0, \infty]$

منحنى ق(س) مقعر للأسفل على الفترة $[0, \infty]$

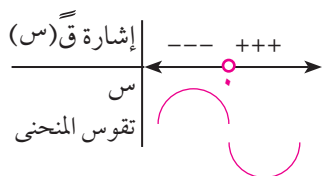
المنحنى يغير تقعره في جوار $s = 0$ ، ولكن الاقتران غير متصل عند $s = 0$ لأنه ليس معرفاً

عندها؛ فلا توجد إذن أية نقطة انعطاف لمنحنى الاقتران.

ب

ب

ب



الشكل (٤٢-٣)

اختبار المشتقة الثانية في تعيين القيم القصوى (Second Derivative Test)

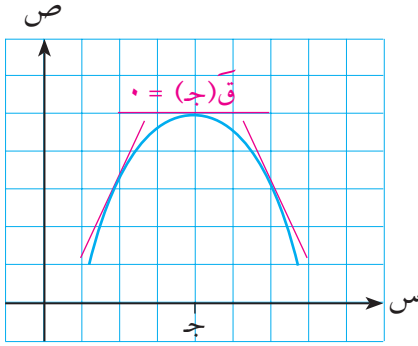
كنا قد استخدمنا سابقاً المشتقة الأولى لتعيين القيم القصوى للاقتارات ؛ ومن الممكن استخدام المشتقة الثانية للغاية ذاتها عند النقطة الحرجة حيث المشتقة الأولى عندها تساوي صفراً.

نظرية:

إذا كان Q (س) اقتراناً قابلاً للاشتقاق على فترة مفتوحة تحوي J ، وكان $Q'(J) = 0$ فإنه :

١ إذا كان $Q''(J) > 0$ فإن Q (ج) قيمة عظمى محلية .

٢ إذا كان $Q''(J) < 0$ فإن Q (ج) قيمة صغرى محلية .



الشكل (٣-٤٣)

يوضح الشكل (٣-٤٣) منحنى الاقتران Q (س) حيث $Q'(J) = 0$ ، أي أن المماس عند J أفقي ، $Q''(J) > 0$ أي أن المماسات في جوار J تقع فوق المنحنى مما يعني أن Q (ج) قيمة عظمى محلية . وبالمثل يمكن توضيح الحالة الثانية .

مثال (٦)

استخدم المشتقة الثانية في تعيين القيم القصوى للاقتران :

$$Q(س) = ٢٧س^٢ - ٤٨س + ٤٨ ، \quad س \in \mathbb{R}$$

$$Q(س) = ٢٧س^٢ - ٤٨س + ٤٨$$

$$Q'(س) = ٥٤س - ٤٨$$

$$Q''(س) = ٥٤$$

$$\text{النقط الحرجة حيث } Q'(س) = 0$$

$$٥٤س - ٤٨ = 0$$

$$\text{ومنها } س = ٤/٣$$

اختبار المشتقة الثانية للنقطة الحرجة حيث $س = ٤/٣$

$$Q''(٤/٣) = ٥٤ > 0$$

الحل:

أ

∴ (3, ق(3)) = (3, -6) نقطة قيمة صغرى محلية

ب اختبار المشتقة الثانية للنقطة الحرجة حيث $s = -3$

$$ق''(3) = 3 - 6 = -3 < 0$$

∴ (3, ق(3)) = (3, -10.2) نقطة قيمة عظمى محلية

ملاحظة:

إذا كانت $ق''(ج) = 0$ ، أو غير موجودة، فإن اختبار المشتقة الثانية يفشل؛ وعندئذ نعود إلى اختبار المشتقة الأولى.

مثال (٧)

ليكن $ق(s) = s^3$ ، $s \in \mathbb{R}$ أوجد القيم القصوى المحلية للاقتران.

الحل:

$$ق'(s) = 3s^2$$

$$ق'(s) = 0 \iff s = 0$$

∴ للاقتران $ق(s)$ نقطة حرجة واحدة عند $s = 0$

$$ق''(s) = 6s$$

∴ $ق''(0) = 0 \iff$ اختبار المشتقة الثانية يفشل، ولذا نعود لاختبار المشتقة الأولى، ومن الواضح

أن المشتقة الأولى تغير إشارتها من سالبة إلى موجبة بازدياد قيم s في جوار $s = 0$

∴ للاقتران $ق(s)$ قيمة صغرى محلية عند $s = 0$ وتساوي $ق(0) = 0$

تمارين (٣-٤)

١ عين فترة/ فترات التغير للأعلى وللأسفل ونقطة/ نقاط الانعطاف إن وجدت لكل من الاقترانات الآتية:

أ $ق(s) = \frac{1}{4}s^4 - \frac{1}{2}s^3$ ب $ق(s) = \frac{1}{s}$

ج $ق(s) = \text{جاس} + \text{جتاس}$ ، $s \in [0, 2\pi]$ د $ق(s) = \text{ظاس} - 2$ ، $s \in [\frac{\pi}{2}, \frac{\pi}{4}]$

٢ استخدم اختبار المشتقة الثانية لتحديد القيم القصوى لكل من الاقترانين الآتيين:

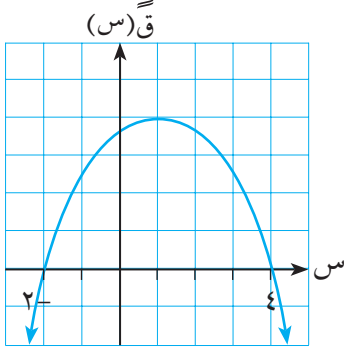
أ $ق(s) = 8s^2 - 2s^3$ ب $ق(s) = \frac{27}{s} - 2s^2$

٣ إذا كانت النقطة (١ ، ق(١)) نقطة انعطاف للاقتران ق(س) = ٢س^٢ + س^{-٢} ، فما قيمة ٢؟

٤ إذا كان ق(س) = ٣س^٣ + ٢س^٢ + ب س + ٥ فأوجد الثابتين ٢ ، ب في كل من الحالتين الآتيتين:

أ للاقتران ق(س) قيمة عظمى محلية عند س = ١ ، وقيمة صغرى محلية عند س = ٣ .

ب للاقتران ق(س) قيمة صغرى محلية عند س = ٤ ، ونقطة انعطاف عند س = ١ .



٥ الشكل المجاور يمثل منحنى ق(س) . إذا علمت أن :

النقاط الحرجة للاقتران ق(س) هي عند س = ١ ، ٦ فأوجد :

أ فترات التفرع للأعلى وللأسفل للاقتران ق(س)

ب نقط القيم القصوى المحلية للاقتران ق(س)

ج نقطة/نقط الانعطاف للاقتران ق(س)

٦ أثبت أن قياس زاوية ميل المماس عند نقطة الانعطاف للاقتران ق(س) = $\frac{س}{١-٢س}$ يساوي ١٣٥° .

٧ إذا كان ق(س) اقتراناً معرفاً على ح مع بحيث ق(س) = $\frac{س}{٩+٢س}$ فأوجد نقطة/نقط الانعطاف لمنحنى ق(س) .

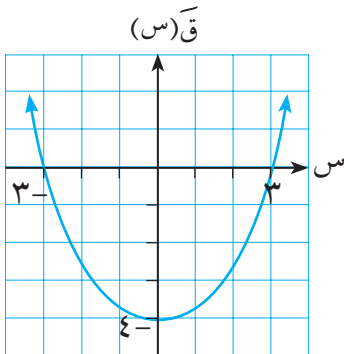
٨ إذا كان ك(س) كثير حدود متزايداً على [٢ ، ب] ، ولا يتخذ القيمة صفراً في هذه الفترة ، وكان الاقتران

ق(س) قابلاً للاشتقاق على الفترة [٢ ، ب] بحيث إن ق(س) = $\frac{٧}{ك(س)}$ - ٥س ، فأثبت أن منحنى الاقتران

ق(س) مقعر للأسفل في [٢ ، ب] .

٩ إذا كان لمنحنى الاقتران ق(س) = ٢س^٣ + ب س^٢ + ج س + د قيمة عظمى محلية عند س_١ وقيمة صغرى

محلية عند س_٢ فأثبت أن للاقتران ق(س) نقطة انعطاف عند $\frac{س_١ + ٢س_٢}{٢}$.



١٠ يمثل الشكل المجاور منحنى ق(س) . اعتمد على الشكل في إيجاد :

أ قيم س التي يوجد عندها نقط حرجة للاقتران ق(س)

ب مجالات التزايد والتناقص للاقتران ق(س) .

ج نقط القيم القصوى للاقتران ق(س) .

د مجالات التفرع للأعلى وللأسفل لمنحنى ق(س) .

هـ نقطة/نقط الانعطاف للاقتران ق(س) .

٥-٣ رسم المنحنيات (Curve Sketching)

من بين التطبيقات المهمة للمشتقة الأولى $Q'(s)$ والمشتقة الثانية $Q''(s)$ استخدامهما في رسم الشكل العام لمنحنى الاقتران $v = Q(s)$.

وبوجه عام ، يمكننا اتباع الخطوات الأساسية الآتية عند رسم الشكل العام لمنحنى اقتران ما :

- نعيّن مجال الاقتران ثم نجد $Q'(s)$ ، $Q''(s)$.
- نعيّن فترات التزايد والتناقص ونقط القيم القصوى (إن وجدت).
- نعيّن فترات التقعر ونقط الانعطاف (إن وجدت).
- نعيّن النقاط السابقة في المستوى الديكارتي ، ونقطاً أخرى مناسبة حولها (إن لزم الأمر) ، ونقط التقاطع مع المحورين الإحداثيين (إن أمكن).
- نصل بين النقاط السابقة بخط ممهد ، ونكمل المنحنى مع مراعاة مجال الاقتران .

مثال (١)

ارسم الشكل العام لمنحنى الاقتران $Q(s) = s^4 - 4s^3 + 5s$.

$Q(s)$ اقتران كثير حدود مجاله \mathbb{R}

$$Q'(s) = 4s^3 - 12s^2 = 4s^2(s-3)$$

$$Q''(s) = 12s^2 - 24s = 12s(s-2)$$

التزايد والتناقص والقيم القصوى :

النقط الحرجة :

$$Q'(s) = 0 \iff 4s^2(s-3) = 0$$

$$\iff s = 0, 3$$

إشارة $Q'(s)$ كما هو مبين في الشكل (٣-٤٤)

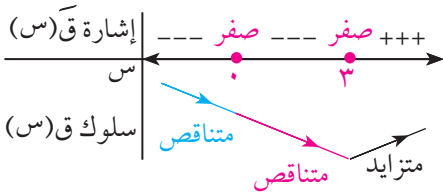
$$Q'(s) < 0 \text{ عندما } s < 3$$

$$Q'(s) > 0 \text{ عندما } s > 3$$

$$Q'(s) > 0 \text{ عندما } s > 3 \text{ ، وكذلك عندما } s \in]0, 3[$$

وحيث إن $Q(s)$ متصل عند $s = 0$ لأنه كثير حدود

$$Q(s) \text{ متناقص على }]-\infty, 3[$$



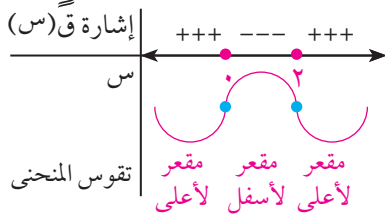
الشكل (٣-٤٤)

ق(٠) ليست قيمة قصوى لأن ق(س) لا تغير اشارتها حول س = ٠

أما (٣، ق(٣)) = (٣، ٢٢) فهي نقطة قيمة صغرى محلية

لأن ق(س) تغير اشارتها من سالبة قبل س = ٣ إلى موجبة بعد س = ٣

التقعر ونقط الانعطاف



الشكل (٣-٤٥)

ق(س) = ٠ = س = ٠، ٢

إشارة ق(س) كما هو مبين في الشكل (٣-٤٥)

ق(س) > ٠ عندما ٠ > س > ٢

منحنى ق مقعر للأسفل على [٢، ٠]

ق(س) < ٠ عندما س < ٢ ، وكذلك عندما س > ٠

منحنى ق(س) مقعر للأعلى على الفترة [٢، ∞) وكذلك [٠، ∞)

النقطتان (٠، ق(٠)) = (٠، ٥) ، (٢، ق(٢)) = (٢، ١١) هما نقطتا انعطاف لاتصال ق(س)

عندهما وتغير اتجاه التقعر حول كل منهما .

نقاط أخرى على المنحنى :

نقط التقاطع مع المحورين :

عندما س = ٠ تكون ص = ٥

عندما ص = ٠ يكون س = ٤ - س = ٥ + ٣

(وليس من السهل حل هذه المعادلة فتركها)

نقط أخرى : عندما س = ٤ تكون ص = ٥

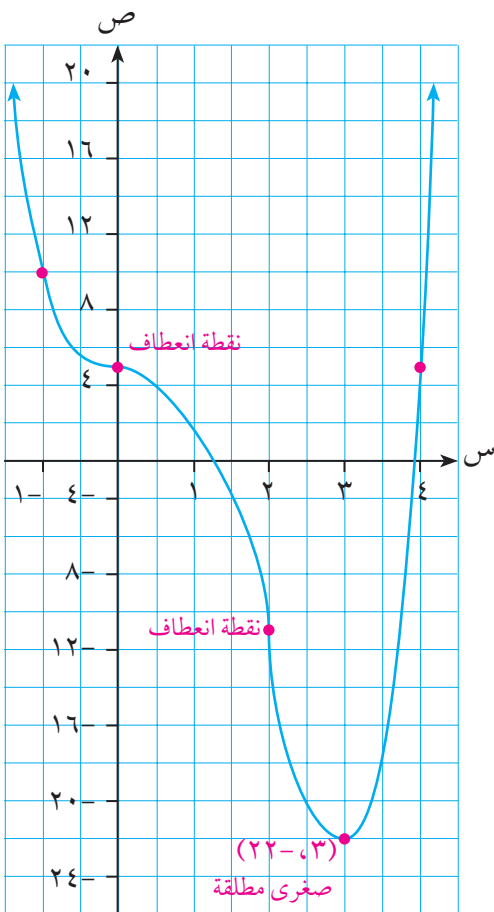
وعندما س = -١ تكون ص = ١٠

نعين النقاط السابقة على المستوى الديكارتي

ونصل بينها بخط ممهد مع مراعاة سلوك

الاقتران على الفترات المختلفة .

لاحظ الشكل (٣-٤٦) .



الشكل (٣-٤٦)

تمارين (٥-٣)

١ ارسم منحنى تقريبياً للاقتران ص = ق (س) المتصل عند س = ٠ ، وبحيث :

$$\text{ق}^{\text{ق}}(س) > ٠ \text{ عندما } س > ٠ , \text{ق}^{\text{ق}}(س) < ٠ \text{ عندما } س < ٠$$

٢ ارسم منحنى تقريبياً للاقتران ص = ق (س) المتصل عند س = ٠ ، وبحيث :

$$\text{ق}^{\text{ق}}(س) > ٠ \text{ عندما } س > ٠ , \text{ق}^{\text{ق}}(س) < ٠ \text{ عندما } س < ٠$$

٣ ارسم الشكل العام لمنحنى الاقتران ص = ق (س) ، الذي يمر بالنقط :

$$(٢, ٢) , (١, ١) , (٠, ٠) , (١, -١) , (٢, -٢)$$

وإشارة المشتقة الأولى ق (س) والثانية ق (س) للاقتران كما يلي :



٤ ارسم منحنى كل من الاقترانين الآتين :

$$\text{أ} \quad \text{ق}(س) = س^٣ + ٣س^٢ \quad \text{ب} \quad \text{ق}(س) = س^٤ - ٣س^٢ + ٤٨$$

٥ ق (س) اقتران معرف على الفترة $[-٣, ٣]$ ويحقق ما يلي :

س	$٣- > س > ٢-$	$٢-$	$١ > س > ٢-$	١	$٣ > س > ١$
ق (س)	سالبة	صفر	موجبة	صفر	سالبة

س	$٣- > س > \frac{١}{٢}-$	$\frac{١}{٢}-$	$\frac{١}{٢}- > س > ٣-$	س
ق (س)	سالبة	صفر	موجبة	ق (س)

اعتمد على هذه المعلومات للإجابة عن الأسئلة الآتية :

أ ما قيمة س التي يكون للاقتران ق (س) عندها قيمة صغرى؟

ب ما مجالات التناقص للاقتران ق (س)؟

ج ما قيمة س التي يكون للاقتران عندها نقطة انعطاف؟

د إذا كان ق (س) = ١ فارسم شكلاً تقريبياً لمنحنى الاقتران مبيناً عليه نقط القيم العظمى والصغرى

والانعطاف .

٦-٣ تطبيقات عملية على القيم القصوى

من المسائل الأساسية في الهندسة والصناعة والتجارة وغيرها من المجالات العلمية والعملية، مسألة تصغير الجهد والتكلفة والمواد في مدخلات العمليات، وتعظيم الربح والانتاج في مخرجات تلك العمليات. ومن الممكن الاستفادة من أفكار التفاضل وإجراءاته في حساب القيم القصوى للاقتران الذي نحن بصدده في مثل هذه التطبيقات كما يتضح من الأمثلة التالية:

مثال (١)

يريد مزارع عمل حديقة مستطيلة الشكل يحيطها بسياج. إذا كانت المساحة المطلوبة للحديقة ٨٠٠ م^٢، وكانت تكلفة السياج من جهة الطريق ٦ دنانير لكل متر (انظر الشكل (٣-٤٧)). ومن الجهات الأخرى دينارين لكل متر، فجد بعدي الحديقة اللذين يجعلان التكاليف أقل ما يمكن، وكم تبلغ قيمة هذه التكاليف؟

الحل:

نفرض بعدي الحديقة $س$ ، $ص$ كما في الشكل (٣-٤٧)

ونفرض أن التكاليف الكلية ت

$$\text{المساحة } س ص = ٨٠٠ \text{ م}^2$$

$$ت = ٦س + ٢ص + ٢ص$$

$$= ٨س + ٤ص$$

$$\text{لكن } ص = \frac{٨٠٠}{س}$$

$$ت = ٨س + ٤ \times \frac{٨٠٠}{س} \quad \therefore$$

$$= ٨س + \frac{٣٢٠٠}{س}$$

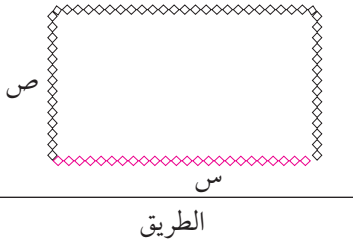
لإيجاد القيمة الصغرى للتكاليف نعين النقاط الحرجة:

$$ت'(س) = ٨ - \frac{٣٢٠٠}{س^2}$$

$$٠ = ت'(س) = ٨ - \frac{٣٢٠٠}{س^2} \Leftrightarrow$$

$$٨س^2 = ٣٢٠٠$$

$$س^2 = ٤٠٠$$



الشكل (٣-٤٧)

∴ س = 20 ≠ . نهمل س = 20- (لماذا؟)

$$\frac{6400}{3س} = \text{ت} (س)$$

$$\text{ت} (20) = \frac{6400}{320} < 0$$

∴ عند س = 20 تكون التكاليف أصغر ما يمكن .

$$\text{وتكون ص} = \frac{800}{20} = \frac{800}{س} = 40 م$$

أي أن التكاليف تأخذ قيمة صغرى عند س = 20 م ، ص = 40 م

وتبلغ التكاليف عندئذ 8(20) + 4(40) = 320 ديناراً .

يمكننا تلخيص الخطوات التي اتبعناها في المثال السابق للاستفادة منها في حل المسائل المتعلقة بالتطبيقات العملية كما يلي :

- ندرس المسألة ، ونعين المعطيات والمطلوب فيها ، ونكتب متغيراتها برموز مناسبة .
- نرسم شكلاً توضيحياً للمسألة (إذا كان ذلك مناسباً) .
- نعبر عن المتغير الذي يراد تعيين قيمته القسوى في صيغة اقتران بمتغير واحد .
- نعين النقط الحرجة للاقتران ونختبر أياً منها يحقق القيمة القسوى المطلوبة .

مثال (٢)

جد أقرب نقطة واقعة على المنحنى $ص = \sqrt{1-س}$ إلى النقطة $P(0, 2)$.

نفرض أن النقطة هـ (س، ص) نقطة ما على المنحنى كما في الشكل (٣-٤٨) .

$$\text{المسافة } P هـ = \sqrt{ص^2 + (س-2)^2}$$

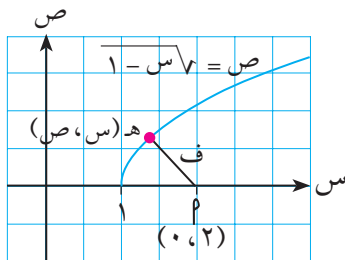
$$\text{لكن } ص = \sqrt{1-س}$$

$$\text{∴ } ص^2 = 1-س$$

وبالتعويض عن ص بدلالة س ينتج أن :

$$ف = \sqrt{1-س + (س-2)^2}$$

$$ف = \sqrt{3-س + س^2}$$

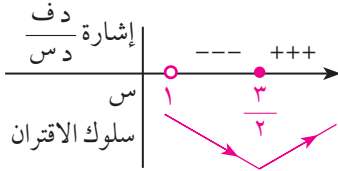


الشكل (٣-٤٨)

الحل:

$$\frac{\text{د ف}}{\text{د س}} = \frac{3 - 2\text{س}}{3 + 2\sqrt{\text{س}}}$$

$$\frac{\text{د ف}}{\text{د س}} = 0 \Leftrightarrow 3 - 2\text{س} = 0 \text{ ومنها } \text{س} = \frac{3}{2}$$



الشكل (٤٩-٣)

$\frac{\text{د ف}}{\text{د س}}$ غير موجودة عند $\text{س} = 1$ (نقطة طرفية)

إشارة المشتقة $\frac{\text{د ف}}{\text{د س}}$ كما هو مبين في الشكل (٤٩-٣)

∴ عند $\text{س} = \frac{3}{2}$ توجد قيمة صغرى محلية (وهي مطلقة).

∴ أقرب نقطة على المنحنى للنقطة $(0, 2)$ هي النقطة $(\frac{3}{2}, \frac{3}{2})$ ، ق $(\frac{3}{2}, \frac{3}{2}) = (\frac{1}{2\sqrt{2}}, \frac{3}{2})$

مثال (٣)

لاحظت شركة طيران أنه حين يكون سعر التذكرة ٢٠٠ دينار فإنها تباع ٣٠٠ تذكرة يومياً، وأنه لكل تخفيض مقداره دينار واحد في سعر التذكرة يزداد عدد التذاكر المباعة ٣ تذاكر يومياً. جد سعر التذكرة الذي يجعل دخل الشركة أكبر ما يمكن، وما مقدار ذلك الدخل؟

الحل:

نفرض أن مقدار التخفيض في سعر التذكرة س دينار

فيصبح سعر التذكرة $(200 - \text{س})$ ديناراً

ويكون عدد التذاكر المباعة $(300 + 3\text{س})$

الدخل ص $= (200 - \text{س})(300 + 3\text{س})$

$$\text{ص} = (200 - \text{س})(300 + 3\text{س}) = 1 - \text{س} + 3(300 + 3\text{س}) = 6 - 300 + 3\text{س}$$

$$\text{ص} = 0 \text{ عندما } \text{س} = 50$$

$$\text{ص} = 6 - 300 = 50 > 0$$

∴ عندما $\text{س} = 50$ يوجد قيمة عظمى وهي مطلقة

أي أن سعر التذكرة $= 200 - 50 = 150$ ديناراً هو الذي يحقق أكبر دخل للشركة وتبلغ

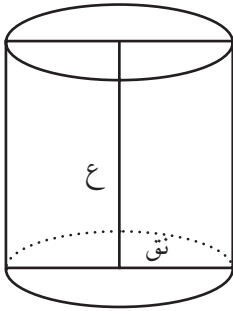
قيمة هذا الدخل $= 450 \times 150 = 67500$ دينار.

مثال (٤)

يراد صنع وعاء معدني في هيئة اسطوانة دائرية قائمة مفتوحة من أعلى وسعتها 81π دسم^٣. فإذا كانت تكلفة المواد المستعملة ٣ دنانير لكل دسم^٢ من قاعدة الاسطوانة، وديناراً واحداً لكل دسم^٢ من سطحها الجانبي فجد أبعاد الاسطوانة التي تجعل التكاليف أقل ما يمكن.

الحل:

نفرض أن نصف قطر قاعدة الاسطوانة نق وارتفاعها ع كما في الشكل (٣-٥٠).



الشكل (٣-٥٠)

$$\text{التكاليف الكلية ت} = 3(\pi \text{نق}^2) + (\pi 2 \text{نق} \times \text{ع}) \times 1$$

$$= 3\pi \text{نق}^2 + 2\pi \text{نق} \times \text{ع}$$

$$\text{لكن سعة الاسطوانة} = \pi \text{نق}^2 \times \text{ع} = 81\pi$$

$$\therefore \text{ع} = \frac{81}{\text{نق}^2}$$

$$\text{بالتعويض عن ع تكون ت} = \pi (3\text{نق}^2 + 2\text{نق} \times \frac{81}{\text{نق}^2})$$

$$= \pi \left(3\text{نق}^2 + \frac{162}{\text{نق}} \right)$$

$$\frac{\text{د ت}}{\text{د نق}^2} = \pi \left(6\text{نق} - \frac{162}{\text{نق}^2} \right)$$

$$\frac{\text{د ت}}{\text{د نق}^2} = 0 \iff 6\text{نق} - \frac{162}{\text{نق}^2} = 0$$

$$\therefore \text{نق} = 3 \text{ دسم}$$

$$\frac{\text{د}^2 \text{ت}}{\text{د نق}^2} = 6 + \frac{2 \times 162}{\text{نق}^3}$$

$$\frac{\text{د}^2 \text{ت}}{\text{د نق}^2} = 6 + \frac{2 \times 162}{27} > 0$$

∴ تكون التكاليف قيمة صغرى عند نق = ٣ دسم

بالتعويض نجد ع = ٩ دسم

١ ثني سلك طوله ١٢ سم ليكون مثلثاً متساوي الساقين . أوجد أطوال أضلاع المثلث إذا كانت مساحته أكبر ما يمكن .

٢ جد مساحة أكبر مستطيل يمكن رسمه داخل دائرة طول نصف قطرها ٢٠ سم .

٣ يراد صنع صندوق في هيئة متوازي مستطيلات مفتوح من أعلى ، وذلك بقطع أربعة مربعات صغيرة متطابقة من زوايا صفيحة معدنية مربعة الشكل طول ضلعها ١٢ دسم ، ثم ثني الحواف إلى أعلى . ما طول ضلع كل من هذه المربعات إذا كانت سعة الصندوق أكبر ما يمكن؟

٤ تتحرك نقطة مادية على خط مستقيم بحيث يكون بعدها (ف) بالامتار عن نقطة ثابتة (و) على هذا الخط معطى بالعلاقة: $f = 2n^3 - 9n^2 + 12n$ ، ن الزمن بالثواني . جد الزمن الذي تكون فيه السرعة أصغر ما يمكن .

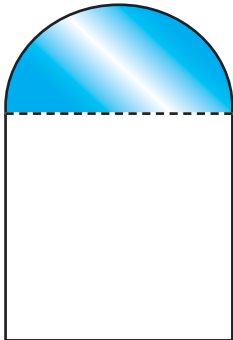
٥ برهن باستخدام التفاضل أن العمود النازل من النقطة (٢ ، ٣) على محور السينات هو أقصر القطع المستقيمة التي تصل بين النقطة (٢ ، ٣) ومحور السينات .

٦ أوجد أقصر مسافة بين النقطة (٠ ، ٦) والمنحنى $s^2 - 2s = 16$.

٧ إذا باع مصنع للدراجات ١٠٠ دراجة كان مكسبه في الدراجة الواحدة ٢٠ ديناراً ، وإذا زاد عدد الدراجات المباعة عن ١٠٠ فإن المكسب في الدراجة الواحدة من الدراجات المباعة يقل بمقدار ١ ، ٠ دينار عن كل دراجة زيادة . كم عدد الدراجات التي تعطي للمصنع أكبر ربح؟

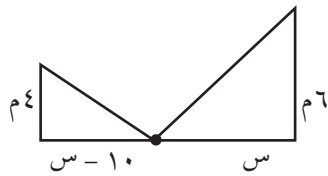
٨ جد معادلة المستقيم الذي يمر بالنقطة (٣ ، ٤) ويصنع مع المحورين الإحداثيين في الربع الأول مثلثاً مساحته أصغر ما يمكن .

٩ نافذة في هيئة مستطيل يعلوه نصف دائرة . فإذا كان زجاج نصف الدائرة يسمح بدخول نصف ما يسمح به زجاج المستطيل من الضوء لكل وحدة مربعة ، وإذا علمت أن المحيط الكلي للنافذة يساوي ٦ م ، فجد أبعاد النافذة التي تسمح بمرور أكبر قدر من الضوء .

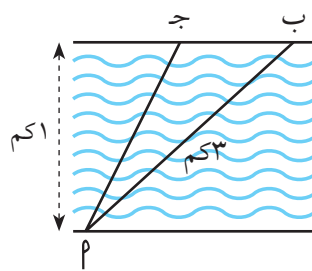


١٠ تقف سفينتان P ، B في عرض البحر بحيث تقع P جنوب B على بعد 20 كم منها. انطلقت السفينتان بحيث سارت الأولى P بسرعة منتظمة 10 كم/ساعة شرقاً وسارت الثانية بسرعة منتظمة 5 كم/س جنوباً. جد الزمن الذي يكون فيه البعد بين السفينتين أصغر ما يمكن، وكم يكون هذا البعد آنذاك؟

١١ يراد تصميم ملصق مستطيل الشكل بحيث يحتوي على 500 سم 2 من المادة المطبوعة وبحيث يكون عرض كل من الهامشين العلوي والسفلي 10 سم، وكل من الهامشين الجانبيين 5 سم. ما بعدا الملصق اللذان يجعلان مساحته أصغر ما يمكن؟



١٢ عمودان طولاهما 4 م، 6 م والبعد بينهما 10 م. يراد تثبيتهما بسلكين متصلين بوتر في مستوى الأرض كما في الشكل. أين يقع هذا الوتر بحيث يكون مجموع طولي السلكين أصغر ما يمكن؟



١٣ يصل أنبوب نفط نقطتين P ، B البعد بينهما 3 كم وعلى جانبيين مختلفين من نهر عرضه 1 كم، فإذا كان جزء من الأنبوب تحت الماء بين P و J (انظر الشكل)، والجزء الآخر مكشوفاً على الشاطئ، من J إلى B ، وكانت تكلفة الكيلومتر من الأنبوب تحت الماء ثلاثة أضعاف تكلفة الكيلومتر في الجزء الواقع على الشاطئ فجد موقع J الذي يجعل التكاليف أقل ما يمكن.

١٤ جد أبعاد المستطيل ذي المساحة الكبرى والواقع في الربع الأول بحيث تنطبق قاعدته على محور السينات ويقع رأسه الآخران على منحنى الاقتران $Q(s) = -s + 6s - s^2$.

٧-٣ المعدلات الزمنية المرتبطة (Related Rates)

إذا كان ص اقتراناً في الزمن (ن) فإن المشتقة $\frac{دص}{دن}$ تسمى المعدل الزمني للمتغير ص، وقد تعرفنا في دروس سابقة بعض المعدلات الزمنية مثل السرعة والتسارع، فالسرعة = $\frac{دف}{دن}$ ، والتسارع = $\frac{دع}{دن}$ ؛ ولا تقتصر المعدلات الزمنية على السرعة والتسارع، بل تشمل على تطبيقات أخرى كثيرة، مثل: تمدد الأجسام بالحرارة، وتدفق الموائع إلى الأوعية ومنها، وتدفق الكهرباء في الأسلاك، وغير ذلك.

وإذا كان متغيران (أو أكثر) من المتغيرات المعتمدة على الزمن، مرتبطين بمعادلة، فإن من الممكن تطبيق الاشتقاق الضمني على طرفي هذه المعادلة بالنسبة للزمن، ومن ثم الربط بين المعدلين الزمنيين لهذين المتغيرين كما يتضح في الأمثلة التالية:

مثال (١)

إذا كان المتغيران س، ص اقترانين في الزمن ن، بحيث يرتبطان بالمعادلة:

$$س^٢ + ٥ص^٢ = ٢١، \text{ وكان } \frac{دس}{دن} = ٢ \text{ عند } س = ١، \text{ ص} = ٢؛ \text{ فجد } \frac{دص}{دن}$$

نشق طرفي المعادلة بالنسبة إلى ن:

$$٢س \frac{دس}{دن} + ١٠ص \frac{دص}{دن} = ٠$$

نعوض بالقيم المعطاة فيكون:

$$٢ \times ١ \times ٢ + ١٠ \times ٢ \times \frac{دص}{دن} = ٠ \Leftrightarrow \frac{دص}{دن} = -٢,٠$$

الحل:

وفي المسائل العملية، كثيراً ما يستلزم الأمر تكوين المعادلة التي تربط بين المتغيرين اللذين تدرس المسألة معدليهما الزمنيين المرتبطين؛ ومن الممكن اتباع الخطوات الآتية في حل مثل هذه المسائل:

- نرسم شكلاً تخطيطياً (إن كان ذلك مناسباً) مع وضع القيم والتسميات المناسبة عليه.
- نكتب جميع متغيرات المسألة بالصورة الرمزية.
- نكتب المعادلة العامة التي تربط متغيرات المسألة.
- نشق طرفي المعادلة بالنسبة للزمن، من أجل الحصول على علاقة عامة تربط بين المعدلات الزمنية.
- نعوض بالقيم المعطاة في المسألة، ونجد المعدل الزمني المطلوب.

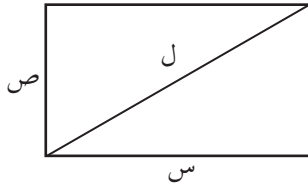
مثال (٢)

يتناقص طول مستطيل بمعدل ٢ سم/ث، ويزيد عرضه بمعدل ٢ سم/ث. جد:

المعدل الزمني لتغير مساحة المستطيل.

المعدل الزمني لتغير طول قطر المستطيل.

وذلك عندما يكون طول المستطيل ١٢ سم وعرضه ٥ سم.



الشكل (٣-٥١)

نفرض أن طول المستطيل س سم، وعرضه ص سم،
كما في الشكل (٣-٥١).

$$\frac{دس}{دن} = -٢ \text{ سم/ث}، \quad \frac{دص}{دن} = ٢ \text{ سم/ث}$$

المطلوب: ايجاد كل من: **أ** $\frac{دس}{دن}$ ، **ب** $\frac{دل}{دن}$

حيث م مساحة المستطيل، ل طول أحد قطريه.

$$م = س ص$$

$$\frac{دم}{دن} = س \frac{دص}{دن} + ص \frac{دس}{دن}$$

وعندما س = ٢ سم، ص = ٥ سم، يكون:

$$\frac{دم}{دن} = ١٢ \times ٢ + ٥ \times (-٢) = ١٤ \text{ سم}^٢/\text{ث}$$

أي أن المساحة تتزايد عندئذ بمعدل ١٤ سم^٢/ث

باستخدام نظرية فيثاغورس يكون: ل^٢ = س^٢ + ص^٢

$$٢ل \frac{دل}{دن} = ٢س \frac{دس}{دن} + ٢ص \frac{دص}{دن}$$

بالقسمة على ٢ للطرفين:

$$ل \frac{دل}{دن} = س \frac{دس}{دن} + ص \frac{دص}{دن}$$

$$عند س = ١٢، ص = ٥ يكون ل = ١٣ \Leftrightarrow ١٣^٢ = ١٢^٢ + ٥^٢$$

بالتعويض في المعادلة السابقة:

$$١٣ \frac{دل}{دن} = ١٢ \times (-٢) + ٥ \times ٢$$

$$١٣ \frac{دل}{دن} = -١٤$$

$$\frac{دل}{دن} = -\frac{١٤}{١٣} \text{ سم/ث}$$

أي أن طول القطر يتناقص عندئذ بمعدل $\frac{١٤}{١٣}$ سم/ث

الحل:

أ

ب

مثال (٣)

بالون كروي يضخ فيه الغاز بمعدل ٢٥ لترًا/ الدقيقة. جد معدل تزايد مساحة سطح البالون عندما يكون طول نصف قطره ٥٠ سم.

الحل: ✓

نفرض أن حجم البالون ح، ومساحة سطحه م، وطول نصف قطره نق،

$$\frac{د ح}{د ن} = ٢٥ \text{ لترًا/ دقيقة، المطلوب } \frac{د م}{د ن} \text{ عندما نق} = ٥٠ \text{ سم.}$$

$$ح = \frac{٤}{٣} \pi \text{ نق}^٣$$

$$\frac{د ح}{د ن} = \frac{٤}{٣} \pi \times ٣ \text{ نق}^٢ \times \frac{د نق}{د ن}$$

$$٢٥٠٠٠ = \frac{٤}{٣} \pi \times ٥٠ \times ٥٠ \times \frac{د نق}{د ن}$$

$$\frac{د نق}{د ن} = \frac{٥}{\pi ٢} \text{ سم / دقيقة}$$

$$م = ٤ \pi \text{ نق}^٢$$

$$\frac{د م}{د ن} = \frac{د ح}{د ن} \times ٢ \times \pi \times ٤ = \frac{د نق}{د ن} \times ٢ \times \pi \times ٤$$

$$= \frac{٥}{\pi ٢} \times ٥٠ \times ٢ \times \pi \times ٤ = ١٠٠٠ \text{ سم}^٢ / \text{دقيقة}$$

مثال (٤)

في الساعة الثانية عشرة ظهراً، كانت السفينة (أ) تقع على بعد ٨٠ كم إلى الجنوب تماماً من السفينة (ب). فإذا تحركت السفينة (أ) عندئذ بسرعة ٤٠ كم/ ساعة في اتجاه الغرب، وتحركت السفينة (ب) بعد تحرك (أ) بساعة واحدة، بسرعة ٢٠ كم/ ساعة في اتجاه الجنوب، فجد معدل تغير المسافة بين السفينتين عند الساعة الثانية بعد الظهر.

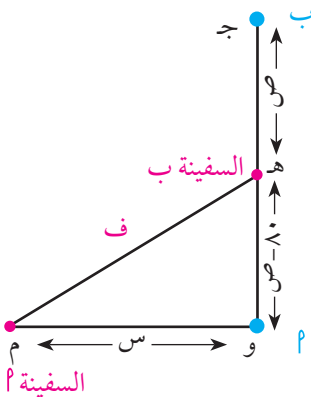
الحل: ✓

نفرض أن السفينتين أ، ب كانتا في تمام الساعة الثانية عشرة ظهراً، عند النقطتين و، هـ على الترتيب، وأنهما بعد ن ساعة كانتا عند النقطتين م، هـ على الترتيب.

لاحظ الشكل (٣-٥٢).

$$\text{سرعة أ أي } \frac{د س}{د ن} = ٤٠ \text{ كم/ ساعة.}$$

$$\text{سرعة ب أي } \frac{د ص}{د ن} = ٢٠ \text{ كم/ ساعة.}$$



الشكل (٣-٥٢)

ف تمثل المسافة بين السفينتين عند أية لحظة

المطلوب :

$$\frac{د ف}{دن} = ٢$$

باستخدام نظرية فيثاغورس :

$$ف^٢ = ٢س + (٨٠ - ص)^٢$$

$$\frac{د ف}{دن} = \frac{د س}{دن} + \frac{٢س}{دن} + \frac{٢(٨٠ - ص)^٢}{دن}$$

$$ف = \frac{د ف}{دن} = \frac{د س}{دن} + \frac{٢س}{دن} + \frac{٢(٨٠ - ص)^٢}{دن} \dots (١)$$

عند ن = ٢ ، تكون س = ٤٠ × ٢ = ٨٠ كم ، ص = ٢٠ × ١ = ٢٠ كم .

$$ف^٢ = ٢(٨٠) + (٨٠ - ٢٠)^٢$$

$$ف = ١٠٠ كم$$

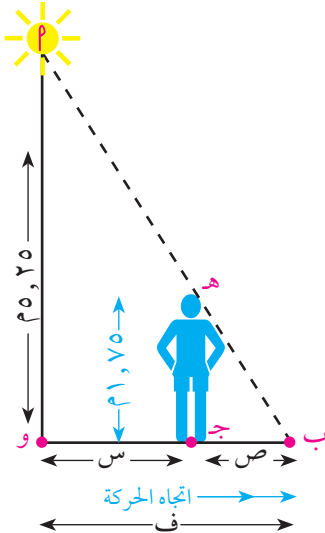
بالتعويض في المعادلة (١) :

$$٢٠٠ - خ(٦٠) + ٤٠ × ٨٠ = \frac{د ف}{دن} × ١٠٠$$

$$\frac{د ف}{دن} = \frac{٢٠٠٠}{١٠٠} = ٢٠ \text{ كم/ساعة معدل تغير المسافة بين السفينتين عند الساعة الثانية بعد الظهر .}$$

مثال (٥)

مصباح صغير في قمة عمود ارتفاعه ٢٥,٥ م. تحرك شخص طوله ١,٧٥ م مبتعداً عن المصباح بمعدل ١٢ سم/ث. جد معدل زيادة طول ظله، وكذلك المعدل الذي يتحرك به رأس ظله عندما يكون هذا الشخص على بعد ٤ أمتار من العمود.



الشكل (٣-٥٣)

نفرض أن بعد الشخص عن العمود عند أية لحظة ن = س متراً ،

وأن طول ظله عندئذ = ص متراً. لاحظ الشكل (٣-٥٣).

$$\frac{د س}{دن} = ١٢ \text{ سم/ث}$$

من تشابه المثلثين ب ج هـ ، ب و أ :

$$\frac{ص}{١,٧٥} = \frac{س + ص}{٥,٢٥}$$

$$٣ص = س + ص$$

$$٢ص = س$$

$$\frac{د ص}{دن} = \frac{د ص}{دن} + \frac{د س}{دن}$$

الحل:

أ

$$\frac{دص}{دن} = \frac{1}{2} \times \frac{دس}{دن} = \frac{1}{2} \times 12 = 6 \text{ سم/ث}$$

أي أن طول ظل الشخص يتزايد بمعدل 6 سم/ث

$$\frac{دف}{دن} = \text{معدل تحرك رأس الظل}$$

$$ف = س + ص$$

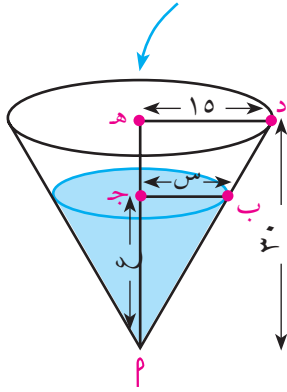
$$\frac{دف}{دن} = \frac{دس}{دن} + \frac{دص}{دن}$$

$$12 + 6 = 18 \text{ سم/ث}$$

ب

مثال (٦)

يصب الماء في مخروط دائري قائم بمعدل ٢٤٣ دسم^٣/دقيقة؛ فإذا كان رأس المخروط إلى أسفل، وارتفاعه ٣٠ دسم، ونصف قطر قاعدته ١٥ دسم، فما سرعة ارتفاع الماء عندما يكون ارتفاع الماء فيه ١٨ دسم؟



الشكل (٥٤-٣)

نفرض أن ارتفاع الماء عند أية لحظة ع، ونصف قطر السطح العلوي للماء س، وحجم الماء ح. لاحظ الشكل (٥٤-٣).

$$\frac{دح}{دن} = 243 \text{ دسم}^3/\text{دقيقة}$$

$$\text{والمطلوب: } \frac{دع}{دن} \text{ عند } ع = 18 \text{ دسم}$$

$$ح = \frac{1}{3} \pi s^2 ع \dots \dots \dots (١)$$

للتخلص من المتغير س، نشابه المثلثين أ ب ج، أ د هـ:

$$\frac{ع}{30} = \frac{س}{15} \iff س = \frac{1}{2} ع$$

بالتعويض عن س في (١)

$$ح = \frac{1}{3} \pi \left(\frac{1}{2} ع\right)^2 ع = \frac{1}{12} \pi ع^3$$

$$ح = \frac{\pi}{12} ع^3 \dots \dots \dots (٢)$$

نشتق طرفي المعادلة (٢) بالنسبة إلى ن:

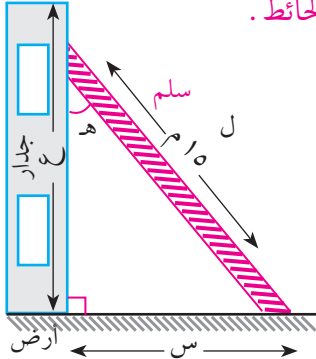
$$\frac{دح}{دن} = \frac{\pi}{12} \times 3 \times ع^2 = \frac{\pi}{4} ع^2 = \frac{دع}{دن} \times \frac{\pi}{4}$$

$$243 = \frac{دع}{دن} \times 18 \times 18 \times \frac{\pi}{4} \iff \frac{دع}{دن} = \frac{243 \times 4}{\pi \times 18 \times 18} = \frac{\pi}{3} \text{ دسم/دقيقة}$$

الحل:

مثال (٧)

سلم طوله ١٥ م يرتكز على جدار رأسي وأرض أفقية . فإذا انزلق السلم مبتعداً عن الحائط بمعدل ١ متر / دقيقة فجد :



الشكل (٣-٥٥)

معدل هبوط قمة السلم عندما يكون السلم على بعد ٩ م من الحائط .

معدل تزايد الزاوية هـ عندئذ . انظر الشكل (٣-٥٥) .

نفرض أن بعد قاعدة السلم عن الجدار عند أية لحظة = س ،

وأن ارتفاع قمة السلم عن الأرض = ع .

$$\frac{\text{دس}}{\text{دن}} = ١ \text{ متر/دقيقة}$$

المطلوب إيجاد: $\frac{\text{دع}}{\text{دن}}$ عند س = ٩ م

باستخدام نظرية فيثاغورس :

$$\text{س}^2 + \text{ع}^2 = ٢٢٥ \dots\dots\dots (١)$$

$$\text{س}^2 + \frac{\text{دس}}{\text{دن}} \text{ع} = ٢٢٥$$

$$\text{س}^2 + \frac{\text{دس}}{\text{دن}} \text{ع} = ٢٢٥ \dots\dots\dots (٢)$$

عند س = ٩ م ، نجد ع بالتعويض في المعادلة (١)

$$٨١ + \text{ع}^2 = ٢٢٥ \text{ ومنها } \text{ع} = ١٢ \text{ م}$$

بالتعويض عن س ، $\frac{\text{دس}}{\text{دن}}$ ، ع في المعادلة (٢)

$$٠ = \frac{\text{دع}}{\text{دن}} \times ١٢ + ١ \times ٩$$

$\frac{\text{دع}}{\text{دن}} = -\frac{٣}{٤}$ م / دقيقة ، أي أن قمة السلم تهبط بمعدل $\frac{٣}{٤}$ م / دقيقة في تلك اللحظة .

معدل تغير الزاوية هـ : جـه = $\frac{\text{س}}{١٥}$

$$\text{جتـه} = \frac{\text{ده}}{\text{دن}} \times \frac{١}{١٥} = \frac{\text{دس}}{\text{دن}}$$

$$\text{في اللحظة المعطاة جـه} = \frac{\text{ع}}{١٥} = \frac{١٢}{١٥} = \frac{٤}{٥}$$

$$\therefore ١ \times \frac{١}{١٥} = \frac{\text{ده}}{\text{دن}} \times \frac{٤}{٥}$$

$\frac{\text{ده}}{\text{دن}} = \frac{١}{١٢}$ زاوية نصف قطرية / دقيقة .

أي أن الزاوية هـ تزايد بمعدل $\frac{١}{١٢}$ زاوية نصف قطرية / دقيقة عند تلك اللحظة .

أ

ب

الحل:

أ

ب

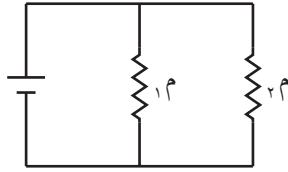
١ بفرض أن جميع المتغيرات فيما يأتي هي اقترانات في الزمن (ن)، أجب عما يلي :

أ إذا كان $s^3 - 3ص^2س = 2-$ ، $\frac{دس}{دن} = 5$ عند $s = 1$ ، $ص = 1$ ، فجد $\frac{دص}{دن}$.

ب إذا كان طاه $= \frac{س}{200}$ ، $\frac{ده}{دن} = \pi 6$ عند $s = 200-$ ، فجد $\frac{دس}{دن}$.

٢ أطلق صاروخ رأسياً إلى أعلى بسرعة ٢ كم/ث، كم يبلغ المعدل الزمني لتغير المسافة بينه وبين محطة المراقبة الواقعة على بعد ٣ كيلو مترات من منصة إطلاق الصاروخ عندما يبلغ ارتفاعه ٤ كيلو مترات عن سطح الأرض؟

٣ عند وصل مقاومتين $١م$ ، $٢م$ على التوازي (انظر الشكل) تعطى المقاومة الكلية م



بالمعادلة $\frac{1}{م} = \frac{1}{١م} + \frac{1}{٢م}$. إذا كانت $١م$ ، $٢م$ تزدادان بالمعدلين $٠,٢$ ، ٠ أوم/ث و $٠,٣$ ، ٠ أوم/ث على الترتيب، فما معدل تغير م عندما تكون $١م = 20$ أوماً، $٢م = 50$ أوماً؟

٤ تتحرك سفينتان مبتعدتين عن نقطة م في طريقتين يصنعان زاوية قياسها ١20° ، فإذا كانت سرعة الأولى ١٤ ميلاً/الساعة، وسرعة الثانية ٢١ ميلاً/الساعة، فما معدل تغير المسافة بين السفينتين عندما يكون بعداهما عن م يساويان ٥ أميال، ٣ أميال على التوالي؟

٥ يحرك طفل طائرة ورقية بحيث كان طرف الخيط الذي يمسكه على ارتفاع ١٥٠ سم، وكان معدل تزايد طول الخيط ٦٠ سم/ث والطائرة الورقية تتحرك أفقياً على ارتفاع ٥، ٣١ م. إذا بقي الخيط مشدوداً في أثناء حركة الطائرة، فجد سرعة الطائرة عندما يكون طول الخيط ٥٠ متراً.

٦ يزداد نصف القطر والزاوية المركزية لقطاع دائري بمعدل ٢ سم/ث، $\frac{1}{٣}$ °/ث على الترتيب، فإذا كان معدل زيادة مساحة القطاع في لحظة معينة هو ١٢ سم^٢/ث، وكانت زاويته المركزية عندئذ تساوي ١° ، فجد مساحة القطاع عندئذ.

٧ طائرة عمودية لمراقبة السيارات، تقف ثابتة رأسياً على ارتفاع $\frac{1}{4}$ كيلومتر من نقطة معينة في الشارع، فإذا لاحظ رادار الطائرة سيارة على بعد نصف كيلو متر من الطائرة، متباعدة عنها بمعدل ٥٧ كم/ساعة، فهل تجاوزت السيارة السرعة المحددة لها وهي ٦٠ كم/ساعة؟

٨ تطير طائرة على ارتفاع ٣٠٠٠ م بسرعة ثابتة في خط مستقيم يمر بالنقطة الواقعة رأسياً فوق شخص يرصدها من سطح الأرض. وعند لحظة ما وجد الراصد أن زاوية ارتفاع الطائرة 60° وأنها تتزايد بمعدل 0.2 ، زاوية نصف قطرية/ث. كم كانت سرعة الطائرة؟

٩ ينزل مسحوق البن من قمع مخروطي إلى إناء أسطواني بمعدل 100 سم^٣/دقيقة. فإذا كان نصف قطر قاعدة الاسطوانة = 15 سم، ونصف قطر قاعدة المخروط = 10 سم، وارتفاعه 20 سم، فجد معدل ارتفاع البن في الإناء عندما يكون ارتفاع البن في القمع 10 سم. وما معدل انخفاض البن في القمع آنذاك؟

١٠ أثبت أنه إذا تزايدت مساحة دائرة بمعدل ثابت فإن محيطها يتزايد بمعدل يتناسب عكسياً مع نصف القطر.

١١ يرتفع مصباح عن الأرض 12 م، فإذا سقط حجر من الارتفاع نفسه وعلى بعد 3 أمتار من المصباح، فجد سرعة ظل الحجر على الأرض بعد ثانية واحدة من بدء حركته، إذا علمت أن المسافة بالأمطار التي يقطعها الحجر في ن ثانية تعطى بالقاعدة $f = 9, 4$ ن^٢.

تمارين عامة

١ اختر الإجابة الصحيحة لكل من الأسئلة الآتية :

١ إذا كان $ق(س) = |س|$ فإن :

- أ $ق(٠)$ غير موجودة ب $ق(٠)$ قيمة عظمى محلية
ج $ق(٠)$ قيمة صغرى محلية د $ق(٠)$ نقطة انعطاف

٢ قيمة $ح$ التي نحصل عليها من تطبيق نظرية القيمة المتوسطة على الاقتران

$$ق(س) = \begin{cases} ٢س & , ١ \geq س \geq ٠ \\ ١ + ٢س & , ٢ \geq س > ١ \end{cases}$$

في الفترة $[٠, ٢]$ هي :

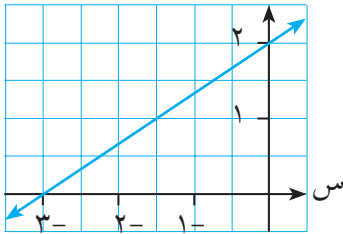
أ $\frac{٤}{٥}$ ب $\frac{٢}{٣}$ ج $\frac{٣}{٢}$ د $\frac{٥}{٤}$

٣ إذا كان $ق(س)$ اقتراناً معرفاً على الفترة $[٠, ٣]$ وقابلاً للاشتقاق على الفترة $[٠, ٣]$ ،

بحيث $ق(س) = \frac{٢-س}{١+س}$ فإن عدد النقاط الحرجة للاقتران $ق$ يساوي :

- أ ٢ ب ٣ ج ٤ د ٥

ق(س)



٤ يمثل الشكل المجاور منحنى $ق(س)$ للاقتران $ق(س)$.

ما إحداثيا نقطة انعطاف منحنى $ق(س)$ ؟

- أ $(٠, ٢)$ ب $(٠, ٣)$
ج $(٠, ٠)$ د $(٣, ٠)$

◆ يمثل الشكل المجاور منحنى $ق(س)$ على الفترة $[٢, ٤]$.

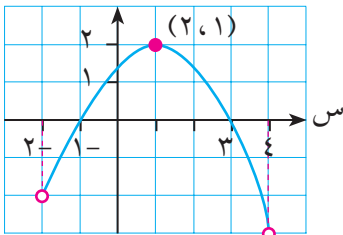
إذا علمت أن $ق(س)$ معرف على $[٢, ٤]$

فاعتمد على ذلك في الإجابة عن الأسئلة ٥ ، ٦ ، ٧ التالية :

٥ مجال تزايد الاقتران $ق(س)$ هو :

- أ $[١, ٢]$ ب $[١, ١]$
ج $[٣, ١]$ د $[٤, ١]$

ق(س)



٦ باستثناء الطرفين يكون للاقتران $ق(س)$ قيمة صغرى محلية عند النقطة :

- أ $(٠, ١)$ ب $(٠, ٣)$ ج $(٢, ١)$ د $(١, ٠)$

٧ نقطة انعطاف منحنى ق(س) هي :

أ (٠، ٣) ب (٠، ١-) ج (٢، ١) د (١، ق(١))

٨ تتحرك نقطة على منحنى الاقتران ق(س) = س^٣ بحيث إن $\frac{دس}{دن} = ٢سم/ث$ ، أوجد المعدل الزمني لتغير ميل المماس للاقتران ق(س) عندما س = ١.

أ ٣ ب ٦ ج ١٢ د ٢٤

٩ الاقتران ق(س) متصل على [١، ٥]، ق(س) < ٠ لجميع قيم س \exists [١، ٥]. إحدى العبارات التالية صحيحة دائماً:

أ للاقتران ق(س) قيمة عظمى عند س = ٥ ب ق(س) متناقص على [١، ٥]
ج الاقتران هـ(س) = س ق(س) متناقص على [١، ٥]
د لا يوجد للاقتران ق نقطة انعطاف في [١، ٥].

١٠ قيمة ج التي تحددها نظرية رول على الاقتران ق(س) = جاس + جتاس في الفترة $[\frac{\pi}{٣}, ٠]$ هي :

أ ٠ ب $\frac{\pi}{٦}$ ج $\frac{\pi}{٤}$ د $\frac{\pi}{٣}$

♦ إذا كان ق(س) = $\frac{٢}{٣}س^٣ + \frac{٣}{٢}س^٢ + س - ٥$ فاعتمد على ذلك في الإجابة عن السؤالين ١١، ١٢ التاليين:
١١ الاقتران ق(س) متناقص في الفترة:

أ $[١, \frac{١}{٢}]$ ب $[\frac{١}{٢}, ١-]$
ج $[-\infty, -\frac{٢}{٤}]$ د $[-\infty, ١-]$ وكذلك $[\frac{١}{٢}, \infty]$.

١٢ منحنى الاقتران ق(س) مقعر للأعلى في الفترة:

أ $[\frac{١}{٢}, ١-]$ ب $[-\infty, ١-]$ وكذلك $[\infty, ١-]$
ج $[-\infty, -\frac{٣}{٤}]$ د $[\infty, -\frac{٣}{٤}]$

١٣ إذا كان ق(س) = $|س - ٢| - ٥$ ، س \exists [٢، ٢-] فإن القيمة العظمى المطلقة للاقتران ق هي :

أ ٢ ب ٢- ج ١ د ١-

١٤ إذا كان ق(س) اقتراناً بحيث ق(س) متزايد على $[-١, ٠]$ ، ق(س) متناقص على $[٠, ١]$ ، فإن إحدى العبارات التالية صحيحة دائماً:

أ ق(س) متناقص على الفترة $[٠, ١]$ ب ق(س) متزايد على الفترة $[٠, ١]$
ج عند س = ٠ نقطة حرجة للاقتران ق(س) د ((٠، ق(٠)) نقطة انعطاف لمنحنى ق(س)

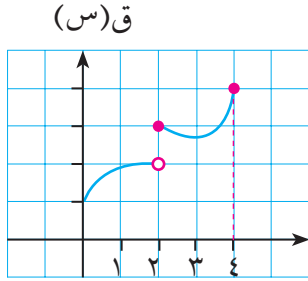
١٥ إذا كان ق(س) اقتراناً بحيث ق(س) = (س-٣)²(س-١)³(س-٥)⁴، فما مجموعة جميع قيم س التي يوجد عند كل منها قيمة صغرى محلية للاقتران ق(س)؟

- أ {٥} ب {٥، ٣} ج {٣، ١} د {١}

١٦ ق(س)، هـ(س) اقترانان كثيرا حدود متزايدان على ح. الاقتران (ق، هـ) (س) يكون:

- أ متزايداً على ح ب متناقصاً على ح
ج له قيمة عظمى محلية عند س = ٠ د له قيمة عظمى مطلقة

١٧ الشكل المجاور يمثل منحنى الاقتران ق(س) المعروف على الفترة [٠، ٤] النقطة (٢، ق(٢)) هي:



- أ نقطة انعطاف لمنحنى ق(س). ب نقطة قيمة عظمى مطلقة.
ج نقطة قيمة صغرى مطلقة. د نقطة قيمة عظمى محلية.

١٨ إذا كان ق(س) = س³ - ٣س² + ٢س، س ∈ ح فإن:

- أ للاقتران ق(س) نقطة انعطاف عند س = ٠
ب للاقتران ق(س) قيمة عظمى محلية عند النقطة (٢، ق(٢)).
ج للاقتران ق(س) قيمة صغرى محلية عند النقطة (٢، ق(٢)).
د منحنى الاقتران ق(س) مقعر للأسفل دائماً.

١٩ ق(س) اقتران معرف على الفترة [-١، ١]، ق موجودة، وعند س = ٠ نقطة انعطاف لمنحنى ق. إحدى العبارات التالية صحيحة دائماً:

- أ منحنى ق(س) مقعر للأسفل في الفترة [-١، ٠]
ب منحنى ق(س) مقعر للأعلى في الفترة [٠، ١]
ج ق(س) لها نقطة حرجة في الفترة [-١، ١]
د ق(س) لها نقطة حرجة في الفترة [١، ١]

٢٠ إذا كان ق(س) = $\left. \begin{array}{l} س^٢ - س ، \quad ٠ \leq س \leq ١ \\ س - ١ ، \quad ١ > س \geq ٣ \end{array} \right\}$

فإن مجموعة جميع قيم س التي يكون عند كل منها نقطة حرجة للاقتران ق(س) في الفترة [٠، ٣] هي:

- أ {٣، ١، ٠} ب {٣، ٠} ج {٣، ١/٣، ٠} د {٣، ١، ١/٣، ٠}

٢ إذا علمت أن ق(س) = $\left. \begin{array}{l} 3س - 2س^2 ، \quad 1 \geq س \\ 2س^2 + 1س + ب ، \quad 1 < س \end{array} \right\}$ فأوجد ما يلي:

- أ الثابتين α ، β اللذين يجعلان الاقتران ق(س) قابلاً للاشتقاق على \mathbb{R} .
 ب الفترة / الفترات التي يكون فيها ق(س) متزايداً.
 ج نقطة / نقط الانعطاف لمنحنى ق(س).

٣ أثبت أن للاقتران ق(س) = $س + جا^2 \frac{س}{3} - 8$ صفراً وحيداً على \mathbb{R} .

٤ ق(س) اقتران كثير حدود من الدرجة الثانية يمر بمنحناه بنقطة الأصل ويحقق الاقتران شروط نظرية رول على الفترة $[0, 4]$. إذا كانت القيمة الصغرى للاقتران في هذه الفترة تساوي -4 فأوجد قاعدة الاقتران ق(س).

٥ ق(س) اقتران كثير حدود بحيث ق'(2) = ق'(6) = 0 وكان ق'(س) متزايداً على الفترة $[-\infty, 1]$ وكذلك على الفترة $[4, \infty]$ وكان ق'(س) متناقصاً على $[1, 4]$ أوجد:
 أ نقط القيم القصوى المحلية للاقتران ق(س).
 ب مجالات التزايد والتناقص للاقتران ق(س).

٦ أ ب ج مثلث قائم الزاوية في ج و متساوي الساقين وطول أ ب = 6 سم ، ما مساحة أكبر مستطيل يمكن رسمه داخل المثلث بحيث ينطبق أحد أضلاعه على الوتر أ ب ، ويقع الرأسان الآخران على ضلعي القائمة؟

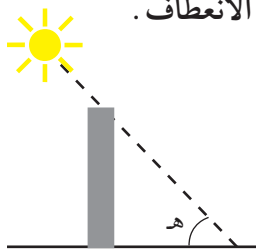
٧ ابحث في توفر شروط نظرية رول للاقتران ق(س) = $\frac{\sqrt{2س - 1}}{س^2 + 3س}$ على الفترة $[-1, 1]$ ثم عين قيمة/قيم ج التي تحدها النظرية (إن وجدت).

٨ أوجد القيم القصوى للاقترانات التالية على مجالاتها:

أ ق(س) = $س - جا س$ على الفترة $[0, 2\pi]$ ب ق(س) = $|س^2 + 5س + 6|$

٩ إذا كان ق(س) = $2 + جتا^2 س - جتا 2س$ ، $س \in [0, \frac{\pi}{4}]$ فأوجد:

أ مجالات التقعر للأعلى وللأسفل للمنحنى ق(س). ب نقطة / نقط الانعطاف.



١٠ في لحظة ما ، كان طول ظل مبنى ارتفاعه 30م يساوي 20م ، وكانت زاوية ارتفاع الشمس ه تتزايد بمعدل 25 ، 0 درجة / دقيقة . جد معدل تغير ظل المبنى آنذاك .

المراجع

- 1- Thomas Calculus, 10th Edition, Addison Wisely, 2000
- 2- Calculus with Analytic Geometry, Edwards & Penny, 4th Edition, Prentice hall 1994
- 3- Calculus, Howard Anton, 6th Edition, John Wiley, 1999
- 4- Calculus, One & Several Variables, S.L.Salas, Einar hille, 4th Edition, 1982,
- 5- [http:// archives.math.utk.edu](http://archives.math.utk.edu)
- 6- [http:// www.mathreference.com](http://www.mathreference.com)

أسماء المشاركين في إقرار الكتاب

- نبيل الجولاني	- أحمد حرز الله	- هناء الشرباتي	- حسني مدارسة
- خالد جبران	- رانية ونان	- يوسف الحروب	- قيس شبانة
- خالد أبو غنام	- رائد ملاك	- خضر زياب	- أحمد عواودة
- ميسون أبو طير	- ازدهار الحضيرى	- أسعد نجاجرة	- محمد عبية
- محمد زياب	- ابتسام بعباع	- نسرين الأطرش	- باسم يامين
- سناء الأشهب	- عبد الحكيم سالم	- سارة أبو محميد	- عادل توفيق
- ميرفت أبو غزالة	- محمد نظام صالح	- أيوب حمامرة	- ناصر عبد الكريم
- منى أبو الحلاوة	- عبد الحافظ سلامة	- جوني مصلح	- أمل صوفان
- أمين عديلة	- نصر الله أبو حجلة	- ياسمينه ثوابته	- محمد دراوشة
- عبيدة الأجر ب	- سهيلة بدر	- عماد صلاح	- إبراهيم أبو عبية
- خدوج الأشهب	- أحلام صلاح	- عماد قاسم	- طاهر رحال
- أسعد الترهى	- خليل محيسن	- رائدة عويس	- معزوز أبو شهاب
- إيناس زهران	- عادل الفوارعة	- عدنان مرعي	- ابتسام الملاح
- انتصار أبو عرة	- محمد علي حمدان	- عبد الرحمن زيود	- نداء عرفات
- محمد السراحنة	- فايز الطيطي	- رياض زيدان	- محمود كميل
- إبراهيم متولي	- عبد الحافظ الخطيب	- محمد نور	- عبد الرحمن عزام
- جوهر الجمل	- عائشة صباح	- ايناس أبو عمرة	- منتهى عبدالله
- ناصر حمامدة	- تهاني عمرو	- جمال ثابت	- محمد العليات
- أيمن أبو زياد	- سوسن الدويك	- ختام حنو	- بسام قديح
- حسن أبو يونس	- خولة أبو سنينة	- عبد الباسط خليل	- على أبو حلوة
- نهى يعقوب	- جعفر الكركي	- عدنان عاصي	

