



دولة فلسطين

وزارة التربية والتعليم العالي

مديرية التربية والتعليم - خان يونس

امتحان تجريبي

للعام الدراسي 2018/2019م

المبحث: الدراسات الجغرافية

الفرع الأدبي

مدة الامتحان: ساعتان ونصف

التاريخ:

مجموع العلامات 100 درجة

ملاحظة: عدد أسئلة الورقة (أربعة) أسئلة، أجب عن (ثلاثة) منها فقط.

القسم الأول: يتكون هذا القسم من سؤال اختيار من متعدد وعلى المشترك أن يجيب عنه اجبارياً.

السؤال الأول:

اختر الإجابة الصحيحة: ثم ضع إشارة (X) في المكان المخصص في دفتر الإجابة:

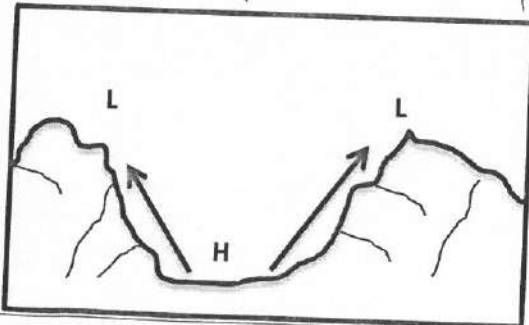
1. أي من التيارات البحرية الآتية تيار بارد؟
(أ) الخليج (ب) موزامبيق (ج) شرق استراليا (د) كناري
2. كم تنخفض درجة الحرارة عندما ترتفع 450 متراً عن مستوى سطح البحر؟
(أ) درجتان (ب) ثلاث درجات (ج) أربع درجات (د) خمس درجات
3. كم تتراوح نسبة الألبيدو الأرضي للثلج؟
(أ) من 20-30% (ب) من 60-90% (ج) من 30-40% (د) من 40-50%
4. أي من العوامل الآتية تؤثر في الرياح؟
(أ) قوة كوريوليس (ب) طول النهار (ج) صفاء الجو (د) القرب والبعد عن البحر
5. أي من العوامل الآتية تؤثر في درجة الحرارة؟
(أ) زاوية سقوط الأشعة (ب) طول النهار (ج) الموقع الفلكي (د) صفاء الجو
6. ماذا يعني تحول الماء من الحالة الغازية الى الحالة السائلة؟
(أ) التبخر (ب) الترسيب (ج) التكاثف (د) التسامي
7. ما المقصود بنسبة بخار الماء الموجود فعلاً في الهواء الى بخار الماء الذي يستطيع الهواء استيعابه عند نفس درجة الحرارة؟
(أ) الرطوبة المعتدلة (ب) الرطوبة النسبية (ج) الرطوبة المطلقة (د) الرطوبة الجوية

8. كم يبلغ ارتفاع السحب المتوسطة الارتفاع؟

(أ) 2-5 كم (ب) 2-9 كم

9. ما اسم الرياح اليومية في الشكل المجاور؟

- (أ) نسيم البر
(ب) نسيم الوادي
(ج) نسيم الجبل
(د) نسيم البحر

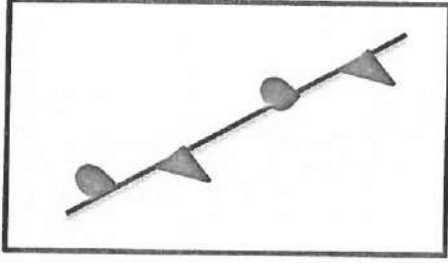


(د) 7-12 كم

(ج) 2-7 كم

10. بماذا تمتاز المرحلة الأولى من العاصفة الرعدية؟

(د) البرق والرعد



(أ) تكوير الغيوم (ب) التيارات الهابطة (ج) الامطار الغزيرة

11. ماذا يطلق على الشكل المجاور

(أ) جبهة هوائية باردة (ب) جبهة هوائية حارة
(ج) جبهة هوائية دافئة (د) جبهة هوائية مستقرة

12. ما المناخات التي ينعدم فيها وجود فرق في درجات الحرارة؟

(أ) المناخ الاستوائي (ب) المناخ الصحراوي (ج) المناخ الموسمي (د) مناخ البحر المتوسط

13. ما الاقليم المناخي الذي تنتمي اليه الدول الآتية (اثيوبيا بنجلادش)؟

(أ) الاقليم الصحراوي (ب) الاقليم الاستوائي (ج) الاقليم الموسمي (د) اقليم البحر المتوسط

14. ما الامتداد الفلكي لإقليم البحر المتوسط ؟

(أ) 5 درجة ش و ج (ب) 10-15 درجة ش و ج (ج) 30-45 درجة ش و ج (د) 45-90 درجة ش و ج

15. كم تشكل هضبة النقب من مساحة فلسطين ؟

(أ) ¼ المساحة (ب) ⅓ المساحة (ج) ½ المساحة (د) ⅔ المساحة

16. أي من الدول الآتية وصلت للحد الأقصى في استغلال الموارد الطبيعية وتوفير حاجات السكان؟

(أ) السعودية (ب) اليابان (ج) كندا (د) بريطانيا.

17. ضمن أي من المجموعات الآتية يمكن ان نصنف الغابات؟

(أ) محدودة الانتشار (ب) واسعة الانتشار (ج) نادرة الانتشار (د) متوسطة الانتشار

18. ما الأمثلة على الصخور المتحولة؟

(أ) الجرانيت والبازلت (ب) الحجر الجيري والصوان (ج) الناييس والشست (د) الفحم الحجري والغاز

19. كيف يمكن للطاقة أن تكون مؤشراً اقتصادياً وحضارياً للدول؟

(أ) انتاجها (ب) تنوعها (ج) استهلاكها (د) كميتها

20. ما نسبة مساهمة البترول من مصادر الطاقة المستخدمة في العالم؟

(أ) 13% (ب) 23% (ج) 33% (د) 43%

21. أي من النباتات التالية يتحمل الجفاف ؟

(أ) الأثل (ب) الخروب (ج) الزان (د) المانجروف

22. أين توجد أحراج اللطرون ؟

(أ) في غرب نابلس (ب) في غرب صغد (ج) في غرب حيفا (د) غرب القدس

23. ما المفهوم الذي يطلق على تثبيت سعر المحصول أو منتج رئيسي إذا تعرض سعره للهبوط أو دعمه ؟

(أ) التضخم (ب) تعزيز الأسعار (ج) تقويم الأسعار (د) الاحتكار

24. أين انفجر مفاعل تشيرنوبل ؟

(أ) في فرنسا (ب) في أوكرانيا (ج) في رومانيا (د) في بلغاريا

25. ما المحيط الذي يحدث فيه أكبر نسبة زلازل في العالم ؟

(أ) المحيط الهندي (ب) المحيط الهادئ (ج) المحيط الأطلس (د) المحيط المتجمد الشمالي

26. أي الدول الآتية تقع ضمن حزام الالتواءات الألبية الزلزالية ؟
 (أ) إيران و اليابان (ب) الصين و إيران (ج) الصين و روسيا (د) إيران و تنزانيا
27. ما الاعصار الذي يضرب سواحل شرق الولايات المتحدة الأمريكية ؟
 (أ) الهيريكين (ب) التورنادو (ج) كاترينا (د) التيفون
28. ما الذي يساعد على نقل المياه الدافئة عبر المحيط الهادئ في ظاهرة النينو ؟
 (أ) التيارات المائية (ب) حركة الأمواج (ج) المد والجزر (د) التيارات الهوائية
29. كم تبلغ نسبة تراجع الأراضي الزراعية في التصحر المعتدل ؟
 (أ) 15 % (ب) 25 % (ج) 50 % (د) 52 %
30. ما درجة التصحر الذي يظهر فيها كثبان رملية صغيرة ؟
 (أ) الخفيف (ب) المعتدل (ج) الشديد (د) الشديد جداً
31. في أي مرحلة كانت السياحة تقتصر على طبقة الأمراء و الملوك ؟
 (أ) المرحلة الأولى (ب) المرحلة الثانية (ج) المرحلة الثالثة (د) المرحلة الرابعة
32. ماذا يدرس علم الآثار ليفيد السياحة ؟
 (أ) الجدوى الاقتصادية (ب) التوزيع الجغرافي للأراضي (ج) أحوال الطقس (د) ترميم الأماكن التاريخية
33. ما أهم انهار العالم التي اكتسبت أهميتها للسياحة من الإستثمار على ضفافها ؟
 (أ) نهر المسيسيبي (ب) نهر الأمازون (ج) نهر الأردن (د) نهر النيل
34. أين يوجد جسر البسفور ؟
 (أ) في اليونان (ب) في فرنسا (ج) في إيطاليا (د) في تركيا
35. ما أكثر انواع السياحة شيوعاً وانتشاراً ؟
 (أ) السياحة التاريخية (ب) السياحة الترفيهية (ج) السياحة العلاجية (د) السياحة الرياضية
36. ما الدولة التي يوجد فيها واحة سيوة ؟
 (أ) ليبيا (ب) مصر (ج) الجزائر (د) تونس
37. من الفيلسوف الذي يرى أن الدولة ينمو فيها الناس من أجل وجودهم وتحقيق السعادة ؟
 (أ) ابن خلدون (ب) ارسطو (ج) افلاطون (د) فردريك راتزل
38. أي الدول الآتية تعتبر برية بحرية مجزأة ؟
 (أ) اليابان (ب) إيطاليا (ج) جزر القمر (د) اندونيسيا
39. ما الدول المتنازعة على مستعمرة جبل طارق ؟
 (أ) أسبانيا والمغرب (ب) أسبانيا وفرنسا (ج) المغرب وبريطانيا (د) أسبانيا وبريطانيا
40. ما الديانة السائدة في باكستان ؟
 (أ) المسيحية (ب) الاسلام (ج) اليهودية (د) البوذية

القسم الثاني يتكون من ثلاثة أسئلة وعلى المشترك أن يجيب عن سؤالين فقط.

السؤال الثاني : (20 علامة)

أ. عرف ما يلي:

ب. السياحة الداخلية 2. ظاهرة النينو.

(علامتان)

ج. أفرق بين الأشعة المرئية والأشعة الغير مرئية.

(6 علامات)

د. ما المعوقات والتحديات التي تواجه إدارة الموارد البشرية.

(4 علامات)

هـ. أبين أسباب مشكلة التصحر في فلسطين.

(3 علامات)

و. أكتب ما تشير إليه الأرقام التالية على الخريطة المرفقة :

(5 علامات)

(1. وحدة سياسية 2. نهر 3. سلسلة جبلية 4. واحة 5. مدينة أثرية)

السؤال الثاني : (20 علامة)

أ. وضح مع الرسم آلية حدوث ظاهرة نسيم البر مع الرسم.

(4 علامات)

ب. علل ما يأتي:

(6 علامات)

(1) للندى فوائد كثيرة.

(2) وجود بعض المعادن في مناطق بعيدة عن تكونها الأصلي

(3) احتمالية تعرض فلسطين للزلازل والبراكين .

ج. أبين العلاقة بين الجغرافية السياحية وعلم الطب.

(2.5 علامة)

د. أفرق بين أنواع الحدود الطبيعية مع ذكر مثال واحد.

(5 علامات)

ارسم خريطة لفلسطين موضحاً عليها:

(2.5 علامة)

(مدينة حيفا – الناقل القطري للمياه – الرياح الجنوبية الغربية العكسية – دولة سوريا)

السؤال الثالث: (20 علامة)

أ. أبين الموقع الفلكي والجغرافي والخصائص المناخية للإقليم المعتدل البحري (إقليم غرب أوروبا). (6 علامات)

(2.5 علامة)

ب. أبين مخاطر العواصف الرعدية.

(5 علامات)

ج. أصنف الدول حسب المساحة.

(4 علامات)

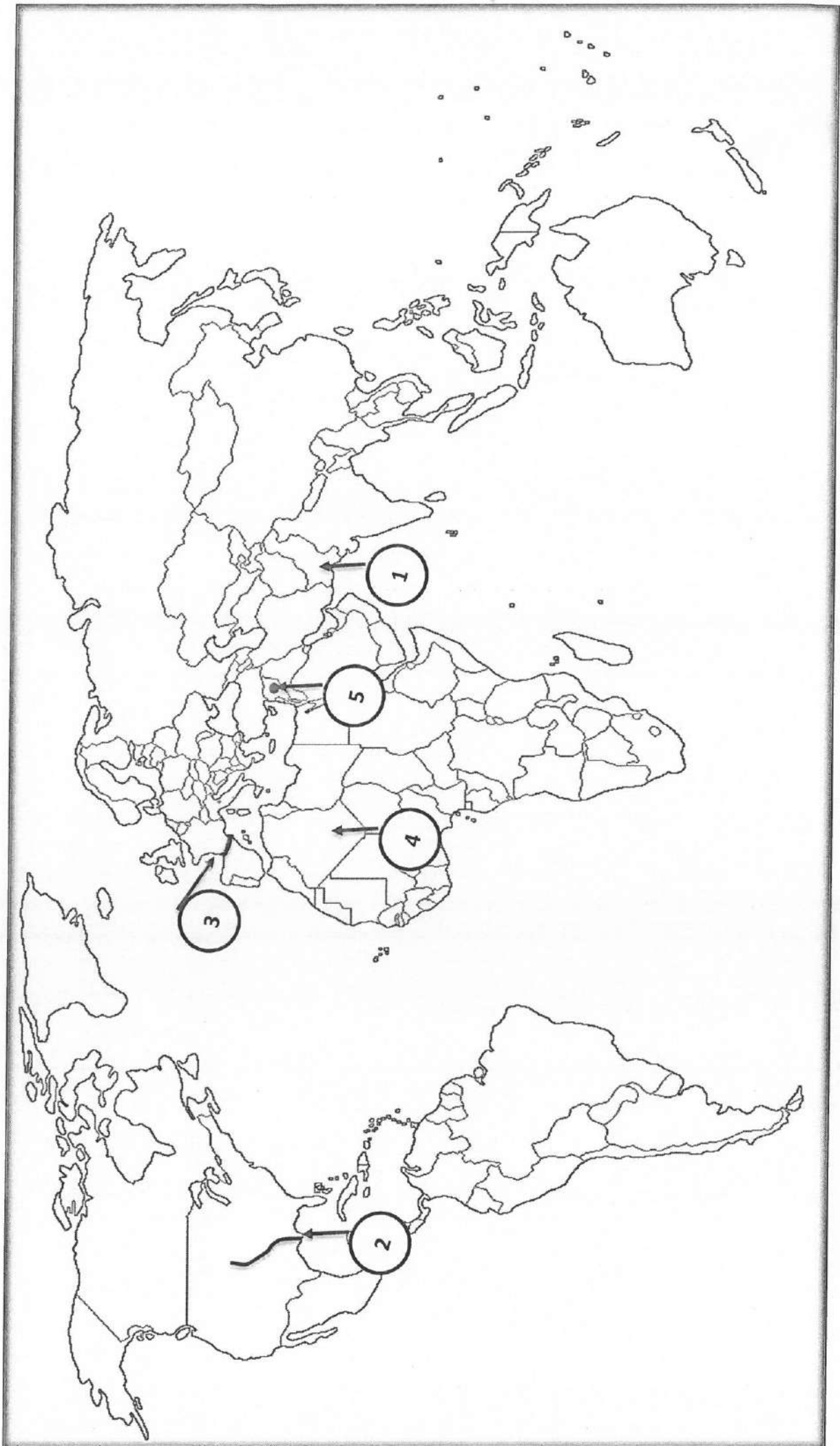
د. أفرق بين سياحة الحوافز والسياحة الترفيهية.

هـ. ارسم خريطة لمنطقة مضيق جبل طارق موضحاً عليها:

(2.5 علامة)

(دولة أسبانيا ،مدينتي سبتة وملية، المحيط الأطلسي ، مستعمرة جبل طارق)

انتهت الأسئلة



مدة الامتحان: ساعتان ونصف
التاريخ:
مجموع العلامات 100 درجة

إجابة الامتحان تجريبي
للعام الدراسي 2018/2019م
المبحث: الدراسات الجغرافية
الفرع الأدبي



دولة فلسطين

وزارة التربية والتعليم العالي
مديرية التربية والتعليم - خان يونس

اجابة القسم الأول: سؤال اختيار من متعدد .

ج	.5	أ	.4	ب	.3	ب	.2	د	.1
أ	.10	ب	.9	ج	.8	ب	.7	ج	.6
ج	.15	ج	.14	ج	.13	أ	.12	د	.11
ج	.20	ج	.19	ج	.18	د	.17	ب	.16
ب	.25	ب	.24	ب	.23	د	.22	أ	.21
ب	.30	ب	.29	أ	.28	أ	.27	ب	.26
ب	.35	د	.34	د	.33	د	.32	أ	.31
ب	.40	د	.39	ب	.38	ب	.37	ب	.36

اجابة السؤال الثاني : (20 علامة)

أ. عرف ما يلي:

ب. السياحة الداخلية: سياحة يمارسها سكان الدولة داخل حدود الدولة بالتوجه نحو الشواطئ والأنهار او نحو المناطق الريفية والبرية او نحو المدن التي تتوفر فيها الخدمات السياحية.

2. ظاهرة النينو:ظاهرة مناخية طبيعية تحدث كل ثلاث سنوات مرة تشهدها مياه المحيط الهادئ بحيث ترتفع مياه

المحيط نصف درجة مئوية.

ج. أقرن بين الأشعة المرئية والأشعة الغير مرئية.

الأشعة الغير مرئية		الأشعة المرئية		اوجه المقارنة
قصيرة جدا	طويلة	قصيرة	طويلة	طول الموجة
أقل من 0.4 ميكرون	4-0.7 ميكرون	0.7- 0.4 ميكرون		
%9	%46	%45		ماتشكله من مجموع الاشعاع الشمسي
فوق البنفسجية-جاما-السينية	أشعة تحت الحمراء	ألوان الطيف		أمثلة عليها
مجال الطب	تسبب في رفع درجة الحرارة	تستجيب لها العين البشرية لرؤية الأجسام		أهميتها

(4 علامات)

أ. ما المعوقات والتحديات التي تواجه إدارة الموارد البشرية.

- 1) ضعف مشاركة الموارد البشرية في اتخاذ القرارات.
- 2) تحديات احتياجات سوق العمل وتوجهاته.
- 3) تحديات مقاومة التغيير والتنافس العالمي.
- 4) صعوبة قياس تأثير الموارد البشرية في التنمية.

(3 علامات)

ب. أبين أسباب مشكلة التصحر في فلسطين.

- نقص كمية الأمطار وتذبذبها
- الضغط السكاني على الموارد الطبيعية
- ممارسات الاحتلال الصهيوني من خلال الاستيطان وشق الطرق واستنزاف المياه وضخ المياه العادمة وبناء جدار الضم والسيطرة على المياه السطحية.

(5 علامات)

ج. أكتب ما تشير إليه الأرقام التالية على الخريطة المرفقة :

1. وحدة سياسية: باكستان 2. نهر: المسيسيبي 3. سلسلة جبلية: البرانس 4. واحة: واحة عين صالح 5. مدينة أثرية: تدمر (

السؤال الثاني : (20 علامة)

أ. أوضح مع الرسم آلية حدوث ظاهرة نسيم البر مع الرسم.

(4 علامات)

نسمات من الرياح الجافة التي تهب ليلاً من اليابس باتجاه البحر بسبب انخفاض درجة حرارة اليابس وتشكل ضغط جوي مرتفع عليه أما فوق البحر يتشكل عليه ضغط جوي منخفض لاحتفاظ الماء بدرجة الحرارة.

ب. علل ما يأتي:

1) للندى فوائد كثيرة.

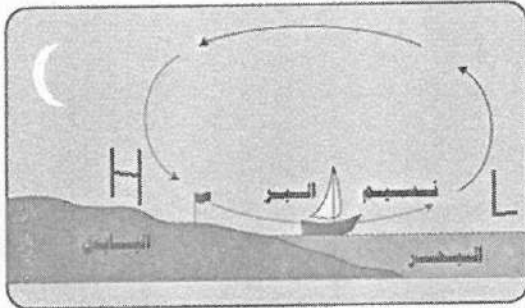
مصدر لرتوبة التربة، يؤخر تبخر الماء من التربة، يمنع دخول الآفات الزراعية لأوراق النبات المبلل بالندى.

2) وجود بعض المعادن في مناطق بعيدة عن تكونها الأصلي

بسبب عوامل التعرية من خلال النحت والنقل والإرساب التي أدت لتفتت الصخور ونقلها من أماكن وجودها إلى أماكن جديدة.

3) احتمالية تعرض فلسطين للزلازل والبراكين .

لأن فلسطين جزء من الانهدام الآسيوي الأفريقي ولوجود أكثر من بؤرة زلزالية فيه



(6 علامات)

ج. أبين العلاقة بين الجغرافية السياحية وعلم الطب. (2.5 علامة)

علم الطب: يهتم بدراسة الأمراض وأنواعها، وتشخيصها وطرق انتشارها والمخاطر الناجمة عنها والوقاية منها
جغرافية السياحة تهتم بتوزيع الجغرافي للأمراض وأثرها على الحركة السياحية والحد من انتشارها بين الدول

د. أفرق بين أنواع الحدود الطبيعية مع ذكر مثال واحد. (5علامات)

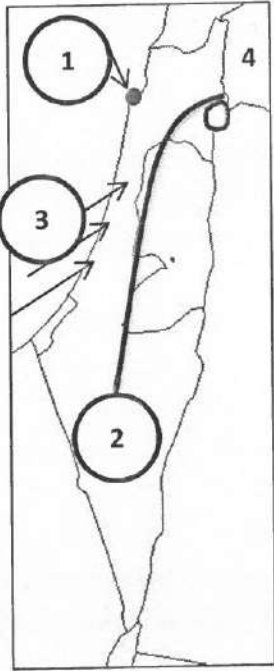
الحدود الجبلية: تتمثل في السلاسل الجبلية التي تفصل بين الدول مثال: جبال البرانس تفصل بين فرنسا واسبانيا.
* تتميز بسهولة إقامة نقاط مراقبة والتحصينات عليها

الحدود النهرية: هي الحدود التي تمتد مع امتداد الأنهار مثال: نهر الأردن الذي يفصل بين فلسطين والأردن

الحدود البحرية: تخص الدول التي تشرف على مسطحات بحرية وتتمثل في المياه الإقليمية للدولة.

ارسم خريطة لفلسطين موضحاً عليها: (2.5 علامة)

1. مدينة حيفا — 2. الناقل القطري للمياه — 3. الرياح الجنوبية الغربية العكسية —
4. دولة سوريا)



السؤال الثالث: (20 علامة)

أ. أبين الموقع الفلكي والجغرافي والخصائص المناخية للإقليم المعتدل البحري (إقليم غرب أوروبا). (6 علامات)

الموقع الفلكي	الموقع الجغرافي	الخصائص العامة للإقليم
60-45 درجة شمال وجنوب خط الاستواء	<ul style="list-style-type: none">يقع شمال وغرب قارة أوروبا (من البرتغال حتى جنوب شبه جزيرة اسكندنافيا والجزر البريطانية)أمريكا الشمالية من شمال كاليفورنيا حتى جنوب ألاسكا.أمريكا الجنوبية جنوب تشيليجنوب غرب استراليا	<ul style="list-style-type: none">الأمطار تسقط طوال العام وتزداد في فصل الخريف والشتاءدرجات الحرارة معتدلة صيفا وباردة شتاءً

ب. أعدد مخاطر العواصف الرعدية.

(2.5 علامة)

إعطاب الأجهزة الكهربائية واشعال الحرائق في الغابات والمنازل وتسبب الحروق والوفاة للإنسان وحدوث الفيضانات.

ج. أصنف الدول حسب المساحة.

(5 علامات)

النوع حسب المساحة	المساحة	أمثلة عليها
دول ذات مساحة كبيرة جداً	أكثر من 2.5 مليون كم	الصين، الهند، البرازيل
دول ذات مساحة كبيرة	من نصف مليون - 2.5 مليون كم	الجزائر، مصر، السودان
دول ذات مساحة متوسطة	من مئة ألف - نصف مليون كم	سوريا، العراق، بريطانيا
دول ذات مساحة صغيرة	من عشرة آلاف - مئة ألف كم	فلسطين، لبنان، الأردن
دول ذات مساحة صغيرة جداً	أقل من عشرة آلاف كم	البحرين، الفاتيكان، سان مارينو

د. أفرن بين سياحة الحوافز والسياحة الترفيهية.

(4 علامات)

سياحة الحوافز	السياحة الترفيهية
تتم من خلال المشاركة في رحلات تقدمها المؤسسات والمصانع والشركات مكافأة للأفراد بهدف تحفيزهم وزيادة إنتاجهم أو بهدف الترويج.	تتم من خلال استغلال وقت الفراغ للاستمتاع والترويج عن النفس من خلال زيارة الشواطئ البحرية والمنتزهات وهي أكثر أنواع السياحة انتشاراً وشيوعاً وخاصة في فترات العطل والاجازات.

هـ. ارسم خريطة لمنطقة مضيق جبل طارق موضحاً عليها:

(2.5 علامة)

(دولة أسبانيا، مدينتي سبتة وملية، المحيط الأطلسي، مستعمرة جبل طارق)



انتهت الأسئلة