

المادة: المواد الاجتماعية
الفترة:
المدسة:
اسم الطالب/ة:
الشعبة:

10 درجات

السؤال الأول : ضع دائرة حول رمز الإجابة الصحيحة فيما يلي :-

1. تمتد البيئة المعتدلة بين دائرتي خط عرض شمال وجنوب خط الاستواء
(30/0 - 60/ 30- 60/45 - 40/30)
2. وصل معدل النمو السكاني في فلسطين عام 2016 م
(1 % - 1.7 % - 3 % - 2 %)
3. يوجد مقر منظمة اليونسكو للثقافة والعلوم في مدينة
(روما - باريس - فاس - جينيف)
4. يشكل المسلمون من نسبة الأديان في العالم
[23% - 10% - 22% - 32%]
5. قامت حرب الثلاثين عام في قارة
(آسيا - أفريقيا - أوروبا - أستراليا)
6. من الأسباب الطبيعية لحدوث المجاعات كل ما يلي عد (الجفاف - الاستعمار - الصقيع - الآفات الزراعية)
7. من الدول ذات النمو السكاني المتوسط
(البحرين - اليمن - مصر - السعودية)
8. أكثر الدول تعدداً للمعتقدات والأديان
(الهند - الصين - المغرب - إنجلترا)
9. تعرضت دولة عام 1951 م لموجات البرد والصقيع
أ- فلسطين ب- الصومال ج- أثيوبيا د- السودان
10. من الدول التي تشهد حروب أهلية في الوطن العربي حالياً (العراق - سوريا - الصومال - كل ما سبق)

5 درجات

السؤال الثاني : ضع علامة صح أمام العبارة الصحيحة وعلامة خطأ أمام الخاطئة :-

1. () يمارس جماعة الأسكيمو حرفة جمع البيض وصيد السمك .
2. () يقل سكان قارة أستراليا في الشمال بسبب البرد الشديد .
3. () من أمثلة التنوع الحضاري الإيجابي الحضارة العربية الإسلامية .
4. () منظمة الفاو منظمة أنشأتها جامعة الدول العربية لتحقيق التنمية الدولية .
5. () شهدت كوريا مجاعة كبيرة بسبب تفشي الأمراض .

5 درجات

السؤال الثالث : اكتب ما تدل عليه العبارات التالية :-

- (.....) توزيع السكان حسب بعض الخصائص مثل النوع والعمر .
- (.....) سلالة بشرية تمثل حوالي نصف سكان العالم ببشرة بيضاء وشعر متموج وشفاه رفيعة .
- (.....) الفرق بين عدد المواليد الأحياء وعدد الوفيات.
- (.....) تقوم على المواجهة بين طرفين أو أكثر باستخدام أنواع مختلفة من الأسلحة .
- (.....) التزايد المفرط والمتسارع في عدد السكان فيختل فيه التوازن بين أعداد السكان وحاجاتهم من الموارد الغذائية والاقتصادية .

1. أقل قارات العالم سكاناً هي قارة أفريقيا . (.....)
2. تعد الألبان والأحاجي والشعر من التراث المادي . (.....)
3. نص حق تقرير المصير على عودة اللاجئين الفلسطينيين وتعويضهم . (.....)
4. تهتم منظمة اليونسكو بالطفولة . (.....)
5. تعرض سد العالي في اليمن للزلازل قديماً . (.....)

5 درجات

السؤال الخامس : اقرأ النص التاريخي ثم أجب عن الأسئلة التي تليه :-

" تركت الحرب العالمية الثانية أثراً كبيراً على معظم دول العالم في المجالات الاقتصادية والسياسية والاجتماعية وانعكس ذلك على المجتمع الدولي الذي تضرر مادياً وبشراً كما أدت إلى مقتل الملايين من المدنيين والعسكريين وتشريد الملايين من الناس "

1. متى اندلعت الحرب العالمية الثانية .

١. اذكر النتائج الاجتماعية المترتبة على الحرب العالمية الثانية .

5 درجات

السؤال السادس : أجب عن الأسئلة التالية :-

أ - بِمَ تفسر :-

٢. انتشار المجاعات في بعض المناطق في قارة أفريقيا .

السبب /

2. صعوبة ظروف الحياة في البيئة الاستوائية.

السبب /

ب - ما النتيجة المترتبة علي :

- الزيادة السكانية في العالم بشكل كبير .

النتيجة /

ج- اقترح حلاً :-

الانفجار السكاني في العالم .

الحل /

د. (من يمتلك المال يمتلك القرار)

برهن على صحة العبارة التالية في ضوء معطيات القضية الفلسطينية .

.....
.....

السؤال السابع : رسالة

5 درجات

اكتب رسالة من ثلاثة سطور موجهة للأمين العام للأمم المتحدة لحل قضية اللاجئين الفلسطينيين بعد أكثر من 70 عام على النكبة الفلسطينية .

.....

.....

.....

السؤال الثامن : أمامك خريطة صماء للعالم حدد عليها :-

5 درجات



١ - خط الاستواء



٢ - المحيط الأطلسي



٣ - موطن الهنود الحمر



٤ - دولة روسيا



٥ - جزيرة جرين لاند

المادة: المواد الاجتماعية
الفترة:
المدسة:
الدرجة:
اسم الطالب/ة:
الشعبة:

السؤال الأول : ضع دائرة حول رمز الإجابة الصحيحة فيما يلي :- 10 درجات

1. تمتد البيئة المعتدلة الدافئة بين دائرتي عرض و شمال وجنوب خط الاستواء
(30 - 40 _ 45 - 60 _ 30 - 60)
2. من الدول الاستوائية التي شهدت تطور صناعي وزراعي (السودان - الصومال - إندونيسيا - السنغال)
3. مدينة فلسطينية تشتهر بزراعة البرتقال (أريحا - يافا - حيفا - بئر السبع)
4. ينتشر الزنوج في قارة [آسيا - أفريقيا - أمريكا الشمالية - أوقيانوسيا]
5. تبلغ نسبة الشباب فلسطين (57.9% - 39.2% - 2.9% - 14%)
6. عقد المؤتمر التأسيسي الإيسيسكو في مدينة [القاهرة - فاس - الرباط - دمشق]
7. من الصناعات الاستخراجية في الوطن العربي وأوروبا (النفط و الفحم - الغاز - جميع ما سبق)
8. تأسس مجلس التعاون الخليجي عام (1957م - 1986م - 1981م - 1975م)
9. أي الحروب الآتية تعد مثلاً على الصراعات التي حملت طابعاً دينياً (حرب الخليج الثانية - الحروب الفرنجية - الحروب العثمانية الروسية - الحروب الألمانية الفرنسية)
10. قرار الأمم المتحدة الذي ينص على حق عودة اللاجئين الفلسطينيين إلى ديارهم يحمل رقم (242 - 338 - 194 - 181)

السؤال الثاني : ضع علامة صح أمام العبارة الصحيحة وعلامة خطأ أمام الخاطئة :- 5 درجات

1. () تسقط الأمطار والثلوج في إقليم التندرا في فصل الشتاء .
2. () يقل السكان في مناطق الجبال والهضاب في وسط آسيا .
3. () شكلت أمريكا نسيجاً اجتماعياً واحداً في ظل نظام سياسي واحد .
4. () تساهم المنظمات الدولية في تقليص الفجوة بين الدول الغنية والفقيرة التي تهدد التنوع الحضاري .
5. () منظمة الفاو منظمة أنشأتها جامعة الدول العربية لتحقيق التنمية .

السؤال الثالث : اكتب ما تدل عليه العبارات التالية :-

6 درجات

1. (.....) هو التراث غير الملموس وتتناقله الأجيال مثل الأغاني والأمثال الشعبية ..
2. (.....) توزيع السكان حسب العمر .
3. (.....) التنوع والتعدد بين مختلف الحضارات والثقافات .
4. (.....) التغيير في عدد السكان لمنطقة ما خلال فترة زمنية معينة ..
5. (.....) زراعة تنتشر في مناطق الكثافة السكانية المرتفعة وتعتمد على الأيدي العاملة ..
6. (.....) الوسط الذي تعيش فيه الكائنات الحية من إنسان وحيوان ونبات .

السؤال الرابع : صحح ما تحته خط في العبارات التالية :-

5 درجات

1. تأسست منظمة التجارة العالمية عام 1945 . (.....)
2. استمرت الحرب الأهلية اللبنانية مدة خمس سنوات . (.....)
3. تعد الألغاز والأحاجي والشعر من التراث المادي . (.....)
4. حصلت فلسطين على العضوية الكاملة في اليونسكو عام 2013 . (.....)
5. الأيكروم منظمة إسلامية تهتم بالتراث الحضاري الإنساني في العالم . (.....)

السؤال الخامس : اقرأ النص التاريخي ثم أجب عن الأسئلة التي تليه :-

5 درجات

تعرض المغرب الأقصى عام 1779 لموجة جفاف حادة ، انحبس المطر و غزت أسراب الجراد و انعدمت الأقوات و الأغذية ، و حلت المجاعات ، و هلك ما يقارب خمسة ملايين نسمة .

- أكمل الفراغ :-

1. تعرض المغرب الأقصى للجفاف عام
2. هلك في المغرب بسبب الجفاف نسمة .

السؤال السادس : أجب عن الأسئلة التالية :-

5 درجات

أ. بَمَ تفسر :-

1. ضعف النشاط الزراعي والصناعي والخدماتي في الناتج الإجمالي لفلسطين .
السبب /

2. تأسيس اللجنة الدولية للصليب الأحمر عام 1876م .
السبب /

ب. اقترح حلاً :-

- مشكلة الاكتظاظ السكاني في قطاع غزة .

الحل /

السؤال السابع : رسالة

5 درجات

- اكتب رسالة لمحكمة العدل الدولية تتحدث فيها عن نتائج الحروب .

.....
.....

أ. البيئة المعتدلة

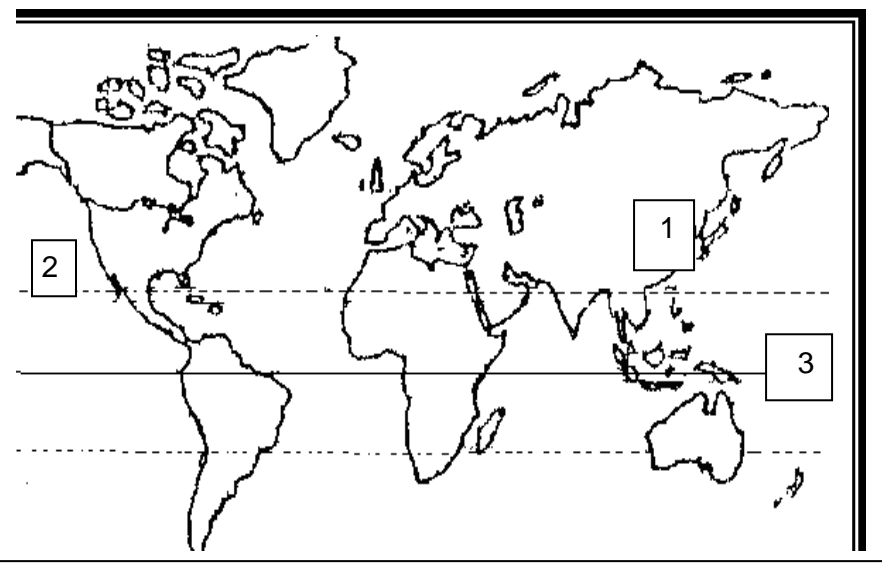
ب. السلالة الزنجية

ج. اكتب دلالة الأرقام على الخريطة :-

١. دولة ذات نمو سكاني منخفض

٢. المحيط

٣. خط



مع تمنياتي لكم بالتوفيق و النجاح

المادة: المواد الاجتماعية
الفترة:
المدسة:
الدرجة:
اسم الطالب/ة:
الشعبة:

10 درجات

السؤال الأول : ضع دائرة حول رمز الإجابة الصحيحة فيما يلي:-

1. كل ما يلي من مناطق البيئة الاستوائية عدا
أ- حوض نهر الأمازون ب- إقليم الكايج ج- الجزر الإندونيسية د- حوض نهر الكونغو
2. من مناطق البيئة الباردة في قارة آسيا
أ- سيبيريا ب- السويد ج- النرويج د- الدنمارك
3. بلغ معدل النمو السكاني في الدول النامية حسب إحصائية 2016 م
أ- 3% ب- 1.7% ج- 2% د- 1%
4. يقل السكان في أمريكا الجنوبية في
أ- السهول الساحلية ب- سهول نهر الأمازون ج- هضبة بتاجونيا د- (ب + ج) معاً
5. صادقت الإيسيسكو على قرار تشجيع التفاعل الثقافي في مؤتمرها التأسيسي عام
أ- 1882 م ب- 1982 م ج- 1782 م د- 1928 م
6. من الموارد غير اللموسة
أ- السياسات الحكومية ب- التنظيم ج- التخطيط د- جميع ما سبق
7. الصراع بين بلغاريا ويوغسلافيا واليونان على إقليم
أ- البلقان ب- صربيا ج- مقدونيا د- كرواتيا
8. المناسبة التي يحتفل بها العالم سنوياً في الحادي عشر من تموز
أ- يوم المرأة العالمي ب- يوم البيئة العالمي ج- يوم السكان العالمي د- يوم التراث العالمي
9. 1- شهدت فلسطين عام غزوات للجراد عملت على تدمير المحاصيل الزراعية
أ- 1916 ب- 1951 ج- 1970 د- 2003
10. طالب قرار عام 2007 م الاحتلال الصهيوني بوقف الحفريات في
أ- طريق باب المغاربة ب- كنيسة القيامة ج- المسجد الإبراهيمي د- باب العامود

5 درجات

السؤال الثاني : ضع علامة صح أمام العبارة الصحيحة وعلامة خطأ أمام الخاطئة : -

1. () من أشهر الحيوانات التي تعيش في البيئة الاستوائية حيوان الرنة وثور المسك .
2. () تعتبر المعادن والبترول من مصادر الطاقة المتجددة .
3. () يعد قطاع غزة من أكثر المناطق ازدهاماً بالسكان .
4. () يعد الاتحاد الأوروبي أقوى دول العالم زراعياً واقتصادياً .
5. () تعتبر اللغة اليابانية لغة محلية .

5 درجات

السؤال الثالث : اكتب ما تدل عليه العبارات التالية :-

1. (.....) منظمة الأمم المتحدة للتربية والعلوم والثقافة مقرها باريس .
2. (.....) الموروثات من المقتنيات المادية والمعنوية من الاجيال السابقة ويتم تناقلها عبر الأجيال
اللاحقة
3. (.....) هو النقص الشديد في المواد الغذائية اللازمة لحياة السكان في منطقة ما خلال فترة زمنية محددة
4. (.....) مواد عضوية توجد في التربة نتيجة تحلل أوراق الأشجار .
5. (.....) الفرق بين عدد المواليد الأحياء وعدد الوفيات.

السؤال الرابع : صحح ما تحته خط في العبارات التالية :-

5 درجات

1. 14- انهار الاتحاد السوفيتي عام 1989م. ()
2. تعتبر منظمة الفاو منظمة عربية تهدف لإيجاد حلول لضحايا المجاعات . ()
3. أحدثت أسباب الحروب الأسباب الدينية ()
4. من المخاطر الطبيعية التي تهدد التراث الحروب . ()
5. ترجع أسباب حرب الثلاثين عاماً في أوروبا لأسباب قومية . ()

السؤال الخامس : اقرأ النص التاريخي ثم أجب عن الأسئلة التي تليه :-

5 درجات

" انبثقت فكرة وضع حد للمعاناة التي تسببها الحروب علي يد هنري دونان بعد معركة سولفرينو 1859 لحفظ حقوق الأسري و الجرحي أثناء الحروب .

1. من أكون : صاحب فكرة الحد من المعاناة التي تسببها الحروب
أكمل : وقعت معركة سولفرينو عام

السؤال السادس : أجب عن الأسئلة التالية :-

5 درجات

أ. بـم تفسر :-

1. الانفجار السكاني في العالم.

..... / السبب /

٢. ضعف الاقتصاد الفلسطيني .

..... / السبب /

ب. ما النتيجة المترتبة على :-

- انخفاض مستوى التعليم لدى المرأة .

..... / النتيجة /

ج . ماذا يحدث لو :-

- زادت نسبة صغار وكبار السن في الدولة .

..... / يحدث /

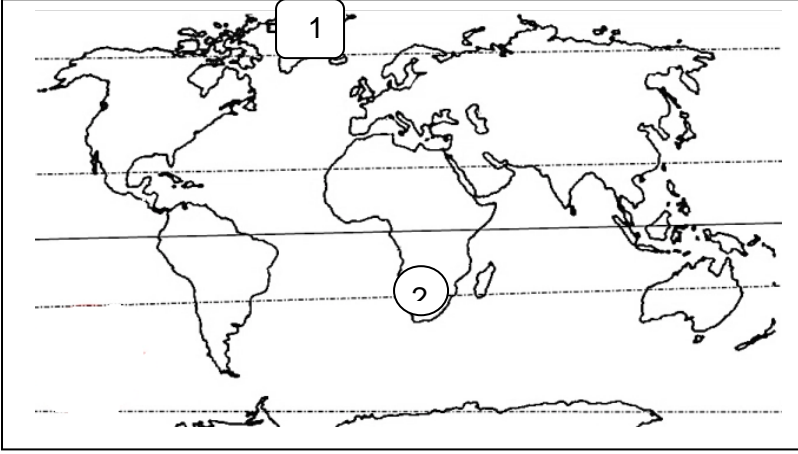
د. اقترح حلاً :-

- مواجهة خطر المجاعات .

..... / الحل /

هـ. برهن على : محاولات الاحتلال الصهيوني لتدمير الاقتصاد الفلسطيني .

.....



أ. أكبر قارات العالم من حيث عدد السكان .

ب. البيئة الباردة في قارة أمريكا الشمالية .

ج. أماكن انتشار السلالة المغولية .

د. اكتب ما تشير إليه الأرقام التالية :-

1. جزيرة

2. هضبة

مع تمنياتي لكم بالتوفيق و النجاح 🌸

المادة: المواد الاجتماعية
الفترة:
المدسة:
الدرجة:
اسم الطالب/ة:
الشعبة:

10 درجات

السؤال الأول: ضع دائرة حول رمز الإجابة الصحيحة فيما يلي :-

1. تمتد بيئة الاستوائية بين دائرتي عرض (0-5 _ 30-40 _ 60-90 _ 50-70)
2. من أمثلة البيئة المعتدلة الباردة الإقليم (اللورنسي - الصيني - الصحاري المعتدلة - البحر المتوسط)
3. من النباتات التي تنمو في البيئة الباردة (زهرة القطن - الصبار - الأبانوس - الأرز)
4. تنتشر الزراعة الواسعة في دولة (فلسطين- الولايات المتحدة الأمريكية - مصر - كوبا)
5. بدأت تبادل وجهات النظر بين الدول المتقدمة صناعياً (1989 - 1975 - 1970 - 1980)
6. تعتبر الحرب الليبية التشادية حرب (أهلية - إقليمية - عالمية)
7. يوجد أكثر من مليون شخص في العالم محروم من الغذاء الكافي (500-600 - 300-800)
8. اختيرت عام 2009م عاصمة الثقافة العربية (دمشق - القدس - بيروت - الدوحة)
9. من الأسباب الطبيعية لحدوث المجاعات كل ما يلي عدا (الجفاف - الاستعمار - الصقيع - الآفات الزراعية)
10. من النتائج السياسية للحروب (انهيار إمبراطوريات ودول - اختلال التركيب النوعي - تدمير المطارات - تدمير الموانئ)

5 درجات

السؤال الثاني : ضع علامة صح أمام العبارة الصحيحة وعلامة خطأ أمام الخاطئة :-

1. () ترتفع نسبة كبار السن التي تزيد أعمارهم عن 65 سنة في الدول المتقدمة .
2. () تنتشر الزراعة الكثيفة في أستراليا والولايات المتحدة الأمريكية .
3. () من حيوانات البيئة الاستوائية القروذ والسناجب .
4. () من النتائج السياسية المترتبة عن الحروب الانقلابات العسكرية .
5. () من الآثار السلبية للانفجار السكاني انتشار الجوع والفقر .

5 درجات

السؤال الثالث : صحح ما تحته خط في العبارات التالية :-

1. (.....) يعد رأس المال من الموارد الاقتصادية المتجددة .
2. (.....) تظهر ظاهرة الفقر والجوع في الدول المتقدمة .
3. (.....) تعتبر دولة فلسطين ذات نمو سكاني متوسط يصل إلى 3% .
4. (.....) يقل السكان بسبب البرودة في آسيا في شبه جزيرة اسكندنافيا .
5. (.....) قامت الحرب الباردة بين روسيا وإنجلترا .

5 درجات

السؤال الرابع : أقرأ النص التاريخي ثم أجب عن الأسئلة التي تليه :-

" شهد العالم بعد انتهاء الحرب العالمية الثانية تعاوناً في المجال الاقتصادي بهدف تحقيق التكامل الاقتصادي وزيادة الإنتاج والاستفادة من الموارد المختلفة وقد ظهرت منظمات وهيئات عالمية تهدف إلى تعزيز التعاون الاقتصادي الدولي مثل منظمة التجارة العالمية التي تأسست في عام 1948م "

1. متى بدأ التعاون الدولي في المجال الاقتصادي .

2. اذكر الأهداف التي يمكن للدول أن تحققها عبر التعاون الاقتصادي .

3. متى تأسست منظمة التجارة العالمية .

4. ما هي أهداف منظمة التجارة العالمية .

5 درجات

السؤال الخامس : أجب عن الأسئلة التالية :-

أ. بِمَ تفسر :-

1. سقوط الأمطار على بيئة البحر المتوسط .

السبب /

2. أرض البيئة القطبية لا تصلح للزراعة .

السبب /

ب. ما النتيجة المترتبة على :-

- انتشار المجاعات في العالم .

النتيجة /

ج- اقترح حلاً :-

- سيطرة إسرائيل على مصادر الاقتصاد الفلسطيني .

الحل /

د. برهن على : أن الاستعمار الصهيوني يعمل على طمس التراث الفلسطيني .

5 درجات

السؤال السادس : رسالة

اكتب رسالة إلى منظمة التعاون الإسلامي تطلب منها حماية القدس والمقدسات الإسلامية فيها من التهويد .



١. قارة تنتشر السلالة القوقازية *
٢. قارة ترتفع بها نسبة كبار السن #.
٣. قارة تنتشر بها زراعة واسعة +.
٤. ظلل البيئة الاستوائية
٥. عين المحيط الهندي

مع تمنياتي لكم بالتوفيق و النجاح 🌿

المادة: المواد الاجتماعية
المدسة:
الدرجة:
الفترة:
اسم الطالب/ة:
الشعبة:

10 درجات

السؤال الأول : ضع دائرة حول رمز الإجابة الصحيحة فيما يلي:-

1. منظمة أنشأتها الأمم المتحدة لحماية التراث العالمي هي (اليونيسيف - اليونسكو - الأونروا - الفاو)
2. يشتهر الوطن العربي بالصناعات (الاستخراجية - النفط - الإلكترونية - السيارات)
3. أي الحروب الآتية تعد مثلاً على الصراعات التي حملت طابعاً دينياً (حرب الخليج الثانية - الحروب الفرنجية - الحروب العثمانية الروسية - الحروب الألمانية الفرنسية)
4. من الأنشطة الاقتصادية الخدمائية ما يلي عدا (النقل - الصناعة - التجارة - السياحة)
5. من اللغات غير المستخدمة في الأمم المتحدة (العربية - الألمانية - الإنجليزية - الروسية)
6. أي من قرارات الأمم المتحدة ينص على عودة اللاجئين الفلسطينيين إلى ديارهم (181 - 194 - 338 - 240)
7. سلالة تمثل 10% من سكان العالم ينتشرون في المناطق القريبة من خط الاستواء (السلالة الزنجية - السلالة القوقازية - السلالة المغولية - سلالة البحر المتوسط)
8. ترتفع نسبة الإناث عن الذكور في بعض المجتمعات لعوامل (هجرة الشباب - مقاومة الأمراض عند الإناث - مشاركة الشباب في الحروب - جميع ما ذكر)
9. من المخاطر البشرية التي تهدد التراث الثقافي العالمي (الزلازل - الآفات - البراكين - الحروب)
10. البيئة التي تمتد فلكياً من (60 - 90) شمال وجنوب خط الاستواء تسمى (البيئة الحارة - البيئة المعتدلة - البيئة الباردة - بيئة البحر المتوسط)

5 درجات

السؤال الثاني : ضع علامة صح أمام العبارة الصحيحة وعلامة خطأ أمام الخاطئة :-

1. () يمتاز مناخ بيئة البحر المتوسط بأنه حار جاف صيفاً معتدل ماطر شتاءً .
2. () تمثل السلالة المنغولية حوالي نصف سكان العالم .
3. () اعتمدت الأمم المتحدة اللغة اليابانية لغة رسمية في مداولاتها الداخلية .
4. () قامت الحرب العالمية الأولى بين دول الوسط ودول الحلفاء .
5. () تقع الدول التي تعاني من المجاعات تحت طائلة المديونية والتبعية للدول الأجنبية نتيجة لتلقيها بعض المساعدات .

5 درجات

السؤال الثالث : اكتب ما تدل عليه العبارات التالية :-

1. (.....) رياح محلية جافة قادمة من الصحراء وتهب على فلسطين .
2. (.....) الحروب الداخلية التي تقوم بين طرفين محليين أو أكثر في الدولة ..
3. (.....) حركة البيع والشراء والربط بين المنتج والمستهلك بواسطة السلع المنتجة .
4. (.....) معاهدة تحظر استخدام الألغام الأرضية أو نقلها وتخزينها وتلزم الدول بإزالتها .
5. (.....) منظمة الأغذية والزراعة التابعة للأمم المتحدة .

5 درجات

السؤال الرابع : صحح ما تحته خط في العبارات التالية :-

1. أقل قارات العالم سكاناً هي قارة أفريقيا . (.....)
2. بدأت الحروب في أوروبا بقيام الثورة الفرنسية . (.....)
3. نص حق تقرير المصير على عودة اللاجئين الفلسطينيين وتعويضهم . (.....)
4. تهتم منظمة اليونسكو بالطفولة . (.....)
5. تعرض سد العالي في اليمن للزلازل قديماً . (.....)

5 درجات

السؤال الخامس : اقرأ النص التاريخي ثم أجب عن الأسئلة التي تليه :-

" نصت المادة الرابعة من اتفاقية لاهاي لعام 1954 على حماية الممتلكات الثقافية، وأن تتعهد الأطراف الموقعة على الاتفاقية بضرورة تحريم سرقتها، ونهبها وتبديدها، أو تدميرها ووقايتها من الأعمال التي تضر بها، وتحريم أي عمل تخريبي موجه ضد هذه الممتلكات وعدم الاستيلاء على الممتلكات الثقافية المنقولة القائمة في أراضي أي من الأطراف المتعاقدة وينطبق هذا على التراث الفلسطيني المنقول وغير المنقول، وفي مقدمته مدينة القدس "

1. ما هي الاتفاقية التي تهتم بالتراث الثقافي .

2. ما واجب الدول الموقعة على الاتفاقية اتجاه الممتلكات الثقافية .

3. ما هي المقدسات الفلسطينية التي لا يجب الاستيلاء عليها وتخريبها .

4. ما واجبنا اتجاه المقدسات الفلسطينية .

5 درجات

السؤال السادس : أجب عن الأسئلة التالية :-

أ. بِمَ تفسر :-

1. 10. يقل السكان في أمريكا الشمالية في شمال كندا.

السبب /

2. 13. تعد البيئة المعتدلة مركز جذب سياحي.

السبب /

ب. ما النتيجة المترتبة على :-

- هجرة الشباب من الريف إلى المدينة .

النتيجة /

ج . ماذا يحدث لو :-

زادت نسبة صغار وكبار السن في الدولة .

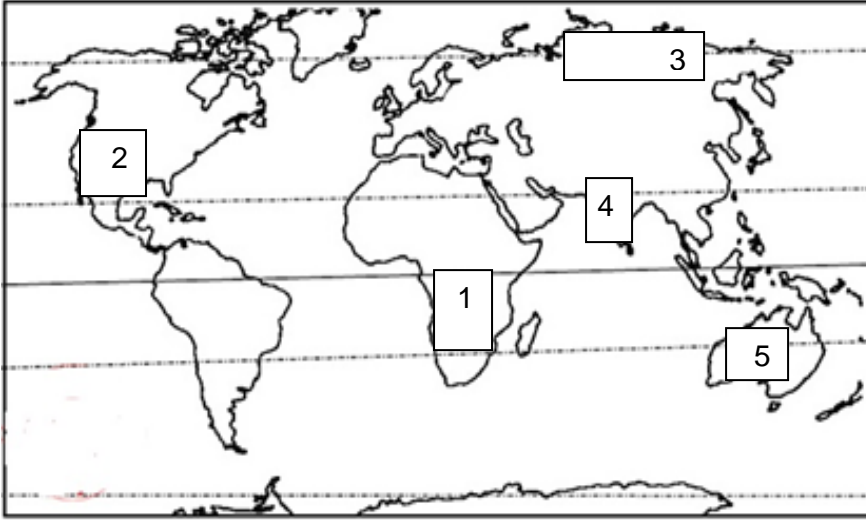
يحدث /

د. برهن على أن التعاون الاقتصادي بين الدول يساهم في تحقيق الأمن الغذائي ومحاربة الفقر .

5 درجات

السؤال السابع : رسالة

اكتب رسالة من ثلاثة سطور موجهة للأمين العام للأمم المتحدة لحل قضية اللاجئين الفلسطينيين بعد أكثر من 70 عام على النكبة الفلسطينية .



1. موطن السلالة
2. دولة متقدمة صناعياً
3. بيئة
4. دولة ذات نمو سكانية متوسط
5. منطقة ذات زراعة واسعة

مع تمنياتي لكم بالتوفيق و النجاح